



دولة الكويت
وزارة التربية
التوجيه الفني العام للاجتماعيات

امتحان نهاية الفترة الدراسية الأولى
لمقرر (علم النفس و علم الاجتماع)
للسف الحادي عشر- القسم الأدبي

العام الدراسي: ٢٠٢٣/٢٠٢٤ م
زمن الإجابة: ساعتان وربع
عدد الأوراق : (٥)

أجب عن جميع الأسئلة

السؤال الأول (موضوعي) ويتكون من (أ - ب - ج - د) :

(أ) أكمل العبارات التالية بما يناسبها مما درست :

- ١- مادة كيميائية معقدة التركيب تفرزها الغدة مباشرة في الدم تسمى
- ٢- الهدف الموجود في البيئة الخارجية والذي يسعى الإنسان إلى الوصول إليه يسمى
- ٣- إدراك العلاقات الرئيسية التي يتوقف عليها حل مشكلة ما يسمى
- ٤- العالم العربي الذي كانت له البدايات الأولى والأساسية لعلم الاجتماع اسمه

(ب) اكتب الرابط المناسب للعناصر التالية :

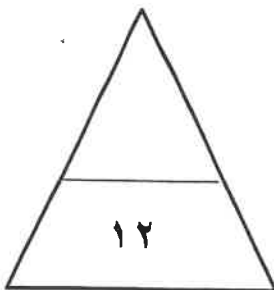
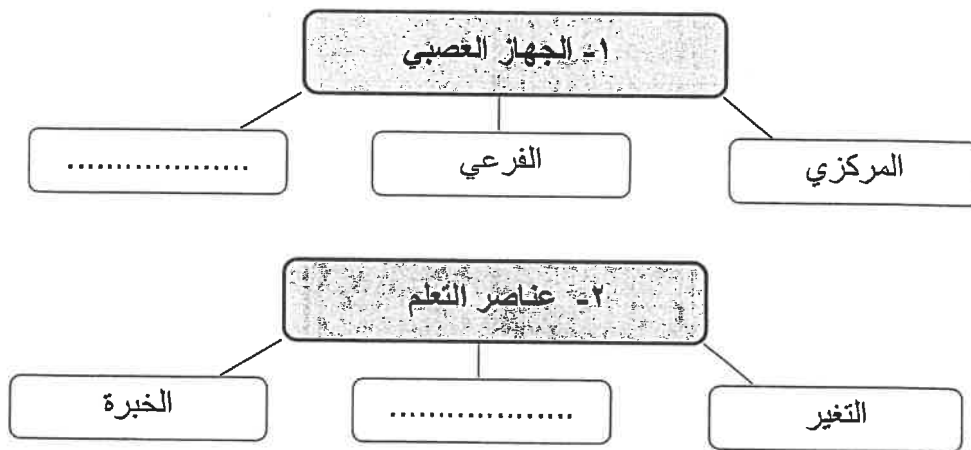
- ١- الغدة النخامية - الغدة الدرقية - البنكرياس - الغدة الكظرية
.....
- ٢- التملك - السيطرة - الحاجة إلى التنفس - الحاجة إلى الإنجاز
.....
- ٣- الخوف - القلق - الفرح - الغيرة
.....
- ٤- الأسرة - المدرسة - المسجد - الأقران
.....

تابع / السؤال الأول (الموضوعي) :

(ج) اختر للمجموعة (أ) ما يرتبط بها من المجموعة (ب) بوضع الرقم المناسب :

م	المجموعة (أ)	الرقم المناسب	المجموعة (ب)
١	المكان الذي يحتله الفرد في المجتمع والذي تحدد مسبقاً على أساس العمر أو الجنس أو النسب أو المهنة .	(...)	التفاعل الاجتماعي
٢	مجموع السمات والخصائص المشتركة التي تميز أمة أو مجتمع أو وطن أو فرد معين عن غيره ويعتز بها .	(...)	الأدوار الاجتماعية
٣	العملية التي عن طريقها يسعى المجتمع لضمان امتثال جميع أعضائه للمعايير الاجتماعية السائدة .	(...)	المكانة الاجتماعية
٤	العمليات المتبادلة بين طرفين اجتماعيين أو أكثر في موقف اجتماعي معين .	(...)	الهوية الاجتماعية
		(...)	الضبط الاجتماعي

(د) أكمل المخططات السهمية التالية :



الدرجة بالحروف

السؤال الثاني : (مقال) ويتكون من [أ ، ب ، ج] :

(أ) علّل لما يلي :

١- تسمية الغدة النخامية (بالمسيطرة أو القائدة).

..... -

٢- يؤدي انفعال الخوف وظيفة حيوية مهمة.

..... -

(ب) اكتب فيما يلي :

١ - خصائص الدوافع الفطرية .

..... -

..... -

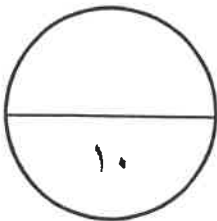
٢- دور المسجد في عملية التنشئة الاجتماعية .

..... -

..... -

(ج) فرق بين كل مما يلي:

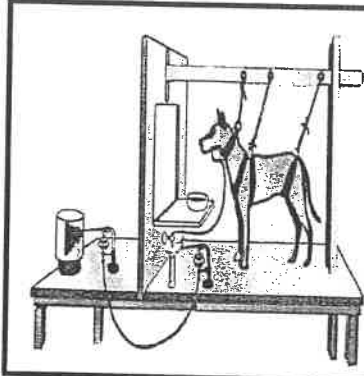
الملاحظة المنتظمة	الملاحظة البسيطة
..... - -
الأسرة الممتدة	الأسرة النوواة
..... - -



الدرجة بالحروف

السؤال الثالث: (مقالي) ويتكون من [أ ، ب ، ج] :

(أ) لاحظ الصورة المقابلة أمامك ثم اجب عن الأسئلة التالية :



١- اكتب - اسم العالم الروسي الذي أجرى التجربة في الصورة المقابلة .

..... -

٢- ماذا يحدث لو - استمرقرع الجرس في هذه التجربة دون تقديم طعام

للكلب مدة طويلة .

..... -

(ب) قارن بين كل من :

الغدة الكظرية	الغدة الدرقية	أوجه المقارنة
..... - -	موقعها في الجسم
..... - -	وظيفتها

(ج) عدد لكل مما يلي :

١- العوامل التي أدت إلى نشأة علم الاجتماع .

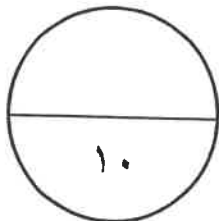
..... -

..... -

٢- أنواع الأدوار .

..... -

..... -



الدرجة بالحروف

السؤال الرابع : (مقالي) ويتكون من [أ ، ب ، ج] :

(أ) اقرأ الفقرة التالية ثم أجب عما يليها من أسئلة :

تعتبر جماعة الأقران من المؤسسات التي تتيح للطفل حرية واسعة في مجال تحقيق الهوية واكتشاف الذات ، وغالباً ما ينظر الي جماعات الأقران بوصفها جماعات لهو وتسلية عند الأطفال ولكن علماء الاجتماع أكدوا على أهمية هذه الجماعات ودورها التربوي الذي تلعبه في إعداد الأطفال وتنشئتهم فكرياً وانفعالياً واجتماعياً.

١- عرّف ما تحته خط في الفقرة السابقة .

.....

٢- اكتب - دور جماعة الأقران في التنشئة الاجتماعية.

.....

.....

.....

(ب) أكتب النتيجة المترتبة على كل مما يلي :

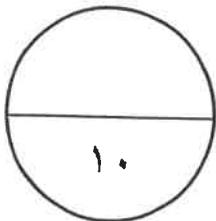
.....	١- زيادة هرمون النمو في فترة الطفولة والمراهقة .
.....	٢- نقص الأنسولين في الدم .
.....	٣- معرفة الشخص نتيجة عمله والدرجات التي يحصل عليها .
.....	٤- الإسراف في التوجيه والإرشاد للمتعلم .

(ج) دال على صحة العبارة التالية :

" الجهاز العصبي له أهمية كبيرة الشأن في حياة الإنسان "

.....

.....



انتهت الأسئلة

الدرجة بالحروف



وزارة التربية
التوجيه الفني العام للاجتماعيات

العام الدراسي : ٢٠٢٢/٢٠٢٣ م
الزمن : ساعتان وربع
عدد الصفحات : (٥)

امتحان نهاية الفترة الدراسية الأولى
لمقرر (علم النفس و علم الاجتماع)
للسف الحادي عشر - القسم الأدبي

أجب على جميع الأسئلة

السؤال الأول : (موضوعي) ويتكون من (أ - ب - ج) :

(أ) أكمل العبارات التالية بما يناسبها مما درست :

- ١- تقديم شيء جذاب أو مرغوب فيه كمحصلة لسلوك ما يسمى
- ٢- جماعة تتكون من أشخاص متقاربين في العمر والسمات الشخصية والجنس والوضع السكني والاجتماعي تسمى
- ٣- قائد حركة الحقوق المدنية في الولايات المتحدة الأمريكية اسمه
- ٤- الغدة التي تتحكم في كثير من وظائف الجسم وسميت بالغدة المسيطرة أو القائدة تسمى

(ب) ظلل الخيار الصحيح من بين الخيارات التي تلي كل عبارة :

- ١- فرع من فروع علم النفس يؤدي إلى تعديل سلوك الفرد واكتساب عادات جديدة ومهارات مختلفة :

علم النفس العام	علم النفس التعليمي	علم النفس الاكلينيكي	علم النفس الطفل
-----------------	--------------------	----------------------	-----------------

- ٢- أحد مكونات الهوية الاجتماعية :

الجنسية	الموقع الجغرافي	الطبقة الاجتماعية	العادات والتقاليد
---------	-----------------	-------------------	-------------------

- ٣- من الحاجات الجسمية في هرم ماسلو :

تحقيق الذات	الجمالية	التقبل	الألم
-------------	----------	--------	-------

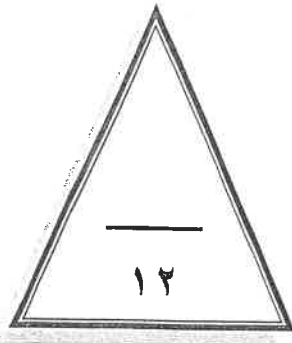
- ٤- أحد أدوات جمع البيانات و تستخدم في الأبحاث الصحفية والأدبية وفي كثير من المجالات العلمية :

الملاحظة	المقابلة	تحليل المضمون أو المحتوى	الاستبيان
----------	----------	--------------------------	-----------

تابع السؤال الأول (موضوعي) :

(ج) صوب ما تحته خط في العبارات التالية

م	العبارة	التصويب
١-	مرحلة المجتمعات القبلية القائمة على التنقل والترحال هي المجتمعات <u>الحضرية</u>
٢-	يُطلق على ادراك العلاقات الرئيسية التي يتوقف عليها حل مشكله ما اسم <u>الدوافع</u>
٣-	أول من صاغ اصطلاح " علم الاجتماع " وأطلق عليه اسم الفيزياء الاجتماعية اسمه <u>اميل دوركايم</u>
٤-	الهرمون الذي تفرزه الغدة الكظرية (فوق الكلتيين) يسمى <u>الأنسولين</u>



درجة السؤال الأول بالحروف

السؤال الثاني : (مقالى) يتكون من (أ - ب - ج) :

(أ) اقرأ الفقرة التالية ثم أجب عما يليها من أسئلة :

" سلوك الكائن العضوي مدفوع بدوافع معينة بعضها فطري موروث وبعضها مكتسب من البيئة أثناء اختلاطه بغيره من الأفراد ، وللدوافع سواء كانت فطرية أم مكتسبة تأثير في تشكيل السلوك الإنساني ، وفهم الدافعية الإنسانية تصنف الدوافع إلى نوعين حيث تتميز احداها بأنها عامة لدى جميع أفراد النوع وإنها موجودة فطرياً وليست مكتسبة تحدث نتيجة اختلاف في التوازن العضوي والكيميائي للبدن "

١ - استخرج من الفقرة واحدة من خصائص الدوافع الفطرية .

.....

٢- أذكر العلاقة بين الدوافع والانفعالات .

.....

.....

.....

(ب) برهن على صحة العبارات التالية :

١- تعتبر الأسرة من أهم مؤسسات التنشئة الاجتماعية في حياة الفرد .

.....

.....

٢- يقدم علم النفس خدمات كثيرة في مجال الاقتصاد .

.....

.....

(ج) عرف المفاهيم أو المصطلحات التالية :

.....	الهوية الاجتماعية	١
.....	الانفعال	٢
.....	المكائة	٣

درجة السؤال الثاني بالحروف

السؤال الثالث: (مقال) يتكون من (أ - ب - ج) :

(أ) فرق بين كل مما يلي :

التجريب	المنهج التجريبي
.....
الباعث	الحافز
.....

(ب) علل لما يأتي :

١- تسمية الغدد الصماء بهذا الاسم .

..... -

٢- تعتبر عملية التفاعل الاجتماعي أساساً لعملية التنشئة الاجتماعية .

..... -

(ج) اكتب نقطتين حول كل من :

١- قواعد التعلم من خلال نظرية الاقتران الشرطي في تجارب "بافلوف" .

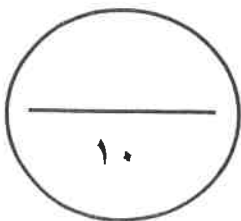
..... -

..... -

٢- الموضوعات التي يهتم بها علم الاجتماع العائلي .

..... -

..... -



درجة السؤال الثالث بالحروف

السؤال الرابع : (مقال) يتكون من (أ - ب - ج) :

(أ) قارن بين كل من :

الغضب	الخوف	أوجه المقارنة
.....	الوظيفة أو الفائدة
.....	وسائل التغلب

(ب) أكتب نقطتين حول كل من :

١- موضوعات منهج المسح الاجتماعي .

.....
.....

٢- محددات الضبط الاجتماعي .

.....
.....

(ج) برهن على صحة العبارات التالية:

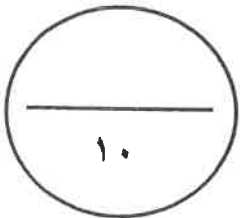
١- نتيجة التدريب الموزع أفضل من نتيجة التدريب المركز .

.....

٢- تعتبر عملية التنشئة الاجتماعية من أهم العمليات الاجتماعية التي تحدث في المجتمع .

.....
.....

درجة السؤال الرابع بالحروف



انتهت الأسئلة

تمنياتنا لكم بالتوفيق ..



العام الدراسي: ٢٠٢١ / ٢٠٢٢ م
الزمن: ساعتان وربع
عدد الأوراق: (٥)

امتحان نهاية الفترة الدراسية الأولى
لمادة: علم النفس وعلم الاجتماع
للمصف الحادي عشر (الأدبي)

دولة الكويت
وزارة التربية
التوجيه الفني العام للاجتماعيات

أجب على جميع الأسئلة

السؤال الأول: (موضوعي) يتكون من (أ ، ب ، ج ، د)

أ- أكمل العبارات التالية بما يناسبها فيما درست:

١. العملية المستمرة التي تشكل الفرد منذ مولده وتعدده للحياة الاجتماعية المقبلة تسمى
٢. تقديم شيء جذاب أو مرغوب فيه كمحصلة لسلوك ما يسمى
٣. النظرية التي تؤكد في تفسيرها للدافعية على العوامل الداخلية تسمى
٤. يطلق على استعادة الجرس قدرته على استثارة واستجابة اللعاب لفترة محدودة

ب- ظلل الخيار الصحيح من بين الخيارات التي تلي كل عبارة:

١. أول من صاغ اصطلاح " علم الاجتماع " والذي أطلق عليه في بادئ الأمر اسم الفيزياء الاجتماعية :

أوغست كونت	إميل دور كايم	بتريم سوركين	ماكيفر - بيج
------------	---------------	--------------	--------------

٢. أحد أدوات جمع البيانات و يستخدم في الأبحاث الصحفية والأدبية وفي كثير من المجالات العلمية :

الملاحظة	المقابلة	تحليل المضمون أو المحتوى	الاستبيان
----------	----------	--------------------------	-----------

٣. انفعال يصنف بأنه من الانفعالات المركبة :

الغضب	الغيرة	الخوف	الفرح
-------	--------	-------	-------

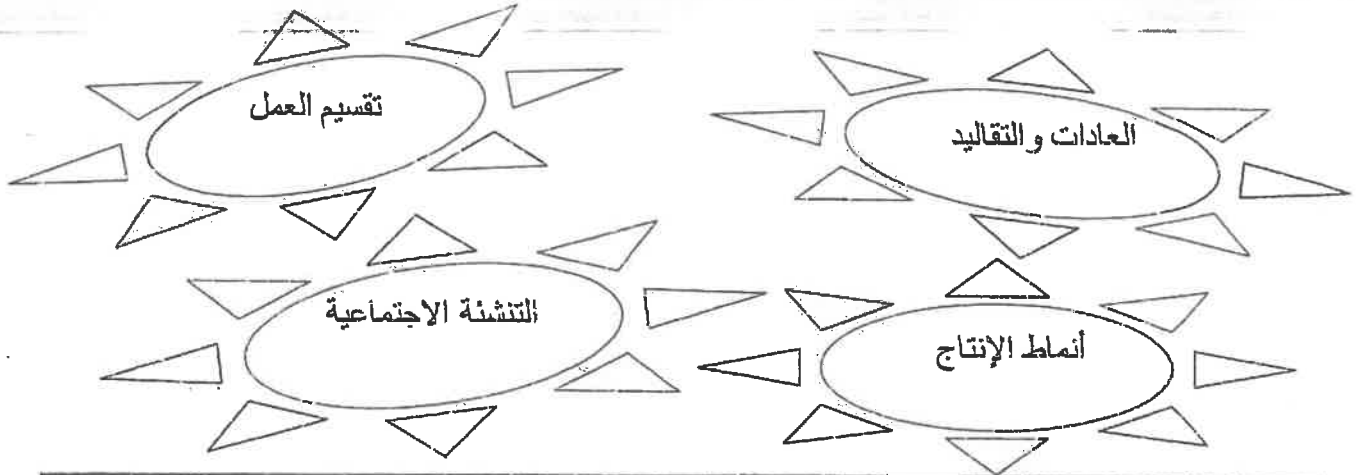
٤. فرع من فروع علم النفس يؤدي إلى تعديل سلوك الفرد واكتساب عادات جديدة :

علم النفس العيادي	علم النفس الاكلينيكي	علم نفس الطفل	علم النفس التعليمي
-------------------	----------------------	---------------	--------------------

تابع \ امتحان علم النفس وعلم الاجتماع - الصف الحادي عشر الأدبي - نهاية الفترة الدراسية الأولى - العام الدراسي ٢٠٢١/٢٠٢٢ م

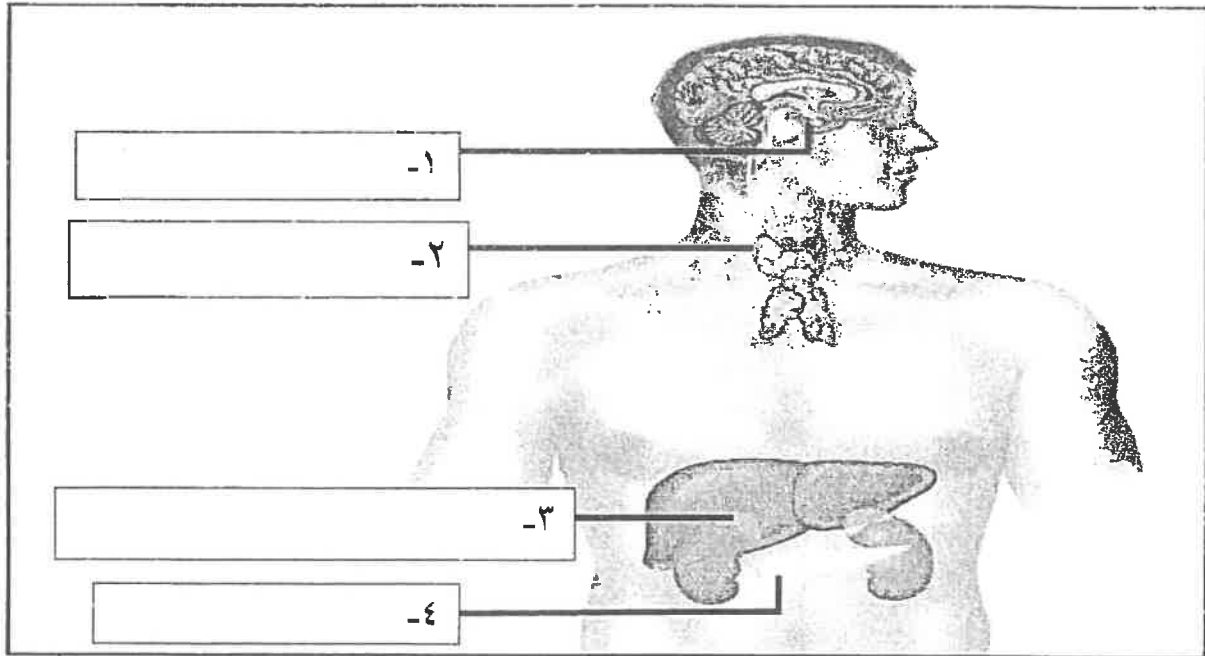
تابع السؤال الأول:

ج- أدرج الكلمات التالية إلى مكانها المناسب في الجدول التالي:



موضوعات علم الاجتماع الاقتصادي	موضوعات علم الاجتماع العائلي

د- اكتب مدلولات الأرقام الموضحة على رسم جهاز الغدد الصماء في جسم الانسان:



درجة السؤال الأول بالحروف

12

السؤال الثاني: (مقالي) يتكون من (أ، ب، ج)
أ - عرف المفاهيم التالية:

١. النضج :
٢. التجريب :
٣. علم الاجتماع (عند ماكيفر - بيج):

ب - علل لما يلي:

١. تعتبر عملية التنشئة الاجتماعية من أهم العمليات الاجتماعية التي تحدث في المجتمع.

٢. للجهاز العصبي أهمية كبيرة الشأن في حياة الإنسان.

٣. ظهور فروع عديدة في علم الاجتماع.

ج - قارن بين كل من:

الغضب	الخوف	أوجه المقارنة
		الوظيفة
		وسائل التغلب على كل منها

درجة السؤال الثاني بالحروف

السؤال الثالث: (مقالي) يتكون من (أ ، ب ، ج)

أ - فسر العلاقة بين كل مما يلي:

١. علم النفس والسياسة .

٢. المكافأة والتعلم .

ب - عرف المفاهيم التالية:

١. التعلم :

٢. الأقران :

٣. التجربة :


ج - عدد لكل من:

١. خطوات البحث العلمي في المجال الاجتماعي.

٢. قواعد التعلم من خلال الاقتران الشرطي.

٣. السمات التي يتميز بها من لا يستجيبون للضغوط بالمرض.

درجة السؤال الثالث بالحروف



السؤال الرابع: (مقالي) يتكون من (أ، ب، ج)
- برهن على صحة العبارات التالية:

١. معرفة النتيجة تساعد على سرعة التعلم.

٢. للمسجد دور كبير في عملية التنشئة الاجتماعية.


ب - فرق بين كل مما يلي:

الأسرة الممتدة	١. الأسرة النوواة
----- -----	----- -----
الحاجة	٢. الباعث
----- -----	----- -----

ج - أجب على الأسئلة التالية:

١. ما التغيرات البدنية الخارجية التي تحدث أثناء الانفعال؟

٢. عدد خصائص الدوافع الفطرية.



درجة السؤال الرابع بالحروف

انتهت الأسئلة

تمنياتنا لكم بالتوفيق والنجاح



أجب عن (أربعة) أسئلة فقط على أن يكون السؤال الأول منها (إجبارياً) :

السؤال الأول الموضوعي (إجباري) ويتكون من (أ - ب - ج - د - هـ) :

(أ) ظلل الخيار الصحيح من بين الخيارات التي تلي كل عبارة :

١ - عالم النفس الألماني الذي استخدم الشمبانزي في تجاربه :

جان بياجيه	كوهلر	سيجموند فرويد	إيفان بافلوف
------------	-------	---------------	--------------

٢ - مجموع السمات والخصائص المشتركة التي تميز أمة أو مجتمع أو وطن أو فرد معين عن غيره :

المكانة الاجتماعية	الهوية الاجتماعية	الهوية الشخصية	القيم الاجتماعية
--------------------	-------------------	----------------	------------------

٣ - يصنف انفعال الغيرة من الانفعالات :

السارة	المكدرة	الخفيفة	المركبة
--------	---------	---------	---------

٤ - المؤسسة الثانية من حيث الأهمية في عملية التنشئة الاجتماعية للأفراد :

المدرسة	الأسرة	الأقران	المسجد
---------	--------	---------	--------

(ب) أكمل العبارات التالية بما يناسبها فيما درست :

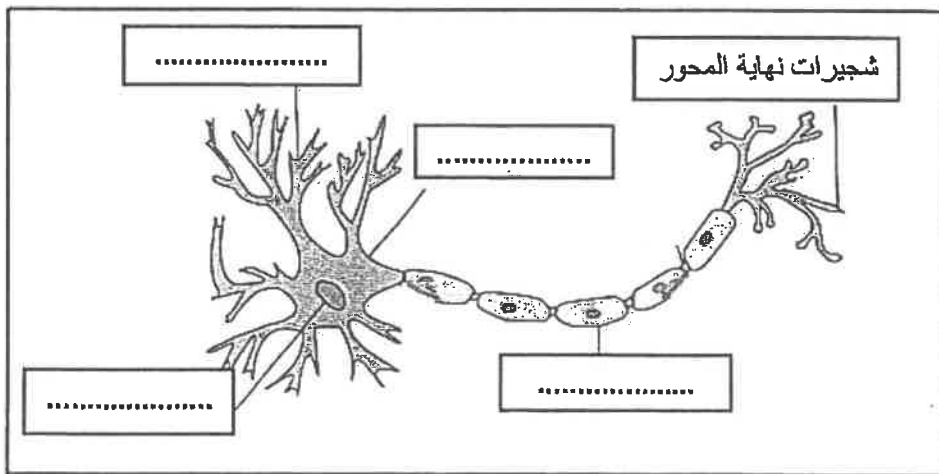
- ١- أي عامل خارجي أو داخلي يثير نشاط الكائن الحي أو نشاط عضو من أعضائه يسمى
- ٢- تقديم شيء جذاب أو مرغوب فيه كمحصلة لسلوك ما يسمى
- ٣- الأسرة التي تتكون من الزوج والزوجة والأبناء ويعيشون في مكان مستقل تسمى
- ٤- نوع من أنواع المكانة الاجتماعية يحصل عليها الفرد بجهوده الخاصة تسمى
- ٥- أحد فروع علم النفس يهتم بدراسة دور الأسرة في التنشئة الاجتماعية للأطفال يسمى
- ٦- فن التعامل مع الآخرين وتنظيم علاقاتهم وتأمين احتياجاتهم والسهر على مصالحهم يسمى

تابع السؤال الأول :

(ج) صوب ما تحته خط في العبارات التالية :

م	العبارة	التصويب
١	العالم الذي عرف علم الاجتماع بأنه الحصيلة المعرفية القائمة على دراسة التشابه والتباين بين الجماعات الإنسانية هو <u>أوغست كونت</u>
٢	من أنواع الضبط يتطلب نمو مثل عليا واستخدام قواعد وأحكام ومعايير محددة لتنظيم علاقات الناس يسمى <u>الضبط الأسري</u>
٣	من أنواع الملاحظة التي تخضع للضبط العلمي <u>الملاحظة البسيطة</u>
٤	العملية المستمرة التي تشكل الفرد منذ مولده وتعدده للحياة الاجتماعية المقبلة التي سيتفاعل فيها مع الآخرين هي <u>الهوية الشخصية</u>
٥	شعور الإنسان بالحالة الانفعالية سواء أكانت خوفاً أم غضباً أم حباً و تمكن الفرد من السيطرة على سلوكه يسمى <u>إدراك الموقف الانفعالي</u>
٦	تدريب الطفل على حل مشكلاته أحد وسائل التغلب على <u>الخوف</u>

(د) أكمل المعلومات الناقصة في الرسم التالي :

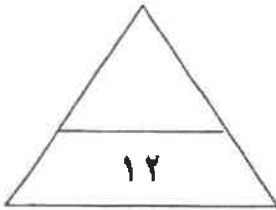


تابع السؤال الأول :

(هـ) أعد ترتيب خطوات البحث العلمي في المجال الاجتماعي في الجدول الذي أمامك :

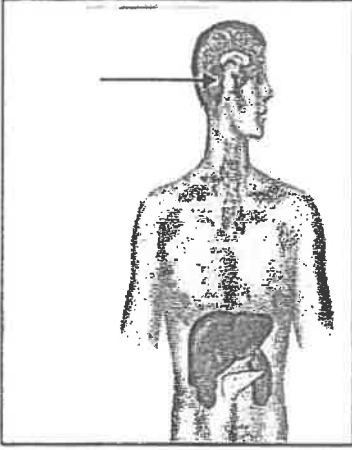
- جمع البيانات .
- تحديد المشكلة .
- تحديد أدوات جمع البيانات .
- تحديد مجتمع الدراسة .

(٤)	(٣)	(٢)	(١)
.....



السؤال الثاني (اختياري) ويتكون من (أ - ب - ج) :

(أ-) لاحظ الشكل المقابل ثم أجب عن الأسئلة التالية :



١- ما اسم الهرمون الذي تفرزه الغدة المشار إليها بالسهم في الرسم المقابل ؟

٢- ما الأعراض المترتبة على زيادة إفراز هرمون هذه الغدة على الإنسان ؟

(ب) دال على صحة العبارات التالية :

١- للمسجد دور كبير في عملية التنشئة الاجتماعية .

..... *

..... *

٢- نتيجة التدريب الموزع أفضل من نتيجة التدريب المركز .

..... *

..... *

٣- يعتبر إميل دور كايم من المفكرين الأوائل في تصوره لعلم الاجتماع .

..... *

..... *

(ج) عرف المفاهيم التالية :

١- الانفعال :

.....

٢- منهج المسح الاجتماعي :

.....

السؤال الثالث (اختياري) ويتكون من (أ - ب - ج) :

(أ) أكتب نقطتين حول كل من - :

١- الحاجات الجسمية في هرم ماسلو .

..... *

..... *

٢- تصنيف المجتمعات البشرية عند العالم العربي المسلم " عبدالرحمن بن خلدون " .

..... *

..... *

٣- المفاهيم وثيقة الصلة بالدافعية .

..... *

..... *

(ب) علل لما يلي :

١- للجهاز العصبي أهمية كبيرة الشأن في حياة الإنسان .

..... *

.....

٢- لجماعة الأقران دور مهم في عملية التنشئة الاجتماعية .

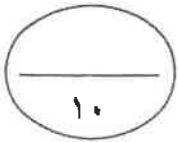
..... *

.....

(ج) عرف المفاهيم والمصطلحات التالية :

١- التجربة :

٢- الأقران :



السؤال الرابع (اختياري) ويتكون من (أ - ب - ج) :

(أ) اقرأ الفقرة التالية ثم أجب عما يليها من أسئلة :

(في بعض الأحيان يتجاوز الخوف الوظيفة المفيدة فيصبح الخوف سبباً لإلحاق الضرر بحياة الإنسان ولا يستطيع الإنسان تعليل هذه المخاوف مما يطلق عليه " الخوف المرضي " حيث يلجأ الكثير من الآباء والأمهات الى وقاية الطفل من هذه المخاوف بعدة طرق كإبعاد الشيء المخيف)

١- استخرج من الفقرة السابقة ما يلي :

- حقيقة واحدة فقط .

.....

- اذكر أحد طرق وقاية الطفل من الخوف .

..... *

٢- عرف ما تحته خط :

..... *

(ب) قارن بين كل من :

علم الاجتماع الطبي	علم الاجتماع العائلي	أوجه الاختلاف
.....	التعريف
.....**	الموضوعات التي يهتم بها

(ج) أجب عن الأسئلة التالية :

١- عدد أنواع الأدوار الاجتماعية .

..... *

..... *

٢- اذكر قواعد التعلم من خلال نظرية الاقتران الشرطي في تجارب (بافلوف) .

..... *

..... *

السؤال الخامس (اختياري) ويتكون من (أ - ب - ج) :

(أ) فسر العلاقة بين كل مما يلي :

١- التعلم والنضج .

*

٢- التفاعل الاجتماعي والتنشئة الاجتماعية.

*

٣- علم النفس والسياسة .

*

(ب) قارن بين كل من :

الدوافع الاجتماعية النفسية (الدوافع الثانوية)	الدوافع الأولية (الفطرية)	أوجه الاختلاف
.....	التعريف
.....**	أمثلة

(ج) أجب عن الأسئلة التالية :

١- عدد العوامل التي أدت إلى نشأة علم الاجتماع .

*

*

٢- أذكر مكونات الهوية الاجتماعية .

*

*

انتهت الأسئلة

مع تمنياتنا لكم بالتوفيق



أجب عن (أربعة) أسئلة فقط على أن يكون السؤال الأول منها (إجبارياً):


السؤال الأول: (إجباري) يتكون من (أ ، ب ، ج ، د) :

أ- أكمل العبارات التالية فيما درست:

١- فرع من فروع علم النفس يهتم بمساعدة الأفراد المضطربين نفسياً على التوافق يسمى

٢- الاستجابة التي من ضمنها تحريك الذراع ورد التحية تسمى استجابة

٣- انفعال مركب من مزيج من الانفعالات كالغضب والخوف والكآبة والحزن والشعور بالنقص يسمى



٤- العالم الذي يرجع له الفضل في نوع التعلم الذي تمثله الصورة المقابلة يسمى

٥- دراسة علمية للظواهر الاجتماعية الموجودة في جماعة معينة وفي مكان معين يسمى

ب- ظلل الخيار الصحيح من بين الخيارات التي تلي كل عبارة :

١- أول من صاغ اصطلاح " علم الاجتماع " و الذي اطلق عليه اسم الفيزياء الاجتماعية :

إميل دور كايم	بتريم سوركين	ماكيفر - بيج	أوغست كونت
---------------	--------------	--------------	------------

٢- الحاجات التي تقع في قمة هرم الحاجات عند ماسلو :

الحاجات الجسمية	حاجات تحقيق الذات	الحاجة إلى المعرفة والفهم	الحاجات الأمنية
-----------------	-------------------	---------------------------	-----------------

٣- العوامل التي قامت في فرنسا في نهاية القرن السابع عشر وكان لها الأثر الأكبر في نشأة علم الاجتماع في أوروبا :

السياسية	الاقتصادية	الفكرية والأيدولوجية	العلمية
----------	------------	----------------------	---------

٤- أحد أدوات جمع البيانات و يستخدم في الأبحاث الصحفية والأدبية وفي كثير من المجالات العلمية :

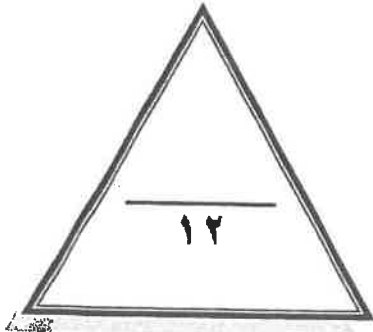
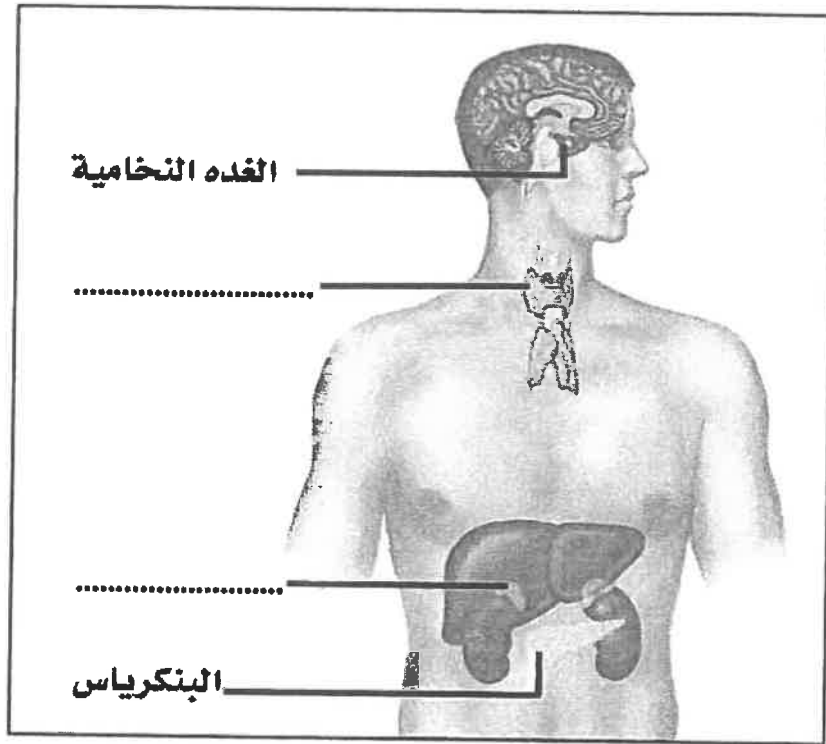
الملاحظة	المقابلة	تحليل المضمون أو المحتوى	الاستبيان
----------	----------	--------------------------	-----------

تابع السؤال الأول (اجباري) :

ج- استنتج الرابط بين العناصر التالية :

- ١- الأسرة - المدرسة - المسجد - الأقران . (.....)
- ٢- الجنسية - الطبقة الاجتماعية - الوضع الاقتصادي - العادات والتقاليد . (.....)
- ٣- المخ - المهاد - المخيح - النخاع المستطيل . (.....)
- ٤- الطعام - الماء - النوم - الأمومة . (.....)

د- لاحظ الشكل التالي ثم أكمل الأجزاء الناقصة :



درجة السؤال الأول بالحروف

السؤال الثاني: (اختياري) يتكون من (أ ، ب ، ج) :

أ - عرف المفاهيم والمصطلحات التالية:

- ١- الدافعية :
- ٢- السياسة :
- ٣- منهج البحث :
- ٤- جماعة الأقران :

ب- علل لما يلي:

١- نشأة علم الاجتماع السياسي .

.....

.....

٢- للمسجد دورا مهما في عملية التنشئة الاجتماعية .

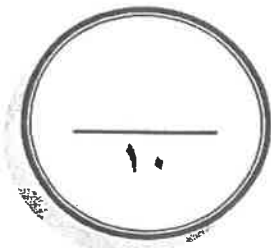
.....

.....

ج - قارن بين كل من:

١- أوجه الاختلاف	الخوف	الغضب
الوظيفة أو الفائدة
وسائل التغلب على الانفعال

٢- أوجه الاختلاف	علم الاجتماع العائلي	علم الاجتماع الطبي
التعريف
الموضوعات التي يهتم بها ويدرسها



درجة السؤال الثاني بالحروف

السؤال الثالث: (اختياري) يتكون من (أ ، ب ، ج) :

أ - ماذا يحدث لو :

١- زاد افراز هرمون النمو في الغدة النخامية بعد فترة المراهقة .

.....-

٢- استمر قرع الجرس في تجربة بافلوف دون تقديم الطعام لمدة طويلة .

.....-

.....-

٣- أسرف المرشد في التوجيه والإرشاد للمتعلم .

.....-

.....-

ب- عرف المفاهيم والمصطلحات التالية:

١- التفاعل الاجتماعي :

٢- التجربة :

٣- المجتمعات البدوية :

ج - عدد كل من:

١- الخدمات التي يقدمها علم النفس في مجال الاقتصاد.

.....-

.....-

٢- مكونات الهوية .

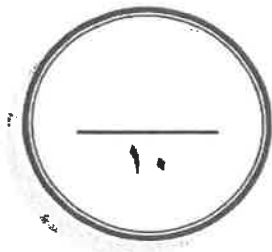
.....-

.....-

٣- سمات من لا يستجيبون للضغوط بالمرض .

.....-

.....-



----- درجة السؤال الثالث بالحروف -----

السؤال الرابع: (اختياري) يتكون من (أ ، ب ، ج):

أ- برهن على صحة العبارات التالية:

١- لهرمون الأدرينالين دور مهم في مواقف الخطر .

.....
.....

٢- للأسرة دور مهم في عملية التنشئة الاجتماعية .

.....
.....

ب- فرق بين كل مما يلي:

الباعث	الحاجة
.....

التعلم	النضج
.....

ج- أجب على الأسئلة التالية:

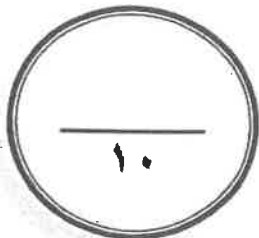
١- اذكر خطوات البحث العلمي .

.....
.....

٢- عدد مسؤوليات المدرسة في عملية التنشئة الاجتماعية .

.....
.....

درجة السؤال الرابع بالحروف -----



السؤال الخامس: (اختياري) يتكون من (أ ، ب ، ج ، د) :
أ- فرق بين كل مما يلي:

التدريب الموزع	التدريب المركز
.....
الاستبيان	المقابلة
.....

ب- علل لما يلي:

١- تعتبر غدة البنكرياس غدة مزدوجة الإفراز .

- -
.....
٢- ظهور فروع عديدة في علم الاجتماع .
..... -
..... -

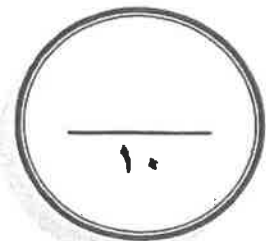
ج- من خلال دراستك لموضوع الدور والمكانة الاجتماعية كون فقرة باستخدام الكلمات التالية :
مجتمع - موروثه - مقلانمان - مكتسبة - مركز اجتماعي - السلوك - متحرك .

-
.....
.....
.....

د- اكتب مما درست حول :

- التغيرات في وظائف الأعضاء الداخلية كأحد مكونات الانفعال .

- -
..... -



درجة السؤال الخامس بالحروف -----

انتهت الأسئلة



دولة الكويت
وزارة التربية
التوجيه الفني العام للاجتماعيات

امتحان نهاية الفترة الدراسية الأولى
لمادة: علم النفس وعلم الاجتماع
للفص الحادي عشر (الأدبي)
العام الدراسي: ٢٠١٧/٢٠١٨ م
الزمن: ساعتان وربع
عدد الأوراق: (٦)

أجب على أربعة أسئلة مما يلي على أن يكون السؤال الأول إجباري من بينها .

السؤال الأول: (إجباري) يتكون من (أ ، ب ، ج ، د)

أ- أكمل العبارات التالية بما يناسبها فيما درست:

١. أول من صاغ اصطلاح " علم الاجتماع " اسمه

٢. علم الاجتماع الذي يهتم بدراسة أنماط الإنتاج وتأثيرها على حياتنا الاجتماعية يسمى

٣. الأسرة التي تتكون من الزوج والزوجة والأبناء تسمى

٤. ما يحتله الفرد في المجتمع والتي تحدد مسبقا على أساس العمر أو الجنس أو المهنة أو النسب أو الوضع الاقتصادي تسمى

ب- ظلل الخيار الصحيح من بين الخيارات التي تلي كل عبارة:

١. طريقة بواسطتها تختبر صحة ظاهرة معينة ممكنة الحدوث في نطاق إطار يحدده الباحث:

التجربة	التجريب	المنهج التجريبي	منهج المسح الاجتماعي
---------	---------	-----------------	----------------------

٢. العالم الذي حدد أنواع الضبط بالضبط الأسري و الضبط الاجتماعي اسمه:

إميل دور كايم	عبدالرحمن بن خلدون	أوجست كونت	جيروم داود
---------------	--------------------	------------	------------

٣. قائد حركة الحقوق المدنية في الولايات المتحدة الأمريكية اسمه:

بتريم سوركين	إميل دوركايم	مارتن لوثر كنج	هيربرت سبنسر
--------------	--------------	----------------	--------------

٤. السلوك الذي يقوم به الفرد في كل مركز اجتماعي يشغله:

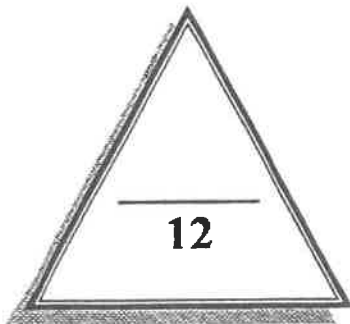
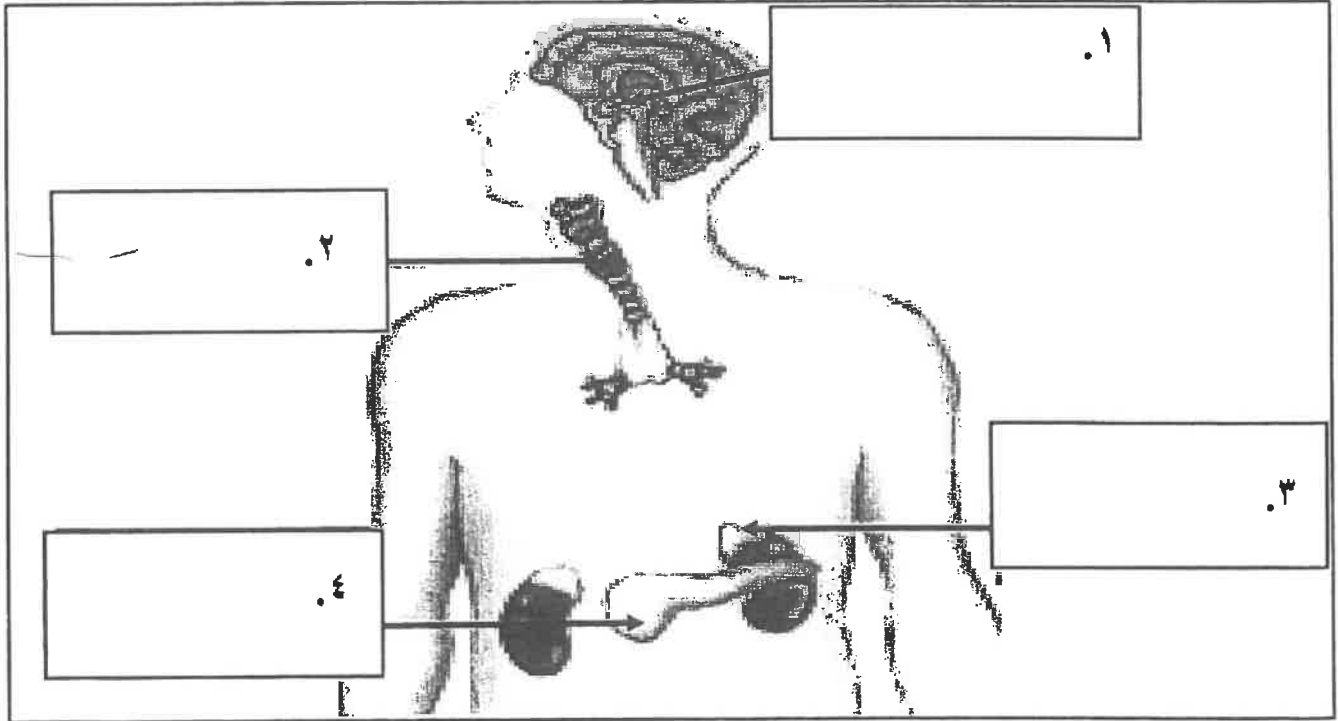
التنشئة	الدور	المكانة	التفاعل
---------	-------	---------	---------

تابع \ السؤال الأول:

ج- اختر للمجموعة (أ) ما يرتبط بها من المجموعة (ب) بوضع الرقم المناسب:

م	المجموعة (أ)	الرقم المناسب	المجموعة (ب)
١	تحريك الذراع للرد على تحية شخص آخر.		استجابة عضوية
٢	الرد على سؤال يوجه إليك .		استجابة عقلية
٣	تصيب العرق من جسم الإنسان.		استجابة حركية
٤	حل مسألة حسابية.		استجابة لفظية
			استجابة حسية

د- اكتب مدلولات الأرقام الموضحة على رسم الغدد الصماء في جسم الإنسان:



درجة السؤال الأول بالحروف -----

السؤال الثاني: (اختياري) يتكون من (أ ، ب ، ج)
أ - اكتب مما درست حول:

١. العوامل التي أدت إلى نشأة علم الاجتماع .

٢. مصادر الهوية الاجتماعية.

ب - قارن بين كل من:

علم النفس العام	علم النفس الفسيولوجي	أوجه المقارنة
----- -----	----- -----	التعريف
----- ----- -----	----- ----- -----	الموضوعات التي يدرسها

ج- علل لما يلي:

١. تعتبر عملية التنشئة الاجتماعية من أهم العمليات الاجتماعية.

٢. التدريب الموزع أفضل من التدريب المركز.

٣. نشأة علم الاجتماع السياسي.



درجة السؤال الثاني بالحروف

السؤال الثالث: (اختياري) يتكون من (أ ، ب ، ج)

أ - من خلال دراستك لموضوع انفعال الخوف- كون فقرة مناسبة باستخدام الكلمات التالية:

((وظيفة حيوية - الخطر - الأماكن المغلقة - التعلم الشرطي - مخاوف غريبة))

ب- ماذا يحدث لو:

١. أسرف المعلمين والمدرسين في عملية الإرشاد والتوجيه للمتعلمين.

٢. قرع الجرس في تجربة بافلوف دون تقديم الطعام لمدة طويلة.

٣. قامت إدارة العمل على أسس نفسية .

ج - عدد لكل من:

١. محددات الضبط الاجتماعي.

٢. موضوعات علم الاجتماع الطبي .

٣. أشكال المجتمعات البشرية وفق نظرية التطور الاجتماعي عند ابن خلدون.

السؤال الرابع: (اختياري) يتكون من (أ ، ب ، ج)
أ- برهن على صحة العبارات التالية:

١. الدوافع الأولية أهم من الدوافع الثانوية.

٢. الجهاز العصبي له أهمية كبيرة في حياة الإنسان.

٣. يتميز من لا يستجيبون للضغوط بالمرض ببعض السمات.

ب- فرق بين كل مما يلي:

مكانة مكتسبة	١. مكانة موروثية
<hr/> <hr/>	<hr/> <hr/>

منهج البحث	٢. البحث العلمي
<hr/> <hr/>	<hr/> <hr/>

ج- عرف المفاهيم التالية:

١. نضج :

٢. غضب:

٣. علم الاجتماع عند (إميل دوركايم):

السؤال الخامس: (اختياري) يتكون من (أ ، ب ، ج)
أ- فرق بين كل مما يلي:

المقابلة	١. الاستبيان
.....
.....
الهوية الذاتية	٢. الهوية الاجتماعية
.....
.....

ب- اكتب مما درست حول:

١. الدور المهم لجماعة الأقران في التنشئة الاجتماعية.

.....

.....

٢. العناصر الأساسية للتعلم .

.....

.....

.....

٣. أهمية علم النفس.

.....

.....


.....

ج - قارن بين كل من:

منهج الجزء	منهج الكل	أوجه المقارنة
.....	التعريف
.....
.....	مجال استخدامه (الفائدة)
.....

انتهت الأسئلة مع تمنياتنا لكم بالتوفيق

درجة السؤال الخامس بالحروف

<p>العام الدراسي: ٢٠١٦/٢٠١٧ م الزمن: ساعتان عدد الأوراق: ٦</p>	<p>امتحان مقرر علم النفس وعلم الاجتماع للفصل الحادي عشر الأدبي - نهاية الفترة الدراسية الأولى</p>	 <p>وزارة التربية التوجيه الفني العام للاجتماعيات</p>
--	---	--

السؤال الأول: إجباري ويتكون من (أ - ب - ج - د - هـ)

أ - أكمل العبارات التالية بما يناسبها فيما درست :

- ١- مرحلة من مراحل النمو تسبق مرحلة الرشد تسمى
- ٢- هرمون الطوارئ الذي يرفع كمية السكر في الدم يسمى
- ٣- انفعال يحدث نتيجة الحرمان أو المنع من تحقيق رغبة أو اشباع دافع يسمى
- ٤- الصوت أو الضوء من المنبهات التي تسمى
- ٥- العالم العربي المسلم الذي كانت البداية الأولى والأساسية لعلم الاجتماع على يديه اسمه
- ٦- العصر الذي ترجع له البدايات الأولى لعلم الاجتماع الحديث يسمى

ب - اختر للقائمة (أ) ما يرتبط بها من القائمة (ب) بوضع الرقم المناسب :

الرقم	القائمة (أ)	الرقم المناسب	القائمة (ب)
١	فرع الجرس باستمرار دون تقديم طعام لمدة طويلة.	()	التمييز
٢	القدرة على استدعاء الاستجابة مهما كانت النغمة مختلفة .	()	الانطفاء
٣	استجابة الكلب لجميع نغمات الجرس .	()	التعميم
٤	المثير المحايد يكتسب صفته الشرطية بعد كل مره يقدم بها الطعام.	()	التدعيم
		()	التكرار

ج - رتب خطوات البحث العلمي حسب ما هو مطلوب منك في الجدول وذلك بوضع الرقم المناسب :

- ١- تحديد أدوات جمع البيانات
- ٢- تحديد المشكلة
- ٣- تحديد مجتمع الدراسة
- ٤ - جمع البيانات .

الخطوة الأولى	الخطوة الثانية	الخطوة الثالثة	الخطوة الرابعة

تابع السؤال الأول :

د- ظلل الخيار الصحيح من بين الخيارات التي تلي كل عبارة :

١- العالم الذي عرف علم الاجتماع بأنه العلم الذي يدرس العلاقات الاجتماعية بأشكالها البسيطة والمعقدة :

اوغست كونت	بتريم سوركين	اميل دور كايم	ماكيفر- بيچ
------------	--------------	---------------	-------------

٢- العلم الذي يهدف إلي دراسة نمو السلوك البشري وتطور الوظائف النفسية في مراحل حياة الإنسان المختلفة :

علم النفس العام	علم نفس الطفل (النمو)	علم النفس الاجتماعي	علم نفس وظائف الأعضاء
-----------------	-----------------------	---------------------	-----------------------

٣- الدوافع التي تنشأ عن حاجات فطرية ضرورية :

نفسية	اجتماعية	أولية	ثانوية
-------	----------	-------	--------

٤- حالة من النقص والافتقار أو الاضطراب الجسدي والنفسي :

الحافز	الحاجة	الباعث	الدافع
--------	--------	--------	--------

٥- مجموعة من الأسئلة قد تكون أسئلة مغلقة أو تكون أسئلة مفتوحة ذات بدائل متعددة أو شاملة للنوعين :

المقابلة	الملاحظة	تحليل المضمون	الاستبيان
----------	----------	---------------	-----------

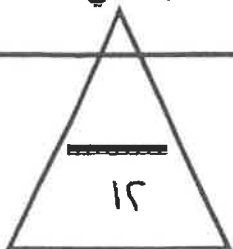
٦- مجموع التغييرات الثابتة نسبياً التي تحدث نتيجة مرور الإنسان بخبرة :

التعلم	النضج	التغير	الابتكار
--------	-------	--------	----------

هـ- أكتب المفاهيم أو المصطلحات الدالة على العبارات التالية :

م	المفهوم أو المصطلح	العبارة
١	- كل ما يصدر عن الفرد من استجابات أو نشاط يقوم به .
٢	- جهاز منظم يقوم بضبط وتنظيم وتنسيق كثير من الأنشطة لأعضاء الجسم .
٣	- الأسلوب المنظم في جمع وكتابة الملاحظات وتحليلها من خلال تفكير منطقي وتجريب عملي .
٤	- عملية مستمرة تشكل الفرد منذ مولده وتعدده للحياة الاجتماعية المقبلة التي سيتفاعل فيها مع الآخرين .

درجة السؤال الأول :



السؤال الثاني : اختياري و يتكون من (أ - ب - ج)

أ - علل لما يلي :

١ - أهمية دراسة علم النفس الصناعي والتنظيمي .

.....*

.....*

٢ - التحولات التي حدثت في أوروبا كان لها الأثر في قيام علم الاجتماع الحديث.

.....*

.....*

٣ - تسمية الغدة النخامية بالغدة المسيطرة .

.....*

ب - فرق بين كل مما يلي :

التابع	الحافر
.....
الهوية الاجتماعية	الهوية الذاتية (الشخصية)
.....

ج - أكتب نقطتين حول كل مما يلي :

١ - فروع علم الاجتماع .

.....*

٢ - أنواع الانفعالات .

.....*

٣ - أنواع المكانة الاجتماعية .

.....*

درجة السؤال الثاني :

١٠

السؤال الثالث : اختياري و يتكون من (أ - ب - ج)

أ- عرف ما يلي :

١- الملاحظة البسيطة:

٢- الانفعال:

٣- علم النفس:

ب- برهن على صحة العبارات التالية :

١- يؤثر الانفعال في الصحة العامة تأثيراً كبيراً.

.....
.....

٢- التدريب الموزع أفضل من التدريب المركز .

.....
.....

٣- للأسرة دور مهم في عملية التنشئة الاجتماعية .

.....*
.....*

٤- أهمية منهج المسح الاجتماعي .

.....*
.....*

ج- فسر العلاقة بين كل مما يلي :

١- التفاعل الاجتماعي والتنشئة الاجتماعية .

.....
.....

٢- المكانة والدور .

.....
.....

٣- الدوافع والانفعالات.

.....
.....

درجة السؤال الثالث :

(٤)

السؤال الرابع : اختياري و يتكون من (أ - ب - ج)

أ- أكتب نقطتين حول كل من :

١- أهمية علم النفس .

..... *

٢- العناصر الأساسية للتعلم .

..... *

٣- كيفية تغلب الطفل على الخوف .

..... *

٤- مصادر الهوية .

..... *

ب- علل لما يلي :

١- للمسجد دور كبير في عملية التنشئة الاجتماعية .

..... *

..... *

٢- أهمية دراسة علم الاجتماع الطبي .

..... *

..... *

٣- يقوم العنكبوت بنسج بيته دون تعلم .

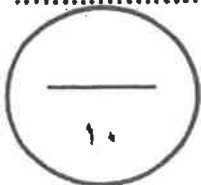
..... *

ج - عرف المفاهيم التالية :

١- المكانة الاجتماعية :

٢- التجربة :

٣- الخلية العصبية :



درجة السؤال الرابع :

(٥)

السؤال الخامس : اختياري و يتكون من (أ - ب - ج)

أ- قارن بين كل مما يلي :

أدوار مكتسبة	أدوار مفروضة	أوجه المقارنة
.....	التعريف
.....	الأمثلة
الأسرة النوواة	الأسرة الممتدة	أوجه المقارنة
.....	حجم الأسرة
.....	السكن

ب- أجب عن الأسئلة التالية :

١- أكتب ملخصاً لتجربة كوهلر حول التعلم بالفهم والاستبصار.

.....
.....
.....

٢- أذكر نقطتين فقط من محددات الضبط الاجتماعي .

* *

ج- ماذا يحدث لو :

١- تجاوز الخوف الوظيفة المفيدة للإنسان.

.....
.....

٢- أسرف المرشد في التوجيه والإرشاد للمتعلم .

.....
.....

٣- قلة إفراز الغدة الدرقية .

.....
.....

درجة السؤال الخامس :

انتهت الأسئلة مع تمنياتنا لكم بالتوفيق