



مراجعة نهاية الفصل الأول  
مقرر تاريخ دولة الكويت  
اجتماعيات الصف العاشر

# أولاً : الأسئلة الموضوعية

أجب عن جميع الأسئلة التالية :

السؤال الأول /الموضوعي : ويتكون من ( أ - ب ) :

( أ ) ضع خطأ تحت الخيار الصحيح من بين الخيارات التي تلي كل عبارة :

١ . الدولة التي قدمت مشروع ( كابنيس ) لدولة الكويت هي :

|       |          |         |        |
|-------|----------|---------|--------|
| روسيا | بريطانيا | ألمانيا | هولندا |
|-------|----------|---------|--------|

٢ . العام الذي حدثت فيه معركة الصريف :

|       |       |       |       |
|-------|-------|-------|-------|
| ١٩١٢م | ١٩٠٨م | ١٩٠٤م | ١٩٠١م |
|-------|-------|-------|-------|

٣ . حاكم دولة الكويت الذي تم في عهده بناء السور الثاني :

|                         |              |                     |            |
|-------------------------|--------------|---------------------|------------|
| عبدالله الأول بن الصباح | محمد بن صباح | صباح الثاني بن جابر | جابر الأول |
|-------------------------|--------------|---------------------|------------|

٤ . الحد الفاصل بين الحدود الكويتية العراقية بمسافة ١٥٠ كم ويسير مع الحدود الغربية للكويت :

|             |             |            |             |
|-------------|-------------|------------|-------------|
| تلال اللياح | وادي الباطن | سهل الدببة | هضبة الأحمد |
|-------------|-------------|------------|-------------|

(ج) ضع خطأ تحت الخيار الصحيح من بين الخيارات التي تلي كل عبارة :

١- المنطقة التي وقعت فيها معركة ذات السلاسل بين المسلمين والفرس عام ١٢ هجرية :

|       |          |            |           |
|-------|----------|------------|-----------|
| كازمة | - الصبية | - أم العيش | - الجهراء |
|-------|----------|------------|-----------|

٢- العامل الذي يقوم بتنجيد وصناعة المساند والفرش مستخدماً القطن :

|        |          |          |          |
|--------|----------|----------|----------|
| الصفار | - الحذاد | - النداف | - النجار |
|--------|----------|----------|----------|

٣- العام الذي أجري فيه أول تعداد رسمي موثق لسكان دولة الكويت :

|        |          |          |          |
|--------|----------|----------|----------|
| ١٩٥٥ م | - ١٩٥٦ م | - ١٩٥٧ م | - ١٩٥٨ م |
|--------|----------|----------|----------|

٤- أكبر الجزر الكويتية والتي تمثل ٥% من المساحة الإجمالية لدولة الكويت :

|        |        |        |         |
|--------|--------|--------|---------|
| بوبيان | - عوهه | - وربة | - فيلكا |
|--------|--------|--------|---------|

( ب ) ضع خطأ تحت الخيار الصحيح من بين الخيارات التي تلي كل عبارة :

1- سهل يمتد من جون الكويت باتجاه الجنوب موازيا لخط الساحل :

( الديدبه - واره - الروضتين - برقان )

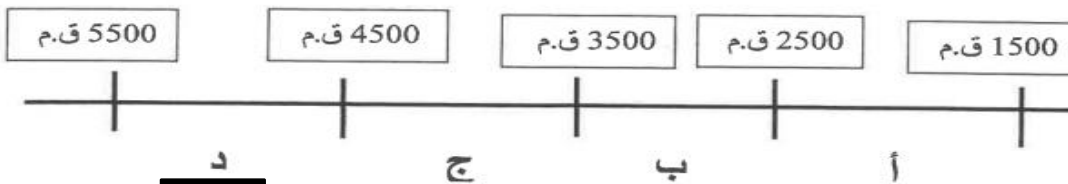
2- طريق الحرير أحد أهم طرق التجارة الدولية في العالم القديم ويبدأ من دولة :

( الصين - الهند - أندونيسيا - عمان )

3- الشهر الذي يبدأ به موسم الأمطار في دولة الكويت :

( سبتمبر - أكتوبر - نوفمبر - ديسمبر )

4- حضارة العبيد على المخطط السهمي يمثلها الحرف :



( ب ) اختر للمجموعة ( أ ) ما يناسبها من المجموعة ( ب ) بكتابة الرقم المناسب :

| الرقم | المجموعة ( أ )   | الرقم المناسب | المجموعة ( ب )                      |
|-------|--|---------------|-------------------------------------|
| ١     | اشتهر بالنزاهة والوقار والتواضع .  | ( )           | الشيخ مبارك الصباح                  |
| ٢     | ساعد العثمانيين في حملتهم على إقليم الإحساء عام ١٨٧١ م .                       | ( ٣ )         | الشيخ عبدالله الأول بن صباح بن جابر |
| ٣     | ازدهرت الإمارة في أيامه وامتدت تجارتها إلى الهند واليمن وشرق أفريقيا والعراق . | ( ١ )         | الشيخ محمد بن صباح                  |
| ٤     | كان يطبخ الأرز للفقراء وله عريش قرب بيته يجتمعون فيه ويقدم لهم الطعام .        | ( ٢ )         | الشيخ عبدالله بن صباح الثاني        |
|       |  | ( ٤ )         | الشيخ جابر الأول بن عبدالله الصباح  |

( ب ) اختر للمجموعة ( أ ) ما يناسبها من المجموعة ( ب ) بكتابة الرقم المناسب :

| الرقم | المجموعة ( أ )   | الرقم المناسب | المجموعة ( ب )                     |
|-------|--|---------------|------------------------------------|
| ١     | وقعت في عهده معركة الصريف .  | ( ٤ )         | الشيخ صباح الأول بن جابر           |
| ٢     | كان حليماً كريماً يضرب بكرمه المثل .   | ( ٣ )         | الشيخ عبدالله الأول بن صباح        |
| ٣     | ازدهرت الإمارة في أيامه وامتدت تجارتها إلى الهند واليمن وشرق أفريقيا والعراق . | ( ١ )         | الشيخ مبارك الصباح                 |
| ٤     | البداية الحقيقية لظهور الكويت كياناً سياسياً منظماً                            | ( ٢ )         | الشيخ جابر الأول بن عبدالله الصباح |
|       |  | ( )           | الشيخ محمد بن صباح                 |

(د) اختر للمجموعة (أ) ما يرتبط بها من المجموعة (ب) بوضع الرقم المناسب :

| م | المجموعة (أ)   | الرقم المناسب | المجموعة (ب)                 |
|---|--|---------------|------------------------------|
| ١ | تقدمت التجارة في عهده بشكل كبير وألغى الرسوم احتراماً لرغبة أبناء شعبه .       | ٤             | الشيخ مبارك الصباح           |
| ٢ | ساعد العثمانيين في حملة "مدحت باشا" على إقليم الإحساء عام ١٨٧١م                | .....         | الشيخ جابر الأول             |
| ٣ | وقعت معركة الرقة في عهده عام ١٧٨٣م .   | ١             | الشيخ صباح الثاني بن جابر    |
| ٤ | دعم الأمير "عبد العزيز آل سعود" عسكرياً وسانده في معاركه لاستعادة ملك أبنائه . | ٢             | الشيخ عبدالله بن صباح الثاني |
|   |  | ٣             | الشيخ عبد الله الأول         |

(أ) أكمل العبارات التالية بما يناسبها فيما درست :

عبد الله السالم

١. الشيخ الذي تم في عهده أول تعداد للسكان في دولة الكويت يسمى

كاظمة

٢. المعركة التي وقعت بين المسلمين والفرس عام ١٢ هجرية على أرض الكويت تسمى

٥ %

٣. نسبة المساحة التي تشغلها جزيرة بوبيان من إجمالي مساحة الكويت تبلغ

١٨٩٩ م

٤. العام الذي وقعت دولة الكويت إتفاقية حماية مع بريطانيا عام

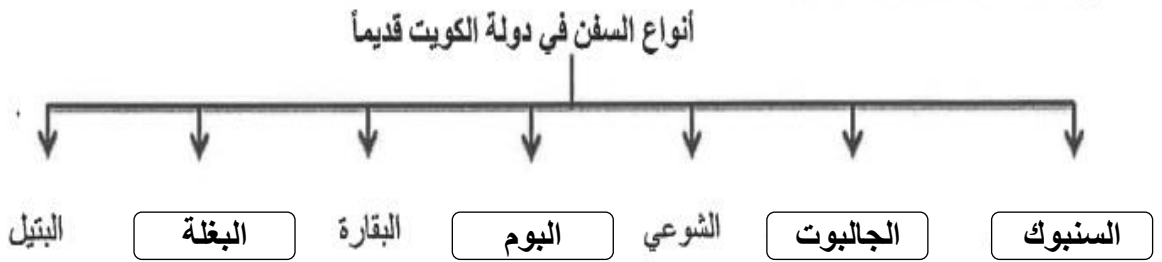
ب ) أكتب المفاهيم أو المصطلحات الدالة على العبارات التالية :

- ١- ( الهيرات ) منابت المحار المحتوي على اللؤلؤ .
- ٢- ( العدل ) ما يوضع على ظهر الدابة وتوضع فيه حاجات الراكب .
- ٣- ( القمبار ) الصيد بالإضاءة حيث يتجمع السمك حول سراج يحمله الصياد فيقوم بضربة بألة حادة كالسيف أو عصا في نهايتها حربة.
- ٤- ( السرايات ) رياح تهب على دولة الكويت في أواخر الربيع وأوائل الصيف فتثير الغبار مصحوبة عادة بعواصف رعدية يسقط بسببها المطر الشديد .

ج ) أكتب المفاهيم أو المصطلحات الدالة على العبارات التالية :

- ١- ( السموم ) رياح جافة جدا تهب من الشمال أو الشمال الشرقي في فصل الصيف .
- ٢- ( القلاف ) يقوم بعملية إعداد المواد اللازمة للصناعة ثم عملية بناء السفينة نفسها .
- ٣- ( العدل ) أكياس كبيرة لحفظ بعض أنواع الطعام توضع في ظهر الدابة .
- ٤- ( الصخين ) أداة تستخدم للحفر والجدوم والهبب والمنقاش والسكاكين والسلاسل والدوه .

(ج) أكمل المخطط السهمي التالي :



(د) أكمل العبارات التالية فيما درست :

١ - الصورة المقابلة تمثل الجزيرة الكويتية التي عثر فيها على الأثار اسمها **فيلكا**



٢ - الصورة المقابلة تمثل أحد العاملون في حرفة الغوص يسمى .. **الغيص** ...

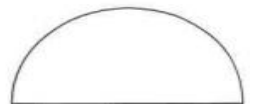


٣ - الصورة المقابلة تمثل إحدى الحرف في دولة الكويت قديماً

تسمى .. **القفاص** ..



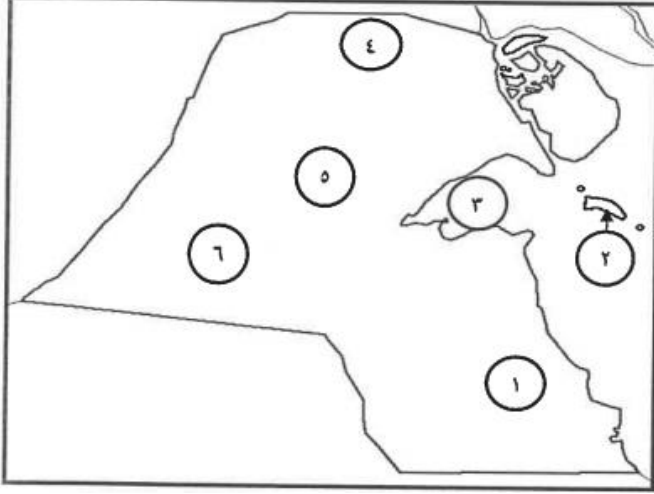
٤ - الخريطة المقابلة تمثل معركة بحرية بين دولة الكويت وبنو كعب اسمها **الرقعة**



## تابع الأسئلة الموضوعية

السؤال الأول الموضوعي (إجباري) ويتكون من ( أ - ب - ج - د ) :

( أ ) أمامك خريطة دولة الكويت الصماء ، أكتب الرقم الدال على كل مما يلي :



١ . سهل الدبدبة على الخريطة يمثله الرقم .. ٦

٢ . كراع المرو على الخريطة يمثله الرقم . ٥

٣ . منطقة العبدلي يمثلها على الخريطة الرقم ٤

٤ . جون الكويت يمثله على الخريطة الرقم . ٣

# ثانيا : الأسئلة المقالية



## تابع الأسئلة المقالية

( أ ) عرف القرن :

تصغير كلمة القرن ويعني المرتفع أو التل الصغير مثل مرتفع بهيته الذي تأسست عنده الكويت

( ب ) اكتب فيما يلي :

١ - المراحل التي أدت إلى استقرار الحكم لآل الصباح بعد عملية التأسيس . ( يكتفي بنقطتين )

الهجرة من نجد مع بقية الأسر والإقامة فيها

توزيع المهام بين الأسر الثلاث / اختيار آل صباح للحكم وانتهاء التحالف الثلاثي

٢ - حرص حكام الكويت على اتخاذ قرارات ذات أبعاد اقتصادية ساعدت على النمو التجاري والاقتصادي . ( يكتفي بثلاث نقاط )

قلة الضرائب على البضائع القادمة الي الكويت / تشجيع بناء السفن وتأمين طرق التجارة

جذب الوكالات التجارية التابعة للدول الأوروبية العاملة في الخليج العربي

لعب التجار الكويتيين دور الوطاء التجاريين

( ج ) علل لما يلي :

١ - الانهيار التدريجي للاستعمار البرتغالي . ( يكتفي بنقطتين )

المنافسة التجارية بينه وبين الهولنديين والإنجليز / جهود اليعاربة في عمان

وقوع البرتغال نفسها تحت الاحتلال الاسباني

٢ - اختيار الشيخ صباح الأول للحكم في دولة الكويت . ( يكتفي بنقطتين )

سماته الشخصية من شجاعة وحكمه / والده كانت له الزعامة على قومه منذ أن كانوا في نجد

كان طوال العام مقيما في الكويت وعمله بالصحراء

## تابع الأسئلة المقالية

(أ) أجب عن الأسئلة التالية :

١ - ما أهمية الموقع الاستراتيجي لدولة الكويت بين دول العالم . ( يكتفي بذكر نقطتين )

..... نهاية الطريق الملاحي البحري إلى الهند / بوابة دخول شبه الجزيرة العربية من الشمال الشرقي

..... شهرتها بأنها منطقة ترانزيت قليلة الضرائب / نشاط دولة الكويت البحري والتجاري

٢ - اذكر أسماء الجزر الكويتية . ( يكتفي بنقطتين )

..... بوبيان / وربه / عوهه / كبر / قاروة

..... أم المرادم / فيلكا / أم النمل / مسكان

## تابع الأسئلة المقالية

(أ) اقرأ الفقرة التالية ثم أجب عما يليها من أسئلة :

بعد أن استقر العتوب وأسسوا وطنهم الجديد بالكويت تشكلت واكتملت الهوية الجامعة لهذه القبائل والأسر المهاجرة ومن تبعها من السكان الجدد ، وبعد عميلة التأسيس ، كان حتماً على الجميع الانضواء تحت السلطة التي تدير شؤون البلدة .

١ . عرف ما تحته خط :

..... مجموعة من العشائر والأسر التي تنتمي إلى عدة قبائل أبرزها قبيلة عنزة

٢ . اذكر تقسيم المهام بين أسرتي آل الصباح وآل الخليفة بعد استقرار العتوب في موطنهم الأصلي دولة الكويت .

..... آل خليفة شؤون التجارة / آل صباح شؤون الحكم / آل الجلاهمة شؤون البحر

٣ . استقر الحكم لآل الصباح بعد عملية التأسيس التي مرت بثلاث مراحل ،،، أذكر المرحلتين الثانية والثالثة منها .

..... التحالف الثلاثي وتوزيع المهام

..... اختيار آل صباح للحكم وانتهاء التحالف الثلاثي

## ( ب ) قارن بين كلاً من :

| العواصف الترابية ( السرايات )                       | الرياح الشمالية الغربية                              | أوجه المقارنة  |
|---|--|----------------|
| تهب أواخر الربيع واول الصيف                         | تهب معظم أيام السنة                                  | الفترة الزمنية |
| تنثر الغبار / مصحوبة بعواصف رعدية يسقط بسببها المطر | رياح جافة بفعل المرتفع السيبيري خفض الحرارة في الصيف | المميزات       |

## ( ج ) علل لما يلي :

١ . نقل مركز البريد والتجارة البريطاني من البصرة إلى الكويت عام ١٧٧٥ م .

بسبب الصراع الفارسي العثماني / الحصار الفارسي للبصرة

## السؤال الثالث ( اختياري ) ويتكون من ( أ - ب - ج ) :

( أ ) فرق بين كلاً من :

| مفهوم الإغلاق ( موسم السفر )                       | مفهوم الدشة ( موسم السفر )  |
|--|---|
| تعني إغلاق موسم السفر وتكون في شهر مايو            | تعني دخول البحر وتكون في شهر أغسطس  |
| وظيفة المجدمي                                      | وظيفة النوخدة   |
| رئيس البحارة<br>المسؤول عن إدارة السفينة من الداخل | قائد السفينة وربانها والمسؤول عن طاقمها<br>تحديد أماكن الهيرات<br>اتخاذ جميع القرارات |

## (ب) فرق بين كل مما يلي :

| القفال   | الدشة                                   |
|--|---|
| انتهاء موسم الغوص وتكون في سبتمبر أو أكتوبر                        | تعني بداية موسم الغوص وتكون في شهر مايو |
| القفاص   | النداف                                  |
| من يستخدم جريد النخيل<br>صناعة الأقفاص - صناعة الرك - سرير الأطفال | من يقوم بتجيد وصناعة المساند والفرش     |

## (ب) عدد ثلاث أنواع فقط من المحاصيل التي يزرعها الكويتيون في دولة الكويت .

الخضروات بجميع أنواعها

الحبوب مثل القمح والشعير

الأعلاف مثل البرسيم ( الجت )

## (ج) أذكر ثلاث عوامل ساعدت على ازدهار صناعة السفن في دولة الكويت قديماً .

توفر الأيدي العاملة

براعة الأساتذة والقلاليف

توفر المواد المستخدمة في صناعة السفن

السؤال الرابع (اختياري) ويتكون من ( أ - ب - ج ) :

( أ ) دلل على صدق العبارات التالية :

١ . تطور التعليم والصحة في عهد الشيخ مبارك الصباح .

- التعليم : انشاء المدرسة المباركية أول مدرسة نظامية في عام ١٩١١ م .....
- الصحة : تأسيس أول مستشفى وتسمى الامريكاني في عام ١٩١١ م .....

٢ . حرص حكام الكويت على اتخاذ قرارات ذات أبعاد اقتصادية ساعدت على النمو التجاري والاقتصادي للكويت .

• قلة الضرائب على البضائع القادمة للكويت

• جذب الوكالات التجارية الأوروبية في الخليج العربي

• تشجيع بناء السفن وتأمين طرق التجارة

( ب ) اكتب عن أهم أعمال الحاكم الثالث الشيخ جابر الأول بن عبدالله الصباح ( ١٨١٤م - ١٨٥٩م ) .

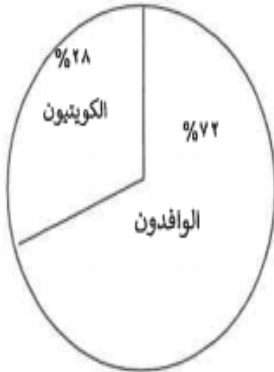
• بناء السور الثاني عام ١٨١٤ م

• ساعد العثمانيين في إعادة البصرة

• رفض إقامة محطة انجليزية للفحم ١٨٤١ م

( ج ) لاحظ الدائرة البيانية التي أمامك ثم أجب عما يليه من أسئلة :

١ . استخرج حقيقة من الدائرة البيانية المقابلة .



زيادة نسبة الوافدين على نسبة الكويتيين

٢ . قلة عدد السكان " الوافدين " في دولة الكويت خلال عام ١٩٩٠م .

نسبة السكان في دولة الكويت عام ١٩٩٠م

الغزو العراقي على دولة الكويت

عودة الوافدين إلى أوطانهم

(ج) علل لما يلي :

1- لقب الشيخ جابر الأول بجابر العيش .

- كان حليما كريما / كثرة التصدق على الفقراء / كان يطبخ الأرز ويقدمه للفقراء

2- تراجع الشيخ صباح الثاني عن قرار فرض الضرائب .

- احتراما لرغبة أبناء شعبه

3- إختفاء مهنة الغوص عن اللؤلؤ .

- ظهور اللؤلؤ الصناعي / ظهور النفط

(ب) فرق بين كلامين :

| رياح السموم   | الرياح الجنوبية الشرقية ( الكوس )   |
|---|---|
| رياح جافة جدا تهب وقت الظهيرة / تثير الرمال والأتربة<br>تتخفض معها الرطوبة النسبية / ذات درجة حرارة عالية | تمتاز بأنها رطبة ودافئة / تتأثر بالمنخفض السوداني<br>تساعد على رفع درجة الحرارة / تزيد الرطوبة في الصيف |
| فصل الخريف في دولة الكويت   | فصل الربيع في دولة الكويت   |
| ترتفع فيه الرطوبة وتقل فيه الحرارة عن فصل الصيف   | يمتاز بأنه فصل قصير ومعتدل  |

(ج) عدد أسس علاقة الكويت بالدولة العثمانية التي حددها الفرمان العثماني . ( يكتفي بنقطتين )

\* شيخ الكويت مستقل في شؤونه الداخلية / منح شيخ الكويت لقب قائم مقام

\* أهالي الكويت لا يلتزمون بدف ضرائب للباب العالي / الزام السفن الكويتية برفع العلم العثماني

١٠

انتهت الأسئلة