

**SMART  
STUDENT**

مادة التاريخ

# بتك مطول

الصف العاشر



Download App



فترة أولى

## السؤال الأول: أكمل العبارات التالية بما يناسبها فيما درست:

- 1- تقع دولة الكويت بالنسبة لشبة الجزيرة العربية في الجزء الشمال الشرقي. ص 20
- 2- الدولة التي تحد دولة الكويت من جهة الجنوب والجنوب الغربي المملكة العربية السعودية. ص 20
- 3- المسطح المائي الذي تطل عليه دولة الكويت من جهة الشرق يسمى الخليج العربي. ص 20
- 4- ينحدر سطح دولة الكويت انحدار تدريجيا من جهة الغرب إلى الشرق. ص 22
- 5- تقع دولة الكويت بالنسبة للخليج العربي في الجزء الشمال الغربي. ص 20
- 6- تقع دولة الكويت بين دائرتي عرض 28.45 و 30.05 شمال خط الاستواء. ص 20
- 7- تقع دولة الكويت بين خطي 46.30 و 48.30 شرق خط غرينتش. ص 20
- 8- الحد الفاصل بين الحدود الكويتية والعراقية بمسافة 150 كم يسمى وادي الباطن. ص 23
- 9- السهل الذي يمتد من جون الكويت باتجاه الجنوب موازيا لخط الساحل يسمى سهل برقان. ص 25
- 10- سهل يقع في شمال دولة الكويت ينحدر نحو الشرق والشمال الشرقي يسمى سهل الروضتين. ص 25
- 11- السهل الذي يحتل مساحة كبيرة في غرب وجنوب دولة الكويت يسمى سهل الدبدبة. ص 23
- 12- أكبر الجزر الكويتية والتي تمثل 5% من المساحة الإجمالية لدولة الكويت تسمى جزيرة بوبيان ص 25
- 13- يعود الوجود البشري في منطقة الكويت إلى أكثر من 4000 سنة قبل الميلاد. ص 34
- 14- جزيرة كويتية شهدت تواجد سكانيا سابقا وأصبحت غير مأهولة بعد أحداث الغزو العراقي عام 1990م هي جزيرة فيلكا. ص 27
- 15- أصغر الجزر الكويتية مساحة جزيرتا مسكان و قاروه. ص 27
- 16- بدأ التنقيب الاثري في جزيرة فيلكا عام 1958م. ص 57
- 17- ترجع الآثار الحضارية في جزيرة فيلكا لحضارة دلمون. ص 57
- 18- تعود حضارة العبيد القديمة إلى 5500 – 4500 قبل الميلاد. ص 56
- 19- تقع دولة الكويت ضمن الإقليم الصحراوي. ص
- 20- إقليم يحتل المنطقة الغربية للخليج العربي ويمتد من جنوب البصرة شمالاً حتى عمان جنوبا يسمى إقليم البحرين. ص 34
- 21- الجهة المسؤولة عن اجراء التعداد السكاني تسمى دائرة الشؤون الاجتماعية. ص 34
- 22- الشيخ الذي تم في عهده أول تعداد للسكان في دولة الكويت يسمى عبد الله السالم الصباح. ص 34

23- الشيخ الذي أجري في عهده تعداد للسكان عام 2014م في دولة الكويت يسمى صباح الأحمد

الصباح ص35

24- بلغت نسبة عدد السكان لغير الكويتيين الوافدين حوالي 72% ص35

25- عثر على العديد من الكتابات على الصخور كحجر إيكاروس ص57

26- وقعت معركة ذات السلاسل عام 12 هجرية ص58

27- المعركة التي وقعت بين المسلمين والفرس عام 12 هجرية على أرض الكويت تسمى ذات

السلاسل ص58

28- عثر على مسكوكات إسلامية أهمها عملة أموية مؤرخة بعام 123 هجرية ص58

29- الكويت أرض قفراء نزلها جدنا صباح عام 1022 هجرية عبارة قالها الشيخ مبارك الصباح ص66

30- الموطن الأصلي لجماعات العتوب في نجد يسمى الهدار ص67

31- المنطقة الأولى التي استقر فيها العتوب بالقرب من الزبارة في قطر تسمى الفريحة ص67

32- العتوب ترجع في أصلها إلى عدة قبائل أبرزها قبيلة عنز ص67

33- منطقة شكلت محطة الاستقرار الأولى للعتوب تسمى قطر ص67

34- تأسست دولة الكويت في عام 1613م ص66

35- الكويت تصغير لكلمة كوت وهي تعني القلعة أو الحصن ص65

36- اصل كلمة العتوب الفعل عتب ومعناه الإكثار في الترحال ص67

37- قبيلة امتد نفوذها من قطر جنوباً حتى البصرة شمالاً تسمى بني خالد ص70

38- البداية الحقيقية لظهور الكويت ككيان سياسي منظم باختيار حاكم الكويت الشيخ صباح الأول

بن جابر ص71

39- تولى آل الجلاهمة في الكويت قديماً شؤون البحر ص69

40- أول معركة للكويت كانت معركة بحرية ص72

41- تولى الشيخ عبد الله الأول بن صباح بن جابر الحكم عام 1763م ص71

42- الشيخ الذي حدثت في عهده معركة الرقة يسمى عبد الله الأول بن صباح بن جابر ص71

43- وقعت معركة الرقة بين الكويت وبني كعب في عام 1783م ص71

44- تم بناء سور الكويت الأول عام 1797م ص72

45- حاكم دولة الكويت الذي لقب بجابر العيش يسمى جابر الأول ص74

46- ألغى الرسوم على البضائع احتراماً لرغبة شعبة هو الشيخ صباح الثاني بن جابر ص75

47- زار المعتمد البريطاني لويس بيلي الخليج العربي عام 1865م ص75

- 48-المعتمد البريطاني في الخليج العربي والذي زار الكويت عام 1865 يسمى لويس بيلي.ص75
- 49-من أهم الاحداث السياسية في عهده ترحيبية وتسهيله لاستقرار أسرة الأمير عبد الرحمن آل سعود هو الشيخ محمد بن صباح.ص75
- 50-التسهيلات التي كانت تمنح لتجار البادية تسمى تجارة المسابله.ص79
- 51-مؤسس الدولة السعودية الثالثة هو الملك عبد العزيز آل سعود.ص75
- 52-أحد موظفي شركة الهند الشرقية البريطانية هو فرنسيس واردن.ص68
- 53-تولي الحكم في الكويت قديماً حسب تقسيم المهام أسرة آل صباح.ص69
- 54-تولي آل خليفة في الكويت قديماً شؤون التجارة.ص69
- 55-اشتهر بالنزاهة والوقار والتواضع وساعدة في الحكم اخواه الشيخان جراح ومبارك هو الشيخ محمد بن صباح.ص75
- 56-اتصف بحسن السيرة ودمائة الاخلاق وكان محبوباً لدى الجميع هو الشيخ عبد الله بن صباح الثاني.ص75
- 57-تم بناء السور الثاني لدولة الكويت في عام 1814م.ص74
- 58-أولى الدول الأوربية في استعمار منطقة الخليج العربي البرتغال.ص84
- 59-اتخذ الهولنديون مركز تجاري في ميناء بندر عباس.ص85
- 60-خرج أول اسطول هولندي إلى آسيا ليبلغ جزر الهند الشرقية في عام 1595م.ص85
- 61-بدأ الوجود الهولندي في آسيا خصوصاً وفي الشرق عموماً في أواخر القرن السادس عشر.ص85
- 62-سعى الأوروبيون لاستعمار الخليج العربي في مطلع القرن السادس عشر.ص83
- 63-ظهرت الخطوات الروسية نحو تعزيز نفوذها في الكويت أكثر وضوحاً منذ نهاية القرن التاسع عشر.ص96
- 64-المؤسس الحقيقي لدولة الكويت الحديثة يسمى الشيخ مبارك الصباح.ص93
- 65-العام الذي وقعت فيه معركة الصريف 1901م.ص104
- 66-العام الذي وقعت معركة هدية 1910م.ص104
- 67-الحملة التي قام بها مدحت باشا عام 1871 للسيطرة على إقليم يسمى الاحساء.ص75
- 68-الدولة التي تعد مركز التوابل في جنوب شرق آسيا تسمى الهند.ص83
- 69-الدولة الخليجية التي ظهرت فيها قوة اليعاربة تسمى عمان.ص84
- 70-الرحي الحجري كانت تستخدم في طحن الغلال.ص56

**السؤال الثاني: اختر الإجابة الصحيحة من بين البدائل التالية:**

- 1- يحد دولة الكويت من الشمال والشمال الغربي: ص20  
(البحرين - المملكة العربية السعودية - قطر - **جمهورية العراق**)
- 2- تبلغ مساحة دولة الكويت: ص20  
(16.818 كم - **17.818 كم** - 18.818 كم - 19.818 كم)
- 3- يبلغ عدد الجزر الكويتية: ص26  
( 8 - 9 - **10** - 11 )
- 4- تصل أحيانا درجة الحرارة بدولة الكويت في فصل الصيف: ص30  
(47 درجة - 48 درجة - 49 درجة - **50 درجة**)
- 5- نسبة المساحة التي تشغلها جزيرة بوبيان من إجمالي مساحة دولة الكويت تبلغ: ص26  
( **5%** - 6% - 7% - 8% )
- 6- رياح تهب معظم أيام السنة وهي رياح جافة بفعل المرتفع السيبيري تسمى: ص32  
(**الشمالية الغربية** - السموم - رياح الكوس - العواصف الترابية)
- 7- تلال على شكل قباب تقع في جنوب دولة الكويت: ص22  
(جال الزور- كراع المرو- اللياح - **وارة**).
- 8- العام الذي أجري فيه أول تعداد رسمي موثق لسكان دولة الكويت: ص34  
(1955م - 1956م - **1957م** - 1958م)
- 9- الجزيرة الكويتية التي توجد بها دلائل أثرية ومعمارية وهي ثاني أكبر جزيرة من حيث المساحة: ص26  
(وربه - بوبيان - **فيلكا** - كبر)
- 10- توجد القلعة الهلينستية في جزيرة: ص57  
( **فيلكا** - بوبيان - قاروه - وربه).
- 11- استمر الوجود الإغريقي على جزر جون الكويت حتى بداية القرن: ص57  
(**الأول** - الثاني - الثالث - الرابع ) قبل الميلاد.
- 12- الشيخ الذي حصلت معركة الرقة في عهده: ص71  
(**عبد الله الأول** - جابر الأول - صباح الثاني - محمد بن صباح).
- 13- وقعت معركة الرقة بين بني كعب والكويت عام: ص71  
(1775م - **1783م** - 1789م - 1800م).

14- تأسست الشركة الهندية الشرقية عام: ص86

(1600م - 1601م - 1602م - 1603م).

15- انتقل مركز البريد البريطاني للكويت عام: ص87

(1755م - 1765م - 1775م - 1785م).

16- حاكم الكويت الأول هو الشيخ: ص71

(صباح الأول - عبد الله الأول - محمد بن صباح - مبارك الكبير).

17- ساعد العثمانيون في حملتهم على الاحساء بقيادة مدحت باشا هو الشيخ: ص75

(جابر الأول - صباح الثاني - عبد الله بن صباح - محمد بن صباح).

18- من الزيارات التي حدثت في عهدة زيارة المعتمد البريطاني لويس بيلى هو الشيخ: ص75

(جابر الأول - صباح الثاني - عبد الله بن صباح - محمد بن صباح).

19- عقدت بريطانيا اتفاقية الحماية البريطانية على الكويت عام: ص100

(1896م - 1897م - 1898م - 1899م).

20- أول دولة استعمارية في منطقة الخليج العربي تسمى: ص84

(هولندا - بريطانيا - البرتغال - العثمانية).

21- العام الذي اتجهت فيه حملة مدحت باشا للسيطرة على إقليم الاحساء: ص75

(1870م - 1871م - 1872م - 1873م).

22- المنطقة التي وقعت فيها معركة ذات السلاسل بين المسلمين والفرس عام 12 هجرية

تسمى: ص58

(كاظمة - الصبية - أم العيش - الجهراء)

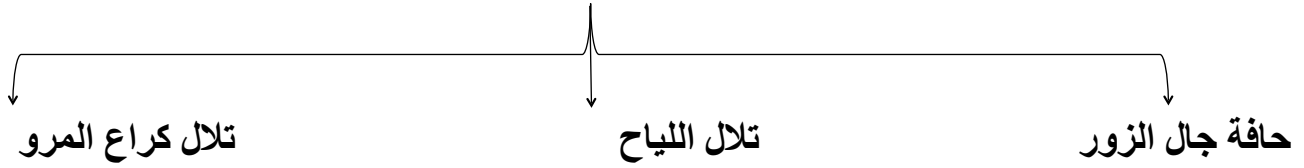


**السؤال الثالث: عرف المفاهيم والمصطلحات التالية:**

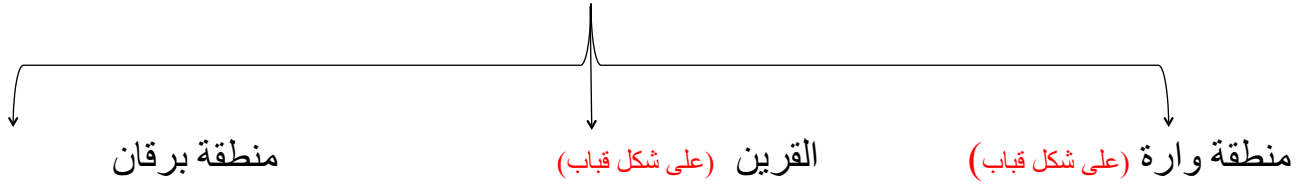
- 1- **الترانزيت:** منطقة لتجارة العبور قليلة الضرائب -إعادة تصدير الواردات.ص20
- 2 - **الكوس (الرياح الجنوبية الشرقية):** رياح رطبة دافئة تهب من الجنوب الشرقي وتتأثر في المنخفض السوداني وتعمل على رفع درجة الحرارة والرطوبة صيفاً. ص32
- 3 - **السموم:** رياح جافة جداً تهب في الظهيرة حيث تنخفض معها الرطوبة النسبية وتعمل على رفع درجات الحرارة تهب من الشمال أو الشمال الشرقي في فصل الصيف.ص32
- 4 - **السرايات (العواصف الترابية):** رياح تهب في أواخر الربيع وأوائل الصيف فتثير الغبار ويصاحبها عواصف رعدية يسقط بسببها المطر الشديد. ص32
- 5 - **سهل الروضتين:** أرض منبسطة تنحدر نحو الشرق والشمال الشرقي. ص25
- 6- **حضارة العبيد:** بقايا الآثار الحضارية القديمة التي عثر عليها في مناطق مختلفة من أراضي الكويت كالصبية وجزيرة فيلكا ووارة وتلال القرين وبرقان.ص34
- 7 - **العتوب:** مجموعه من الأسر أو العشائر ترجع أصولها الى عدة قبائل أبرزها قبيلة عنزة وموطنهم الأصلي نجد في منطقة الهدار. ص67
- 8 - **كويت:** هي تصغير لكلمة كوت وتعني القلعة أو الحصن. ص65
- 9 - **القرين:** مفرداها القرن وهو اسم شائع في شبه الجزيرة العربية للدلالة على المرتفع أو التل الصغير. ص65
- 10 - **السهل:** مساحات أرضية واسعة من الأراضي المستوية. ص25
- 11 - **التل:** ارتفاع اقل من الجبل.ص25
- 12- **إقليم البحرين:** إقليم يمتد من جنوب البصرة شمالا حتى عمان جنوبا.ص34

**السؤال الرابع: أكمل المخططات السهمية التالية: -**

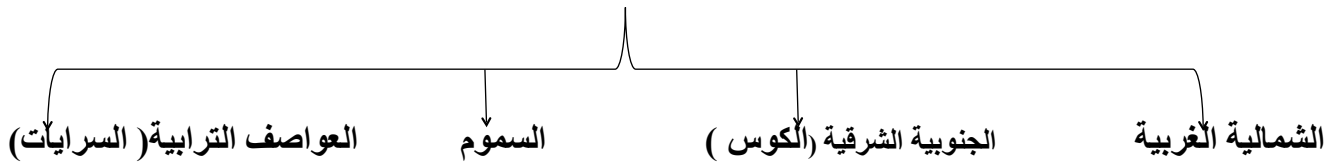
1 - توجد سلسلة من التلال في شمال دولة الكويت مثل: ص 22



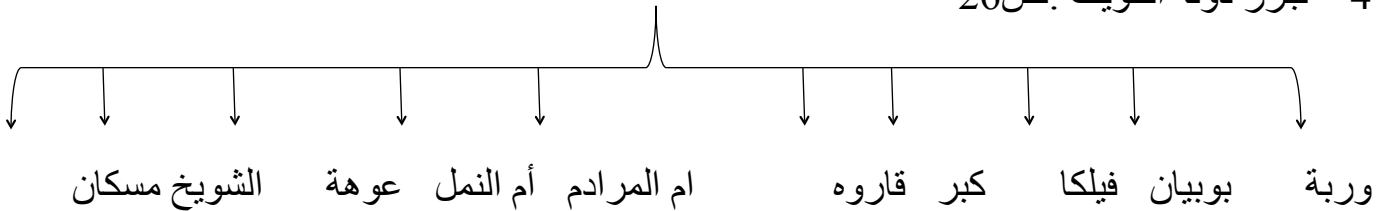
2 - توجد بعض التلال في جنوب دولة الكويت: ص 22



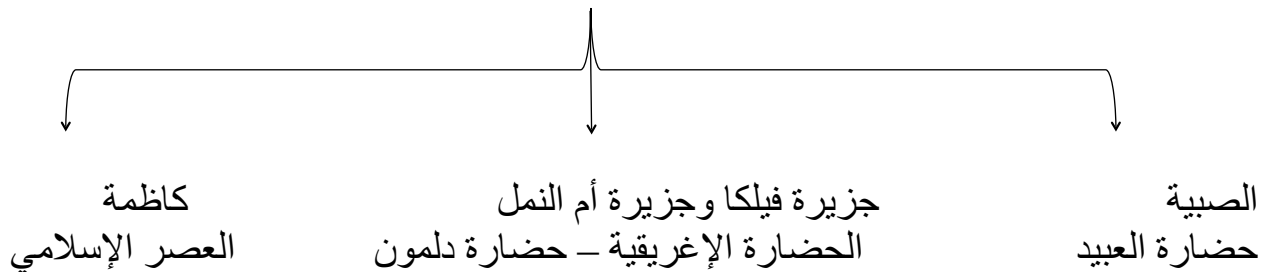
3 - أنواع الرياح في دولة الكويت: ص 32



4 - جزر دولة الكويت: ص 26

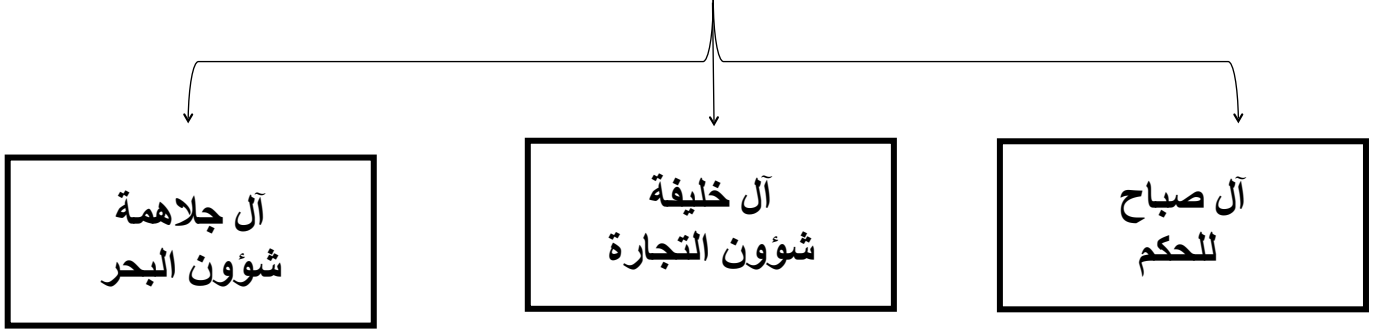


5- مراحل التطور الحضاري للكويت قديماً: ص 56-57-58

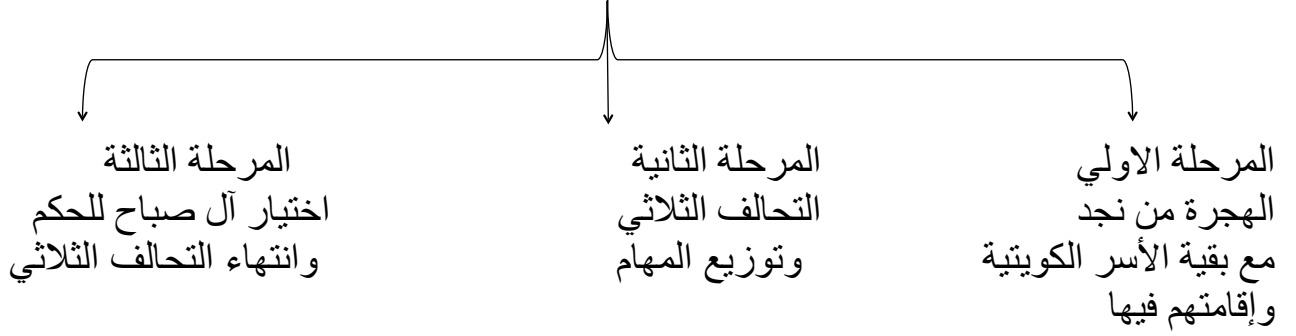




تقسيم المهام بين الأسر الثلاث الكبيرة ص69



مراحل استقرار الحكم ص69



## السؤال الخامس :

### 1- فرق بين السهل والتل من حيث ما هو مطلوب بالجدول التالي:ص25

وجه المقارنة	السهل	التل
المفهوم	مساحات أرضية واسعة من الأراضي المستوية	هو إرتفاع أقل من الجبل

### 2- قارن بين ما يلي: ص22-23-25

نوع التضاريس	التلال	الأودية	السهول	هضاب
أمثلة	1 - حافة جال الزور 2 - تلال كراع المرو 3 - تلال اللياح 4 - تلال وارة	وادي الباطن	- سهل الدبدبة - سهل برقان - سهل الروضتين	الأحمدي

### 3- فرق بين المميزات المناخية لدولة الكويت في الفصول الأربعة: ص29-30

الصيف	الشتاء	الربيع	الخريف
- طويل جاف حار - تهب رياح مثيرة للغبار - ترتفع نسبة الرطوبة - تصل درجة الحرارة الى 50 درجة	- دافئ قصير - ممطر أحياناً - تصل درجة الحرارة إلى 18 درجة مئوية وقد تنخفض للصفر	قصير معتدل	- ترتفع فيه نسبة الرطوبة - تقل فيه درجة الحرارة نسبياً عن الصيف

### 4- صنف مناخ دولة الكويت في كل فصل : ص29-30

الصيف	الشتاء
طويل جاف وحرار	قصير ودافئ وممطر أحياناً

الربيع	الخريف
معتدل وقصير	رطوبة عالية ودرجة أقل من الصيف

### 5-أنواع الرياح التي تهب في دولة الكويت ومميزاتها : ص32

الرياح	المميزات وآثارها المناخية
الشمالية الغربية	رياح جافة بفعل المرتفع السيبيري المتمركز شمال القارة الآسيوية – تهب معظم أيام السنة – خافضة لدرجة الحرارة .
الجنوبية الشرقية ( الكوس )	رياح رطبة دافئة – تهب من الجنوب الشرقي وتتأثر بالمنخفض السوداني – ترفع درجة الحرارة تزيد من نسبة الرطوبة في فصل الصيف – تسهم باعتدال الجو في فصل الشتاء وتحمل معها المطر .
السموم	رياح جافة جداً تهب في الظهيرة – تخفض نسبة الرطوبة – تتميز بدرجات حرارة عالية – تهب من الشمال أو الشمال الشرقي في فصل الصيف
العواصف الترابية ( السرايات )	عواصف ترابية تهب في أواخر الربيع وأوائل الصيف - مثيرة للغبار – مصحوبة بعواصف رعدية يسقط بسببها المطر الشديد .

### 6-فرق بين الدولة البحرية والدولة المغلقة من حيث المفهوم : ص22

الدولة البحرية	الدولة المغلقة
هي الدولة التي تحاط أراضيها بالمياه وتسيطر على أقاليم بحرية.	هي دولة محاطة باليابس من الكامل .

### 7- نظم جدولاً لمعركة الرقة يحتوى على ( تاريخ المعركة – الأطراف المتحاربة – الأسباب – النتائج ) ص72

عناصر جدول المقارنة	معركة الرقة
التاريخ	1783م
الأطراف المتحاربة	بني كعب والكويت
الأسباب	غيرة بني كعب من أن الميناء الكويتي هو الذي أصبح المفضل للتجار وهذا يضيق على معاملاتهم التجارية.
النتائج	انتصار الكويت وأخذ الذخائر والمدافع ووضعها على الشاطئ تخليداً لانتصارهم.

**8- فرق بين كل مما يلي حسب الجدول التالي:ص71**

الأعمال والأحداث في عهد الشيخ عبدالله الأول	الأعمال والأحداث في عهد الشيخ صباح الأول
-ازدهرت التجارة في عهده حيث امتدت الي الهند واليمن وشرق آسيا والعراق.  -معركة الرقة عام 1783م.  بناء سور الكويت الأول عام1797م.	-عمل على توطيد الأمن ونشر العدل وتنظيم أمور السكان.  -ترسيخ أنشطة الكويت التجارية.  -اجتذاب الكثير من المهاجرين الذين وجدوا فيها موطن استقرار ونظام حكم قائم على الشورى والعدل.

## 9-قارن بين حكام دولة الكويت حسب الجدول: ص76

ترتيب الحاكم	اسم الحاكم	تاريخ توليه الحكم	سماته الشخصية	اهم الأحداث في عصره	تاريخ نهاية حكمه
الحاكم الأول	الشيخ صباح الأول بن جابر	1752م	الشجاعة والحكمة	- ظهور الكويت ككيان سياسي منظم - توطيد الأمن - نشر العدل - ترسيخ أنشطة الكويت التجارية	1763م
الحاكم الثاني	الشيخ عبد الله الأول بن جابر بن صباح	1763م	سيرة حسنة - نباهه - حزم - قريب من الحق - محب للعدالة	معركة الرقة - بناء سور الكويت الأول -	1814م
الحاكم الثالث	جابر الأول بن عبد الله الصباح	1814م	الحكمة - هدوء الطبع - حبه لشعبه - أشتهر بجابر بالعيش	تطور صناعة السفن - نقل البضائع - بناء السور الثاني	1859م
الحاكم الرابع	الشيخ صباح الثاني بن جابر	1859م	حبه لشعبه - العدل	تقدمت التجارة - ألغى الرسوم على البضائع - زيارة المعتمد البريطاني للكويت	1866م
الحاكم الخامس	الشيخ عبد الله بن صباح الثاني	1866م	حسن السيرة - دمامة الأخلاق	مساعدته العثمانيين في حملتهم على الإحساء	1892م
الحاكم السادس	الشيخ محمد بن صباح	1892م	النزاهة والوقار والتواضع	ترحيبه وتسهيله لإستقرار أسرة الأمير عبد الرحمن آل سعود	1896م
الحاكم السابع	الشيخ مبارك الصباح	1896م	حاكماً مطلقاً يمثل الدولة بأكملها	- معركة الصريف عام 1901م. - معركة هدية 1910م. - انشاء المدرسة المباركية عام 1911. - انشاء اول مستشفى عام 1911م. - وقع اتفاقية الحماية البريطانية عام 1899م. - مؤسس دولة الكويت الحديثة .	1915م

## 11- أهم التطورات الداخلية التي حدثت في عهد الشيخ مبارك الصباح:ص94

المجالات	تطور الأوضاع الداخلية والخارجية في دولة الكويت
حفظ الأمن وتشجيع التجارة	- اخراج قوات عسكرية لتأمين طرق القوافل التجارية. - ضمان سلامة الطرق داخل حدود إمارته أو بالقرب منها. - تشجيع التجارة ومراقبة الأسواق ومشكلات الأهالي. - معاقبة الخارجين على القانون. - فتح خزائنه للتجار ومساعدتهم بالمال في تجارتهم. - كان يتوسط لحل المشكلات بين التجار. - شجع على تصنيع السفن الكبيرة لنقل البضائع بين الكويت والموانئ المختلفة خاصة الهند.
التعليم	- إنشاء المدرسة المباركية عام 1911م أول المدارس النظامية الأهلية.
الصحة	- وافق على تأسيس أول مستشفى عام 1911م وأطلق عليها المستشفى الأمريكي.
الجيش	- وفر للجيش عقيدة قتالية وتموين وإدارة وتشكيلات قتالية معتمداً على قبائل وسكان الكويت.

## 12- سياسة الدولة العثمانية مع الكويت قبل وبعد إتفاقية الحماية البريطانية عام 1899م:ص98

قبل الحماية	بعد الحماية
(1) فرض سيطرتها بجعلها نهاية لخط سكة حديد بغداد برلين. (2) إقامة حجر صحي وإرسال موظفين. (3) تظاهروا بالتعامل بموقف حيادي مع الكويت خوفاً من توجيه الشيخ مبارك للقوى الخارجية	(1) محاولات فرض النفوذ بالقوة. (2) تهديد الشيخ مبارك الصباح بالنفي. (3) إرسال بعض الوحدات العسكرية لأراضي الكويت. (4) ظلت تهديدات الدولة العثمانية للكويت مستمرة طوال عهد الشيخ مبارك.

13- السبب المعلن وغير المعلن لخطوات روسيا للتأثير على الشيخ مبارك في القرن 19م:ص96

السبب المعلن	السبب الحقيقي
إقامة بعض المشاريع التجارية في الكويت	تعزيز النفوذ الروسي في الكويت

14- الجوانب الإيجابية والسلبية لإتفاقية الحماية عام 1899م:ص100

الجوانب الإيجابية للإتفاقية	الجوانب السلبية للإتفاقية
(1) تدعيم استقرار الأوضاع في الكويت (2) دعم الكويت في مواجهة الاخطار الخارجية والداخلية (3) إيقاف التهديدات العثمانية والروسية للكويت. (4) محافظة الكويت على كيانها السياسي.	(1) فقد الكويت سيادتها فيما يتعلق بشؤونها الخارجية. (2) طبقت على الكويت عبارة (إمارة مستقلة تحت الحماية البريطانية) في جميع الاتصالات الرسمية.



**-السؤال السادس: علل لما يلي:**

**1-أهمية الموقع الإستراتيجي لدولة الكويت بين دول العالم.ص20**

- تمثل النهاية الطبيعية للطريق الملاحي البحري والتجاري.
- تمثل البوابة الرئيسية لشمال شرق الجزيرة العربية.
- منطقة (ترانزيت) ،منطقة لعبور التجارة قليلة الضرائب.
- أحد اهم الموانئ في شمال إقليم الاحساء.
- أكسب موقعها الكويتيون مهارة نقل التجارة بين موانئ الخليج والهند وافريقيا.

**2- زيادة أهميه سهل برقان.ص25**

- بسبب إكتشاف النفط، حيث يضم أكبر حقول النفط الكويتية وهو حقل برقان.

**3- صلاحية بعض مناطق الكويت دون غيرها للزراعة. ص26**

- بسبب توافر المياه الجوفية.

**4-أهمية جزيرة فيلكا.ص26**

- يوجد بها بقايا ودلائل أثرية ومعمارية قديمة.
- ذكرها الرحالة الغربيون في المصادر اليونانية والرومانية القديمة.
- إهتمام البعثات الإستكشافية للكشف عن تاريخها الحضاري.
- الجزيرة الثانية من حيث المساحة.

**5-طمع العراق خلال مراحل صراعه مع دولة الكويت في جزيرتي وربة وبوبيان. ص26**

- حيث كانت ستمنحه منفذا بحريا على الخليج العربي.

**6-يمتاز مناخ دولة الكويت بالجفاف والرطوبة.ص30**

- بسبب قلة الأمطار ونسبة التبخر العالية.

**7-يعاني سكان دولة الكويت منذ القدم من مشكلة المياه.ص30**

- لأن الموارد المائية شحيحة وعالية الملوحة.

**8-افتقدت الكويت لمفهوم الدولة قبل نزول العتوب فيها.ص68**

- لأنها افتقدت لعنصرين من اهم عناصر البناء السياسي وهما (السلطة – الحدود السياسية).

## 9- الأهمية الاثرية لجزيرة فيلكا. ص 57

- مركز من مراكز حضارة دلمون.
- العملات النحاسية.
- القلعة الهلينستية وتل الخزنة.
- الكتابات على الصخور مثل حجر ايكاروس.
- أختام مستديرة.
- كنيستين متجاورتين.
- صورة لختم دلموني.
- الأهمية الاثرية لمنطقة الصبية.
- ظهر بها أقدم الحفريات الجيولوجية.

## 10- تسمية الكويت بهذا الاسم. ص 65

- تصغير لكلمة الكوت والكلمة تعني القلعة أو الحصن.

## 11- كانت قطر محطة الإستقرار الأولى بالنسبة للعتوب. ص 67

- بسبب القحط الذي أصاب مناطقهم الأصلية.

- الصراعات القبلية في موقعهم.

## 12- تسمية العتوب بهذا الاسم. ص 67

- أصل كلمة عتوب يرجع إلى الفعل عتب ومعناه الإكثار من الترحال.

## 13- هجرة العتوب من قطر إلى جنوب البصرة ثم الصبية بالكويت. ص 67

- بسبب الخلاف الذي حدث بينهم وبين آل مسلم حكام قطر.

## 14- إختيار الشيخ صباح بن جابر للحكم. ص 68

- سماته الشخصية من شجاعة وحكمة.

- كانت الزعامة لوالدة على قومه منذ أن كانوا بنجد.

- كان يقيم في الكويت طوال أيام العام وكان عملة في الصحراء خلافا للبقية الذين كانوا يعملون في البحر.

## 15- إشتهر الشيخ جابر الأول بجابر العيش. ص 74

- لكرمه ولكثرة ما يتصدق به على الفقراء والمساكين.

## 16- إختيار الكويتيون أرض الكويت موطناً لهم رغم البيئة الصحراوية. ص 68

- رغبة منهم في العيش الحر المستقل وعدم التبعية لأحد.

## 17- بناء السور الأول عام 1797م. ص 72

- لحماية المدينة من الأخطار الخارجية.

**18- إتجاه البرتغاليون للسيطرة على الخليج العربي في مطلع القرن 16. ص 84**

- النهضة الملاحية التي شهدتها أوروبا.
- أدراك البرتغال للأهمية الاقتصادية لمنطقة الخليج.
- سرعة توجه الكشوف الجغرافية والإستعمارية بدافع العامل السياسي والديني على منطقة الخليج العربي حيث كان هناك صراع بينهم وبين العثمانيين.

**19- تعرض التواجد البرتغالي في منطقة الخليج العربي للإنتهاز التدريجي. ص 84**

- بسبب المنافسة التجارية بينه وبين الهولنديون.
  - وقوع البرتغال نفسها تحت الاحتلال الأسباني.
  - جهود اليعاربة في عمان التي ساهمت في تصفية الوجود البرتغالي وطردهم من المنطقة.
- 20- وقعت تغيرات في أوضاع البرتغاليين في الشرق في أواخر القرن السادس عشر. ص 84**
- وصول سفن لدول أوروبية لمشاركة البرتغاليين في الأرباح التي كانوا يحصلون عليها من تجارة الشرق.

- ظهور الهولنديون في مياه الهند الشرقية.

- تحرك إنجلترا في تجاه الهند.

**21- اهتمام بريطانيا بمنطقة الخليج العربي. ص 86**

- لأنه طريق حيوي لحماية إمبراطوريتهم ومصالحهم في الهند.

**22- نقل مركز البريد والتجارة البريطاني من البصرة إلى الكويت عام 1775م. ص 87**

- بسبب الصراع بين الدولة الفارسية والعثمانية ما بين 1775 - 1779م.

- الحصار الفارسي للبصرة عام 1775.

**23- عودة الإنجليز إلى الكويت مره أخرى واتخاذها مقر مؤقتاً عام 1793 - 1795م. ص 87**

- بسبب المشاكل التجارية والسياسية بين العثمانيين والوكالة الإنجليزية.

**24- أهمية معاهدة 1899م بالنسبة للكويت. ص 100**

- حفظت للكويت حدودها من الأطماع في تلك الفترة.

**25- رفض الشيخ مبارك الصباح كافة المشاريع المقدمة من الروس. ص 96**

- لأنها كانت ستار لأهداف سياسية غير معلنة وتعامل معها الشيخ مبارك الصباح بكل حذر من خلال رفضها.

## 26- سعي الشيخ مبارك الصباح نحو البريطانيين وعقد اتفاقية الحماية 1899م. ص 100

-قلق الشيخ مبارك من التهديد العثماني المستمر.

-خوفه من ضم العثمانيين الإمارة بالقوة.

-إيقاف النفوذ العثماني والروسي.

-جعل الكويت تنمو بعيداً عن الصراعات.

## 27- دعم الشيخ مبارك الصباح الأمير عبد العزيز آل سعود عسكرياً. ص 103

-استعادة ملك آبائه وأجداده.

## 28- تعتبر فترة حكم الشيخ مبارك الصباح حاسمة في تاريخ الإمارة الكويت. ص 93

(ا) كان حاكماً مطلقاً يمثل الدولة بأكملها.

(ب) واجه العديد من التغيرات والتهديدات التي طالما مهددت إمارته.

(ج) استطاع أن يحافظ على كيان الدولة نحو الاستقرار والتطور.

## 29- إتجهت الكويت إلى توقيع معاهدة الحماية مع بريطانيا 1899م. ص 100

-بسبب التهديد العثماني للكويت -وأطماع الروس -والتمهيد لجعل الكويت تنمو بعيداً عن الصراعات.

## 30- تراجع الشيخ صباح الثاني عن قرار فرض الضرائب. ص 75

-رفض التجار - واحتراما لرغبة شعبه.

## السؤال السابع: اكتب فيما درست عما يلي:

### 1- اختيار الشيخ صباح الأول يعد البداية الحقيقية لظهور الكويت ككيان سياسي منظم. ص 71

-حيث بدأ بالعمل على توطيد الأمن ونشر العدل.

-تنظيم أمور السكان.

-ترسيخ أنشطة الكويت التجارية.

-تحديد نظام الحكم القائم على الشورى والعدل.

### 2- تولى الشيخ عبد الله الأول الحكم بعد وفاة والده على الرغم من أنه أصغر أبنائه. ص 71

-لأنه صاحب سيرة حسنة ونبيه وحازم وقريب من الحق ومحب للعدالة.

### 3- تعد فترة حكم الشيخ جابر الأول فترة ازدهار بحري لدولة الكويت. ص 74

-لتطور صناعة السفن الكبيرة الخاصة بالنقل البحري. (البغلة والبتيل)

-استطاع الكويتيون الوصول لسواحل الهند واليمن لنقل البضائع منها وإليها.

## السؤال الثامن: نفذ المطلوب فيما بين القوسين:

1- حرص حكام الكويت على اتخاذ قرارات ذات أبعاد اقتصادية مما ساعد على النمو لتجاري

والاقتصادي (اذكر أهم القرارات) .ص78

- قلة الضرائب على البضائع القادمة للكويت.
- تشجيع بناء سفن الغوص وتأمين طرق التجارة المارة عبر أراضيها.
- اجتذاب الوكالات التجارية التابعة للشركات الأوروبية العاملة في الخليج العربي.
- لعب التجار الكويتيون دور الوسيط التجاري مع دول الجوار.
- تعزيز نزعة الاستقلال لدى حكام الكويت وتأكيد كيانهم المستقل مستندين الى الاستقرار الأمني والسياسي والاقتصادي.
- سماحة وصدق وأمانة أهل الكويت.

2- نمو وازدهار دولة الكويت تحت حكم آل صباح (عدد العوامل).ص79

- موقع الكويت الإستراتيجي على الجزء الغربي للخليج العربي والجزء الشمال الشرقي لشبة الجزيرة العربية.
- طبيعة نظام الحكم المعتمد على العدل والشورى والأمن.
- وجود علاقات متوازنة مع القوى المجاورة.
- التسهيلات التي كانت تمنح لتجار البادية، والتي كانت تسمى ( تجارة المسابلة).
- النظام الإقتصادي الدقيق وتوزيع المهام ما بين الغوص ونقل التمور وتجارة البادية.
- الصفات التي تميز بها أهل الكويت من التسامح والإنتفاع على الآخرين.

3- العلاقة القوية بين الكويت وقبيلة بني خالد. (اذكر النتائج).ص70

- تمتع الكويت بمزيد من الأمن والرخاء والحماية.
- جعلتها تنمو وتزدهر في جو أكثر استقرارا وهدوء.
- استطاعت أن تنجو من التهديدات والأخطار (العثمانيين –السعوديين).

4- عهد الشيخ عبد الله الأول (اذكر أهم الاحداث).ص71

- ازدهرت التجارة في عهده حيث امتدت الي الهند واليمن وشرق آسيا والعراق.
- معركة الرقة عام 1783م. - بناء سور الكويت الأول عام 1797م

## 5-إنهيار الإستعمار الهولندي ( النتائج على بريطانيا).ص85

- ا) - وضع الإنجليز أيديهم على ممتلكات هولندا في الهند.
- ب) الحصول على بعض الإمتيازات من شاه فارس.
- ج) تعزيز بريطانيا لوجودها العسكري بشكل يضمن لهم الإنفراد بالخليج.
- د) استولوا على سيلان والمواقع التجارية في الخليج.

## 6-كانت العلاقة العثمانية الكويتية علاقة إسمية قائمة على الولاء الديني فقط.ص88

- لم يكن للعثمانيين أي سلطة إدارية او سياسية او عسكرية في الكويت،فمن أدار شؤون الكويت الداخلية هم حكامها وأهلها.
- استصدار مدحت باشا الفرمان العثماني الذي حدد فيه علاقة الكويت بالدولة العثمانية ،والتي تؤكد أن شيخ الكويت مستقل في شؤونه وكما سمح للكويت من ممارسة قضائها الخاص ،ولم يتضمن الفرمان وجود قوات عسكرية تابعه للدولة العثمانية ،ولم يتدخل في فرض الحاكم واختياره.

### السؤال التاسع:دلل على صحة العبارات التالية:

#### 1- لم تكن الكويت منطقة مهجورة وخالية من السكان. ص34

- سكنها وعاش على أرضها جماعات إنتمت لعهود وفترات زمنية متعددة.
- جماعات عاشت ومارست حياتها الطبيعية حيث كانت موجودة حولها أو على مقربة منها.
- يعود الوجود البشري في منطقة الكويت الى أكثر من أربعة آلاف سنة ق0م.
- وجود بقايا الآثار الحضارية القديمة التي عثر عليها في جزيرة فيلكا وتل وارة وتل القرين وبرقان (حضارة العبيد).

#### 2- لمنطقة الصبية قيمة وأهمية أثرية كبيرة. ص56

- إذ أنها تحتضن منات المواقع الأثرية التي برهنت على وجود حضارة العبيد القديمة.
- العثور على أقدم القرى السكنية وأبار المياه في (بحرة – طبيج) شمال الصبية.
- العثور على جرار فخارية. –عثر على عشرات من المدافن الركامية.
- العثور على الرحي الحجرية التي تستخدم في طحن الغلال.
- عثر على أدوات الغزل وحياسة الملابس ومساكن بيضاوية الشكل.

### 3- صبغت دولة الكويت بصبغة إسلامية منذ الفترة المبكرة لظهور الإسلام. ص 58

- معركة ذات السلاسل عام 12هـ والتي وقعت في منطقة كاظمة بالكويت.
- العثور على مسكوكات إسلامية، أهمها عملة أموية مؤرخة بعام 123هـ.
- مباني في منطقة أم العيش ترجع الى الفترة الإسلامية.
- مستوطنات متتالية في منطقة الشقايا ووادي الباطن والذي من المحتمل أنها تقع على طريق الحج البصري (طريق الحج).

### 4- تعتبر السيطرة البرتغالية من أسوأ النظم الإستعمارية في الخليج العربي. ص 84

- تدمير البرتغاليون القاعدة الاقتصادية لمنطقة الخليج.
- احتلال القرى والمدن بطريقة وحشية.

### 5- كانت فترة حكم الشيخ مبارك الصباح 1896م - 1915م حاسمة في تاريخ الكويت. ص 93

- كان الشيخ مبارك حاكماً مطلقاً.

- كان يواجه واقعاً دولياً يموج بالتغيرات والمطامع والتهديدات التي هددت إمارته ووجودها.

### 6- تطور (التعليم والصحة والجيش) في دولة الكويت في عهد الشيخ مبارك الصباح. ص 94

- التعليم: إنشاء المدرسة المباركية في عهدة عام 1911م وكانت أول المدارس النظامية الأهلية.

- الصحة: وافق على تأسيس أول مستشفى عام 1911م والذي أطلق عليها المستشفى الأمريكي.

- الجيش: وفر للجيش عقيدة قتالية وتمويل وإدارة وتشكيلات قتالية معتمداً على قبائل الكويت وسكانها.

### 7- براعة الشيخ مبارك الإستقلالية رغم إرتباطه باتفاقية الحماية مع بريطانيا. ص 103

- تحركه المنفرد في الكثير من الأحيان

- دعم الأمير عبد العزيز آل سعود عسكرياً.

- تخفيف التوتر مع العثمانيين وعدم التصادم العسكري معهم.

- وقوف في وجه بريطانيا من أي سياسية تنقص من سيادة الكويت.

### 8- إهتمام الشيخ مبارك الصباح بحفظ الأمن وتشجيع التجارة. ص 94

- أخرج قوات عسكرية لتأمين طرق القوافل التجارية. - تشجيع التجارة ومراقبة الأسواق.

- يتوسط لحل المشاكل بين التجار. - حل مشاكل الأهل

- ضمان سلامة الطرق داخل حدود أمارته أو بالقرب منها.

- معاقبة الخارجين على القانون - مساعدته للتجار بالمال.



## 9-تبدو الخطوات الروسية لتعزيز نفوذها في الكويت أكثر وضوحاً منذ نهاية القرن التاسع

عشر الميلادي.ص96

- إقامة بعض المشاريع التجارية مثل إنشاء محطة للفحم - ميناء تزويد سفنها بالوقود.
- جعل الكويت نهاية لخط سكة حديدية(مشروع كابنيست).

## 10-أهمية الكويت بالنسبة لبريطانيا في نهاية القرن الثامن عشر.ص87

- أسس البريطانيون مراكز تجارية لهم في الكويت.
- أسس البريطانيون مركز للبريد البري المتجه من الهند إلى لندن.
- نقل مركز البريد والتجارة من البصرة إلى الكويت.

## 11-تأييد الشيخ مبارك الصباح للأمير عبد العزيز آل سعود.ص103

- عندما تجهز الأمير عبد العزيز آل سعود لمغادرة الكويت قدم له الشيخ مبارك الصباح الأسلحة والمؤن وما يعينه على تحقيق هدفه في استعادة ملك آبائه وأجداده بعد استقرار دام 9 سنوات.

## 12-دور الشيخ مبارك الصباح في التصدي للأطماع الخارجية.ص96-97-98

- الروس: أنه رفض مشروع انشاء محطة فحم لأنه راه يميل على الجانب البريطاني.
- الالمان: رفض مشروع سكة برلين – بغداد لأنه لا يريد للألمان أي مشروع اقتصادي.
- الدولة العثمانية: رفض مشروع خط سكة الحديد لأنه أدرك ان الكويت سوف تفقد استقلاليتها.

## السؤال العاشر: اجب عن الأسئلة التالية:

### 1-أذكر خصائص التضاريس في دولة الكويت.ص22

- أنحدر السطح تدريجياً من الغرب إلى الشرق باتجاه سواحل الخليج العربي.
- لا يزيد أعلى ارتفاع عن 300متر.
- يتكون السطح من سهول رملية مستوية تتخللها بعض التلال قليلة الارتفاع (145) م

### 2- عدد أهم مناطق المياه الصالحة للاستهلاك الأدمي بالكويت.ص30

- الروضتين – أم العيش – الصليبية- العبدلي – الوفرة.

### 3-أذكر المميزات المناخية لدولة الكويت.ص29

- مناخ قاري جاف قاس.
- ارتفاع درجة الحرارة معظم أيام السنة.
- وجود فصلين رئيسيين هما (الصيف – الشتاء) وفصلين ثانويين (الربيع – الخريف).

### 4-عدد أهم المناطق الأثرية في دولة الكويت.ص56

- تل وارة – القرين – برقان – تل الصليبخات – كاظمة – الصبية – جزيرة فيلكا).

**- ماهي دلائل وجود الحضارة الإغريقية في دولة الكويت. ص57**

- عثر في جزيرة أم النمل على (قبر على الساحل - تمثال من الطين المحروق - مذبح من الحجر الرملي)

- عثر في جزيرة فيلكا على (القلعة الهلنستية - تل الخزنة - العملات النحاسية - حجر ايكاروس)

**6- أذكر أهم الاكتشافات الأثرية لحضارة دلمون في جزيرة فيلكا. ص57**

- مجموعة من الأختام المستديرة التي تحمل نقوشا وصور لحيوانات.

- معابد تنتشر حولها الوحدات السكنية.

- أكثر من 400 ختم دلموني كانت تستعمل كتعويذة أو ختم تجاري أو هوية لحاملها.

**7- ما أهم سمات الشيخ جابر الأول بن عبد الله الصباح. ص74**

- كان هادئ الطبع، محب لقومه، مشفق عليهم. - اشتهر بجابر العيش لكرمه.

- قال عنه البريطاني الكابتن ج بروكس بأنه ذكي جدا ويحترمه قومه.

**8- عدد أهم الأعمال في عهد الشيخ جابر الأول بن عبد الله. ص74**

- بناء السور الثاني عام 1814م. - ساعد العثمانيين على إعادة البصرة.

- فترة ازدهار بحري للكويت. - تطور صناعة السفن وازدهار التجارة.

- رفض عرض مقدم من شركة الهند الشرقية الإنجليزية لإقامة محطة فحم لدولة الكويت 1841م.

- رفض إقامة بعض المباني ورفع الراية الإنجليزية على أرض الكويت.

- وصول الكويتيون لسواحل مختلفة لنقل البضائع منها واليها.

**9- عدد أهم الأحداث في عهد الشيخ صباح الثاني بن جابر. ص75**

- تقدم التجارة في عهده بشكل كبير. - ألغي الرسوم على البضائع احتراما لرغبة شعبه.

- زيارة المعتمد البريطاني للكويت لويس بيلي عام 1865م والتي أشاد فيها الى ازدهار الكويت

تجاريا واقتصاديا.

- أشار بكنجهام بأهل الكويت بأنهم أكثر الخليج حبا للحرية والإقدام

**12- أذكر الأحداث التي تمت في عهد الشيخ عبد الله بن صباح الثاني. ص75**

- ساعد العثمانيين في حملتهم على إقليم الأحساء عام 1871م (حملة مدحت باشا).

### 13- اذكر اشكال المساعدات التي قدمها الشيخ عبدالله بن صباح الثاني للعثمانيين في حملة مدحت

باشا.ص75

- ساند الشيخ الحملة بأسطول بحري (80) سفينة يقودها بنفسه.

- أرسل جيش بري بقيادة شقيقه الشيخ مبارك.

14- ما أهم سمات الشيخ محمد بن صباح؟ ص75

- اتصف بالنزاهة والوقار والتواضع.

- ساعدة في الحكم أخويه الشيخ (جراح تولى الشؤون المالية - مبارك شؤون البادية والجيش).

15- ما موقف الشيخ مبارك الصباح من البعثة الألمانية. ص97

أحسن الشيخ مبارك استقبال البعثة عام 1900م في منطقة الجهراء ولكنه رفض أي

مشاريع اقتصادية بحكم الاتفاقية 1899م.

### السؤال الحادي عشر: عدد ما يلي:

1- الأسس التي حددها الفرمان العثماني حول علاقة الكويت بالدولة العثمانية. ص88

- شيخ الكويت مستقل بشؤونه الداخلية.

- منح شيخ الكويت لقب "قائم مقام"

- أهالي الكويت لا يلتزمون بدفع ضرائب أو رسوم للباب العالي.

- إلزام السفن الكويتية برفع العلم العثماني مع إعفائها من دفع الرسوم.

2- بنود اتفاقية الحماية 1899م. ص100

- لا يستقبل حاكم الكويت أي وكيل أو ممثل لأي سلطة أو حكومة بدون موافقة بريطانية.

- ليس لحاكم الكويت بيع أو تأجير شيء من أراضي الكويت لأي دولة أجنبية أو رعايا إلا بمراجعة

بريطانيا.

3- ما أهم الأحداث في عهد الشيخ محمد بن صباح. ص75

- رحب وسهل استقرار أسرة الأمير عبد الرحمن آل سعود في الكويت عام 1891م.

**السؤال الثاني عشر: فند العبارات التالية:**

**1- لم يتخذ حكام الكويت قديما أي قرارات تساعد على النمو التجاري والاقتصادي. ص78**

- بل اتخذ حكام الكويت العديد من القرارات ذات أبعاد إقتصادية ساعدت على النمو التجاري والاقتصادي للكويت.

- قلة الضرائب على البضائع القادمة للكويت.

- تشجيع بناء سفن الغوص وتأمين طرق التجارة.

- اجتذاب الوكالات التجارية التابعة للشركات الأوروبية العاملة في الخليج العربي،

- لعب التجار الكويتيون دور الوسيط التجاري مع دول الجوار.

- تعززت نزعة الإستقلال لدى حكام الكويت وتأكيد كيانهم المستقل مستندين الى الإستقرار الأمني والسياسي والاقتصادي وسماحة وصدق وأمانة أهل الكويت.

**2- استمر وضع السكان في الكويت دون تغير عام 1990م. ص35**

- تعرض وضع السكان لتغيرات كبيرة نتيجة الإحتلال العراقي الغاشم على دولة الكويت، وماتبع ذلك من عودة كبيرة للوافدين الى أوطانهم.

**3- لم يكن لليعاربة في منطقة الخليج أي جهود تذكر نحو الوجود البرتغالي. ص84**

- ساهم اليعاربة في تصفية الوجود البرتغال في الخليج وطردهم من المنطقة.

**4- استمر التفوق الهولندي في منطقة الخليج العربي طويلاً. ص85**

- لم يستمر طويلاً بسبب التنافس الإنجليزي الهولندي الذي قضى على امالهم في النهاية.

**5- قيدت اتفاقية 1899م استقلالية الكويت في عهد الشيخ مبارك الصباح. ص100**

- بل حافظت الكويت على استقلالها في ظل المعاهدة إذا إنطبق عليها وصف الدولة المستقلة تحت الحماية البريطانية والدليل ما يلي:

- عدم تدخل بريطانيا في مآزره الشيخ مبارك للأمير عبد العزيز آل سعود في قيام الدولة السعودية الثالثة عام 1902م.

- قيادة الشيخ مبارك عدة حروب دون مشاورة بريطانيا.

- معارضة الشيخ مبارك لبريطانيا في تعيين المعتمد البريطاني في دولة الكويت.

### السؤال الثالث عشر: ما تفسيرك لما يلي:

1- حرص بريطانيا على بقاء إتفاقية الحماية للكويت عام 1899م سرية. ص 100

- بسبب عدم رغبتها في إثارة الدولة العثمانية.

- عدم خلق توتر جديد بينها وبين القوى الأوروبية.

2- لو لم يرفض الشيخ مبارك الصباح مشروع سكة الحديد مع الدولة العثمانية والالمان. ص 97-98

- لفرضت الدولة العثمانية سيطرتها على الكويت وجعلتها نهاية لمشروع خطة سكة حديد برلين بغداد بالتعاون مع الألمان.

3- فترة حكم الشيخ مبارك الصباح 1896م – 1915 م حاسمة في تاريخ الكويت. ص 93

- كان الشيخ حاكماً مطلقاً.

- كان يواجه واقعاً دولياً يُموج بالتغيرات والمطامع والتهديدات التي هددت إمارته ووجودها.

### السؤال الرابع عشر: ما النتائج المترتبة على:

1- توقيع إتفاقية الحماية البريطانية 1899م. ص 100

- تم حماية الكويت من الأخطار الداخلية والخارجية وحافظت على حدود دولة الكويت واستقرار الأوضاع.

2- الصراع القائم بين الدولة الفارسية والدولة العثمانية وحصار فارس للبصرة عام 1775م. ص 87

- اضطر البريطانيون إلى نقل مركز البريد والتجارة إلى الكويت.

3- مساعدة الكويت للدولة العثمانية في حملة مدحت باشا عام 1871م. ص 75

- تلطيف الأجواء بين الطرفين. - إصدار مدحت باشا والي بغداد فرمانا موسعا عن الكويت.

## السؤال الخامس عشر: من قائل العبارات التالية:

### 1- الكويت أرض قفراء نزلها جدنا صباح عام 1022هـ الموافق 1613م.ص66

- **القائل:** الشيخ مبارك الصباح.

- **لمن:** للمقيم البريطاني في الخليج العربي.

- **المناسبة:** بيان حدود الكويت.

### 2- سكن الكويت قبل نزول العتوب قليل من البدو وصيادي الأسماك.

- **القائل:** عبد العزيز الرشيد في كتاب تاريخ الكويت.

- **المناسبة:** بعد استقرار العتوب ظهرت الحاجة إلى قيام سلطة تؤول لها القيادة وتتوافر لها الشرعية.

### 3- دخلت ثلاث أسر عربية ذات شأن هي آل صباح وآل جلاهمة وآل خليفة تحدوهم عوامل

المصلحة والطموح في التحالف واستقرت على بقعة من الأرض على الساحل الشمالي الغربي

من الخليج العربي. ص68

- **القائل:** فرنسيس وarden.

- **المناسبة:** إختيار آل صباح للحكم.

### 4- لو كانت تحت يدى ثروة طائلة لقت بحاجة الفقراء والمحتاجين منها إلى أن يموتوا.ص74

- **القائل:** جابر الأول بن عبد الله بن صباح.

- **المناسبة:** لأنه اشتهر بجابر العيش وكثرة ما يتصدق به على الفقراء والمساكين.

### 5- لقد قاومت هذا طيلة عمري وأنت تطالبني بالموافقة على ذلك:ص104

- **القائل:** الشيخ مبارك الصباح للمعتمد البريطاني.

- **المناسبة:** عندما أرادت بريطانيا تعيين ممثل تركي في الكويت واحتد النقاش

مع المعتمد البريطاني.

- **علام تدل هذه العبارة:** عدم تبعية الكويت للدولة العثمانية.

**السؤال السادس عشر:**



**اقرأ الفقرة التاريخية التالية، ثم أجب عما يليها:ص102**

(لكويت أهمية كبيرة بالنسبة لبريطانيا كمكان آمن، لذلك سعت بريطانيا لتطوير وتوثيق علاقته مع الكويت من خلال عدة خطوات حتى توجت هذه العلاقة بعقد إتفاقية الحماية عام 1899م، والتي نصت على أن يلزم حاكم الكويت (الشيخ مبارك الصباح) نفسه ووارثيه وخلفه في الحكم بالألتنازل أو بيع أو يوجر أو يرهن أو يعطي للإستغلال لأي غرض كان أي جزء من مقاطعته لأي حكومة أو رعايا أي سلطة بدون الموافقة السابقة للحكومة البريطانية.

• ما أسباب توقيع إتفاقية الحماية؟

.....

.....

.....

• اذكر إثنين من بنود إتفاقية الحماية:

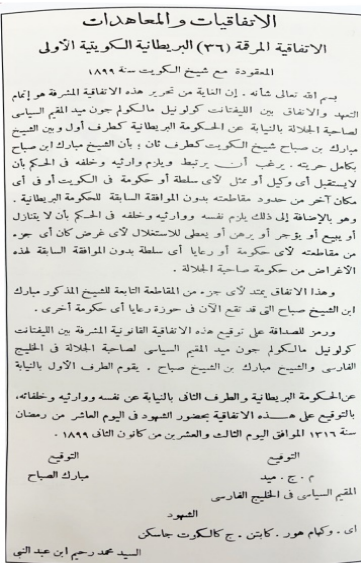
.....

.....

.....

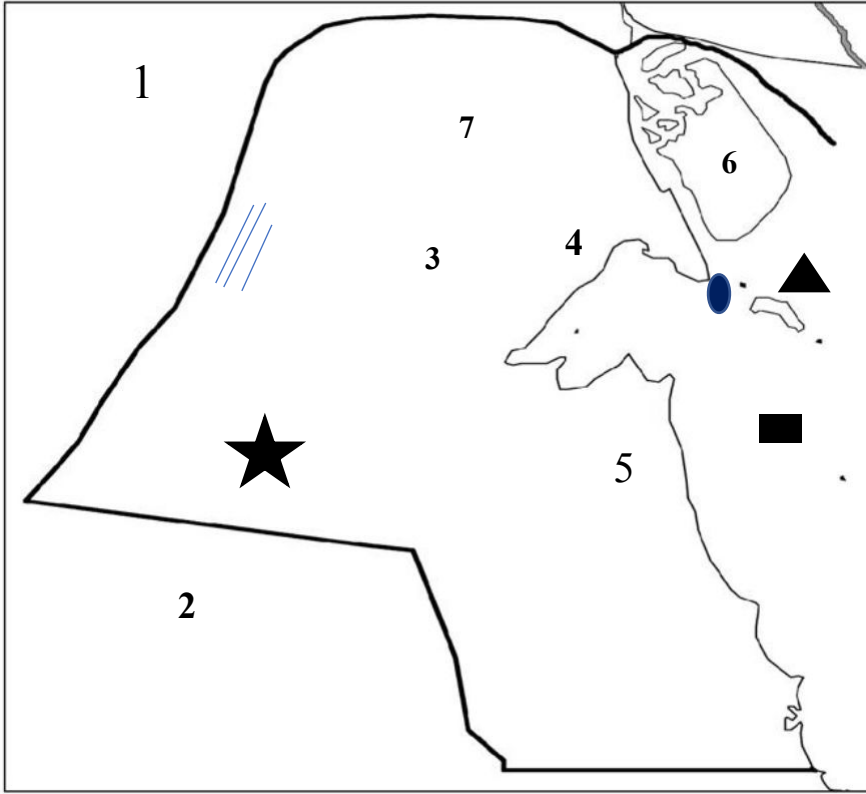
2- أكتب فقرة مترابطة من ثلاث أسطر مستعينا بالكلمات التالية:

(الشيخ عبد الله بن صباح الثاني – دولة عثمانية – مدحت باشا – الإحساء) من أهم الأحداث في عهد الشيخ عبدالله الثاني مساعدته للدولة العثمانية في حملتهم (حملة مدحت باشا) عام 1871م لإعادة سيطرتها على إقليم الأحساء.





**لاحظ خريطة دولة الكويت الصماء ثم أجب عما يلي :- ص 20-23-27**



\* دولة تحد الكويت من جهة الشمال

والشمال الغربي يمثلها الرقم (1) **جمهورية العراق**

\* دولة تحد دولة الكويت من جهة

الجنوب والجنوب الغربي يمثلها الرقم (2) **المملكة العربية السعودية**

\* حافة جال الزور يمثلها

الرقم 4....

\* تلال وارة يمثلها الرقم 5.....

\* سهل الروضتين يمثلته

الرقم 7....

\* تلال كراع المرو يمثلها

الرقم 3....

\* جزيرة بوبيان يمثلها

الرقم 6....

\* حدد على الخريطة الصماء لدولة

الكويت ما يلي :



1 - جزيرة فيلكا بالرمز



2 - معركة الرقة بالرمز



3 - الخليج العربي بالرمز

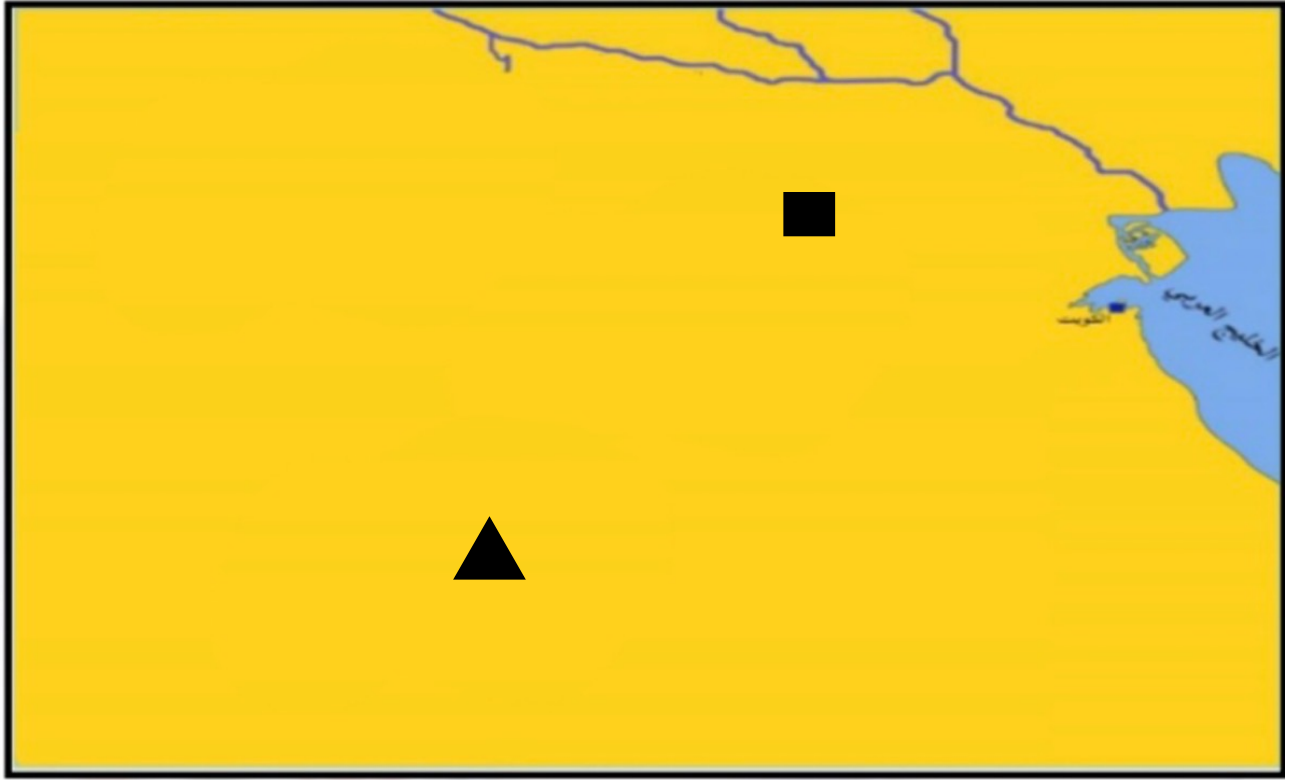


4 - وادي الباطن بالرمز



5- سهل الدبدبة بالرمز

**- حدد على خريطة شبه الجزيرة العربية ما هو مطلوب منك : ص 104**



- \* معركة التي هديه قادها الشيخ مبارك الصباح في عام ١٩١٠ م بالرمز ▲
- \* معركة الصريف التي قادها الشيخ مبارك الصباح في عام ١٩٠١ بالرمز ■

**-لاحظ خريطة العالم القديم وحدد عليها مايلي حسب الرمز:-**



- دولة تعد مركزا للتوابل في جنوب شرق آسيا بالرمز ★

- أولى الدول الاوربيه في استعمار منطقه الخليج بالرمز ▲

1- حدد على خريطة شبه الجزيرة العربية ما هو مطلوب منك: ص 67

- خط سير هجرة العتوب.

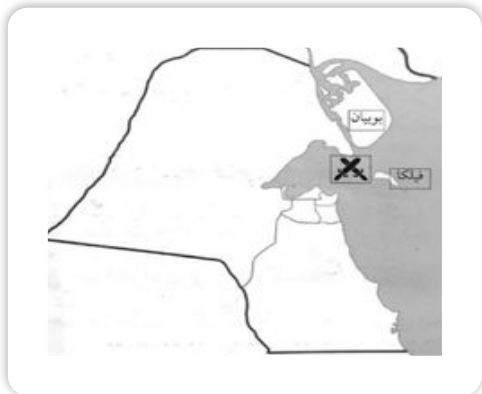


2- لاحظ الصور التالية ثم أكمل العبارات بما يناسبها: ص 95

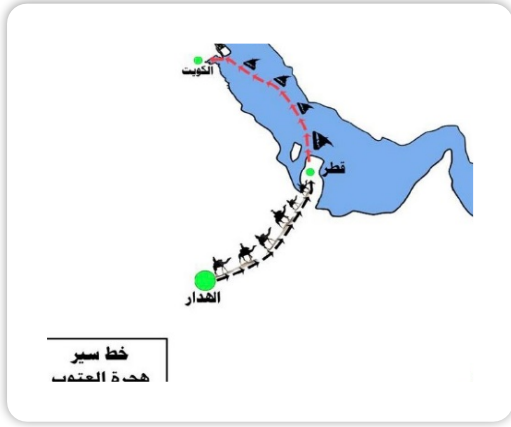
1- تتدل الصورة على أول مدرسة نظامية في دولة الكويت تسمى المباركية.....



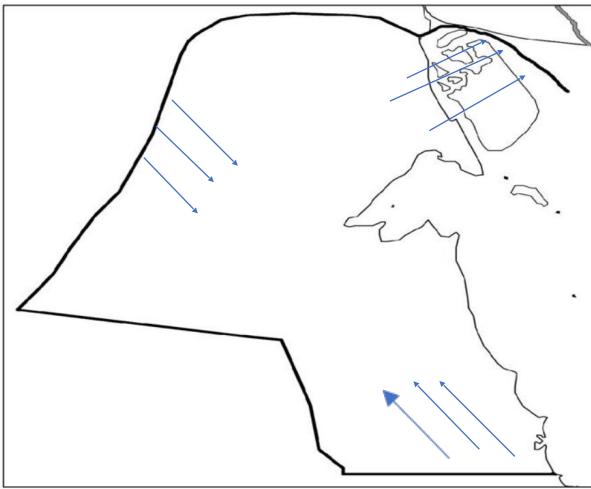
2- يمثل الرمز × معركة بارزة في تاريخ دولة الكويت تسمى..... معركة الرقة ص 72



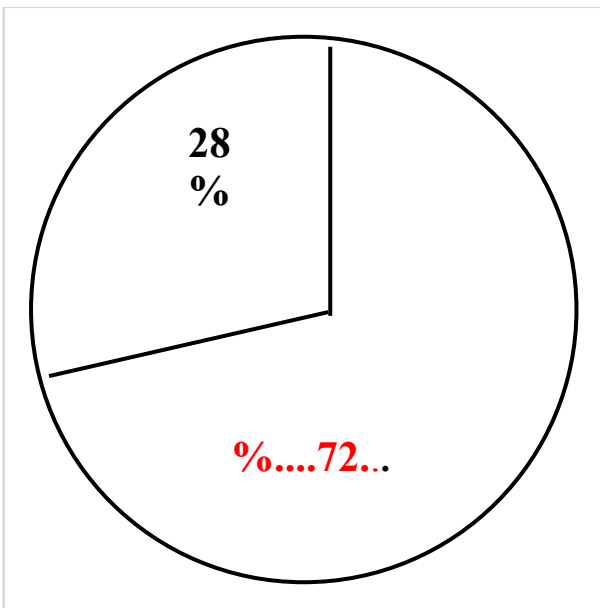
3-تدل الخريطة على خط سير هجرة... العتوب  
ص67



-اذكر أنواع الرياح التي تهب على دولة الكويت محددًا اتجاهاتها بالرسم على



- الخريطة ص33
- الرياح الشمالية الغربية
  - الرياح الجنوبية الشرقية
  - رياح السموم



■ أكمل الدائرة البيانية التالية بنسبة الوافدين في

دولة الكويت عام 1990م. ص36



- أهم سهول دولة الكويت: ص 22

سهيل الدبدبة

سهيل الروضتين

سهيل بركان



- تلال دولة الكويت: ص 23-25

كراع المرو

جال الزور

اللياح

وارة

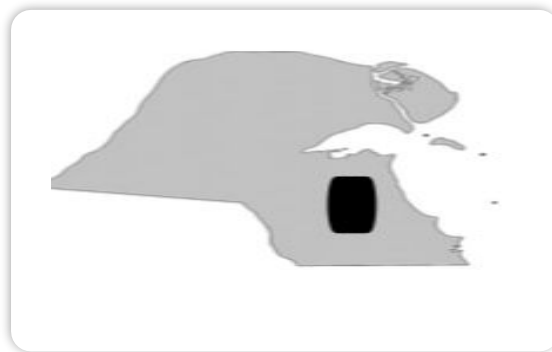
برقان

القرين



وادي الباطن ص 23

- أودية دولة الكويت



هضبة الأحمدية

ص 23

انسخ الصور التالية الي الحضارة التي تنتمي اليها:



**حضارة العبيد**  
قارب فخاري  
منطقة الصبية ص56



**الحضارة الإغريقية**  
القلعة الهلينستية  
في جزيرة فيلكا  
ص57



**الحضارة الدلمونية**  
طبعة ختم  
جزيرة فيلكا ص60



**الحضارة الدلمونية**  
ختم مستدير  
جزيرة فيلكا ص60