

**SMART  
STUDENT**

مادة التاريخ

# بتك مطول

الصف الثاني عشر أدبي



Download App



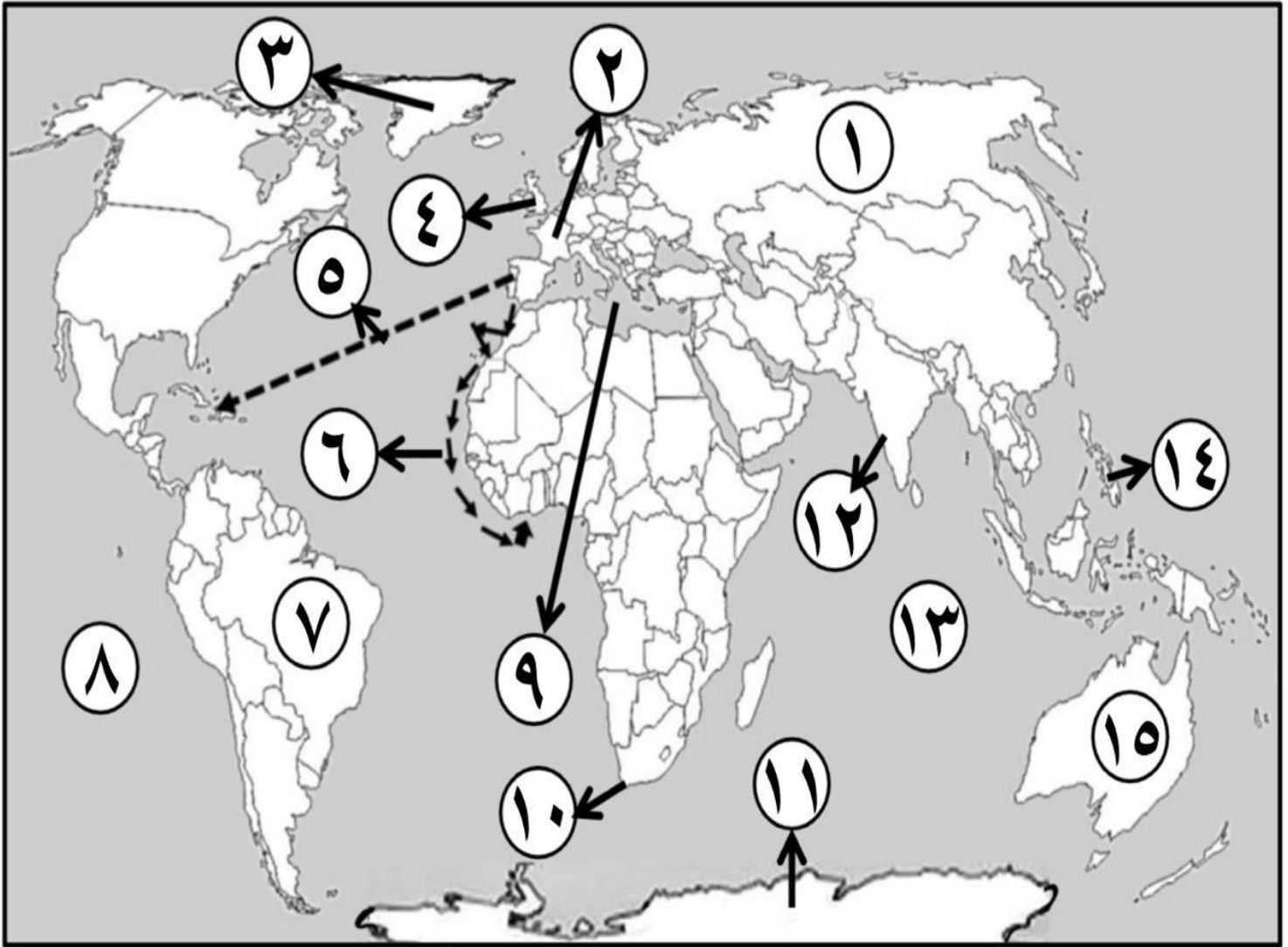
فترة أولى



## نماذج أسئلة الخريطة



أ - أمامك خريطة العالم الصماء - اكتب الرقم الدال على العبارات التي تليها :



- المنطقة التي وصل إليها الرحالة الجغرافي بارثلميودياز عام ١٤٨٨م يمثلها على الخريطة الرقم

( ١٠ ) ص ٢



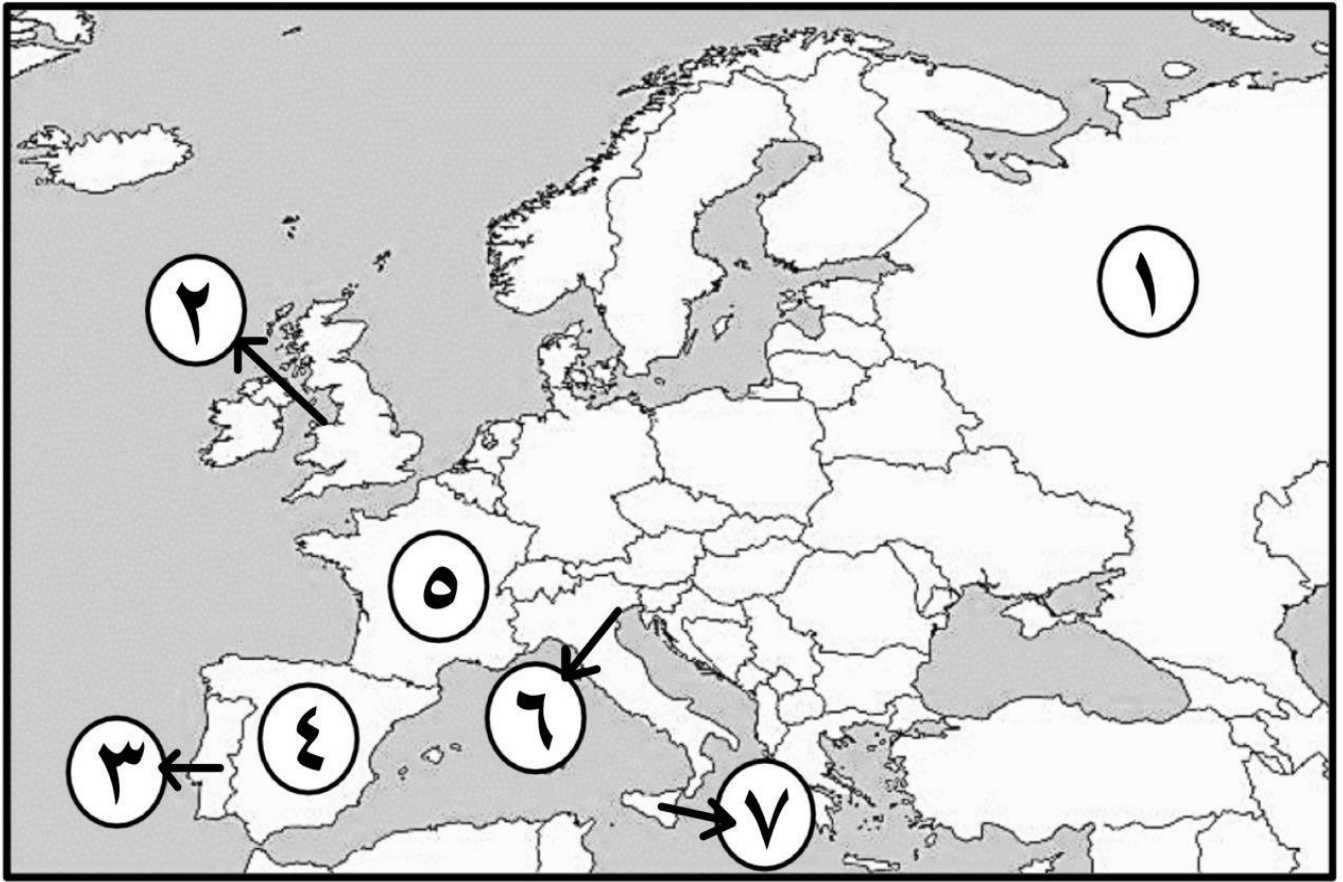


- الجزر التي قتل فيها الرحالة الجغرافي " ماجلان " عام ١٥٢١م يمثلها على الخريطة الرقم ( ١٤ )  
ص ٣٥
- القارة التي وصل إليها المستكشف الجغرافي " جيمس كوك " يمثلها على الخريطة الرقم ( ١٥ )  
ص ٣٩
- الدولة الاستعمارية التي تمكنت من إخضاع سيبيريا يمثلها على الخريطة الرقم ( ١ ) ص ٥٦
- خط سير الرحالة الجغرافي " هنري الملاح " يمثلها على الخريطة الرقم ( ٦ ) ص ٢٧
- القاعدة التي انطلقت منها الثورة الصناعية يمثلها على الخريطة الرقم ( ٤ ) ص ٦٢
- المحيط الهندي يمثل على الخريطة الرقم ( ١٣ ) ص ٣٩
- جزيرة "جرينلاند" يمثلها على الخريطة الرقم ( ٣ ) ص ٣٨
- المنطقة التي وصل إليها المكتشف الجغرافي "أمريكو فسبوتشي" يمثلها على الخريطة الرقم ( ٧ )  
ص ٣٤
- المسطح المائي الذي قلته أهميته بعد حركة الكشوف الجغرافية يمثل على الخريطة الرقم ( ٩ )  
ص ٤٥
- المحيط الذي أطلق عليه ماجلان اسم المحيط الهادي يمثلها على الخريطة الرقم ( ٨ ) ص ٣٥
- قارة أنتاركتيكا يمثلها على الخريطة الرقم ( ١١ ) ص ٤٣
- خط سير الرحالة الجغرافي "كريستوفر كولومبس" يمثلها على الخريطة الرقم ( ٥ ) ص ٣٢
- المنطقة التي وصل إليها المكتشف الجغرافي "فاسكو دي جاما" يمثلها على الخريطة الرقم ( ١٢ )  
ص ٢٩
- دولة استعمارية احتلت الجزائر عام ١٨٣٠م يمثلها على الخريطة الرقم ( ٢ ) ص ٥٢





ب ) - أمامك خريطة أوروبا الصماء - اكتب الرقم الدال على العبارات التي تليها :



- أول دولة أوروبية قامت بحركة الكشوف الجغرافية يمثلها على الخريطة الرقم ( ٣ ) ص ٢٧
- جزيرة "صقلية" يمثلها على الخريطة الرقم ( ٧ ) ص ١٦
- ميناء بريستول الذي أبحر منه الرحالة الجغرافي "جون كابوت" يمثله على الخريطة الرقم ( ٢ ) ص ٣٧
- الدولة الاستعمارية التي اشتهرت بتجارة الفراء يمثلها على الخريطة الرقم ( ١ ) ص ٥٦
- بلاد الأندلس يمثلها على الخريطة الرقم يمثلها على الخريطة الرقم ( ٤ ) ص ١٤
- مدينة البندقية يمثلها على الخريطة الرقم ( ٦ ) ص ١٦
- الدولة الاستعمارية التي انتدبت سوريا ولبنان يمثلها على الخريطة الرقم ( ٥ ) ص ٥١





## نماذج أسئلة اختيار من متعدد

أ) ظل الخيار الصحيح من بين الخيارات التي تلي كل عبارة :

١- سبب رفض الملك الأسباني " فرديناند " و "الملكة إيزابيلا" مشروع كريستوفر كولومبس : **ص ٣١**

العجز المادي	<u>الحرب مع المسلمين</u>
الحروب الأهلية	عدم القناعة بمشروعه

٢- الجزيرة التي اكتشفها الرحالة " جاك كارتية " : **ص ٤٠**

<u>أورليانز</u>	سانت كروز	ماديرا	هاواي
-----------------	-----------	--------	-------

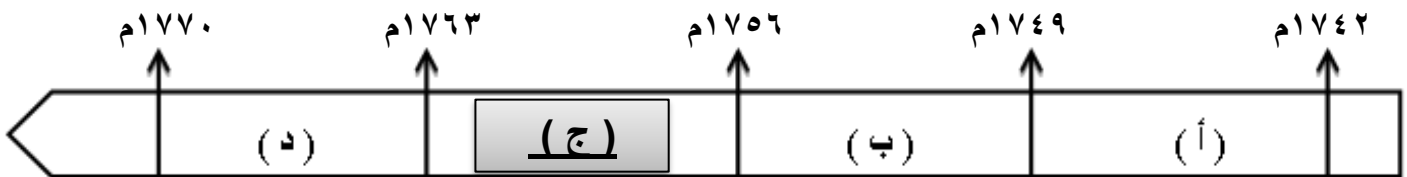
٣- أحد رواد الحركة الفنية بعصر النهضة الأوروبية : **ص ١٨**

أرازاموس	مارتن لوثر	<u>ليوناردو دافنشي</u>	دانتي
----------	------------	------------------------	-------

٤- العالم الذي اخترع الهاتف ( التليفون ) عام ١٨٧٦م : **ص ٦٨ معلق**

<u>صموئيل موريس</u>	<u>جراهام بل</u>	هنري بسمر	جيمس وات
---------------------	------------------	-----------	----------

٥- الفترة الزمنية التي حدثت فيها حرب السنين السبع يمثلها على المخطط الزمني الحرف : **ص ٥٥**



٦- الأثر المترتب على اختراع الآلة التي تمثلها الصورة المقابلة : **ص ٦٣ معلق**



<u>إنتاج آلات من الصلب</u>	<u>غزل ثمانية خيوط</u>
استخدام قوة الماء لعملية الغزل	بث الإشارات والأصوات



ب) اختر الإجابة الصحيحة من بين البدائل التي تلي كل عبارة :

١- المنطقة التي تمكن المكتشف "روبرت بيرى" من الوصول إليها عام ١٩٠٩م : ص ٤٢

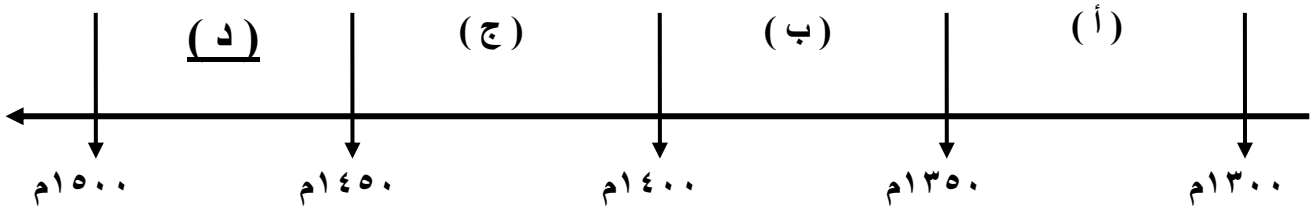
أ- خليج هدسن      ب- جزيرة أورليانز      ج- بحيرة سليف الكبرى      د- القطب الشمالي

٢- من أهم أعمال صاحب الصورة التي أمامك : ص ٢٠



أ - رسم لوحة الموناليزا      ب - عارض فكرة صكوك الغفران  
ج - ألف رواية الحياة الجديدة      د - اختراع أحرف الطباعة المعدنية

٣- الفترة الزمنية للفتح العثماني لمدينة القسطنطينية يمثلها على المخطط الزمني الحرف : ص ١٢



٤- الملاح الذي قام بالرحلة المشار إليها بالخريطة المقابلة : ص ٢٨



أ - بارثلميو دياز      ب - روبرت ماكلور  
ج - جون فرانكلين      د - فاسكو دي جاما

٥- المستعمرة البرتغالية الوحيدة في أمريكا الجنوبية : ص ٤٥

أ - المكسيك      ب - جواتيمالا      ج - البرازيل      د - هندوراس

٦- الدولة الاستعمارية التي احتلت مصر عام ١٨٨٢م يمثلها على الخريطة التي أمامك : ص ٥١



أ - ( ١ )      ب - ( ٢ )  
ج - ( ٣ )      د - ( ٤ )





## صحح العبارة



(\* صوب ما تحته خط في العبارات التالية :

م	العبارة	التصويب
١	القارة التي أثبت المستكشف تشارلز ويلكز انها كتلة ضخمة مغطاة بالثلج هي <u>أمريكا الشمالية</u> .	أنتاركتيكا - القطب المتجمد الجنوبي ص ٤٣
٢	قُتل الرحالة " ماجلان " عام ١٥٢١م في جزر <u>ماديرا</u> .	الفلبين ص ٣٥
٣	نتج عن رحلة فاسكو دي جاما وصول البرتغال إلى <u>أستراليا</u> .	الهند ص ٢٩
٤	الرحالة " جون كابوت " ينتمي إلى رحلات <u>الكشوف الأسبانية</u> .	الإنجليزية ص ٣٧
٥	أسهم " الإخوان راييت " في أحداث الثورة الصناعية في مجال <u>التعدين</u> .	الطيران ص ٦٦ معلق
٦	استغلال دولة قوية لدولة أخرى ضعيفة بهدف السيطرة على مواردها الاقتصادية تسمى <u>الإمبريالية</u> .	الاستعمار الأوروبي ص ٤٩
٧	اختراع " ديملر وبنز " عام ١٨٨٥م <u>القاطرة البخارية</u> . معلق	سيارة البنزين ص ٦٥
٨	سقوط عاصمة الإمبراطورية الرومانية " روما " على يد القبائل الجرمانية عام ٣٦٧م.	٤٧٦م ص ١١
٩	الميناء الذي ابحر منه المكتشف الجغرافي جون كابوت اسمه <u>سانت مالو</u> .	بريستول ص ٣٧
١٠	العالم الذي اخترع محرك الاحتراق الداخلي عام ١٨٩٢م اسمه <u>روبرت فولتن</u> . معلق	رودلف ديزل ص ٦٥
١١	المحور الأساسي للدخل القومي لمعظم دول أوروبا قبل الثورة الصناعية يسمى <u>التجارة</u> .	الزراعة ص ٦١
١٢	الدولة الأوروبية التي انطلقت منها حركة النهضة الأوروبية ونقلت أوروبا من الظلمات إلى العصور الحديثة <u>أسبانيا</u> .	إيطاليا ص ٦٢





## أكمل العبارات

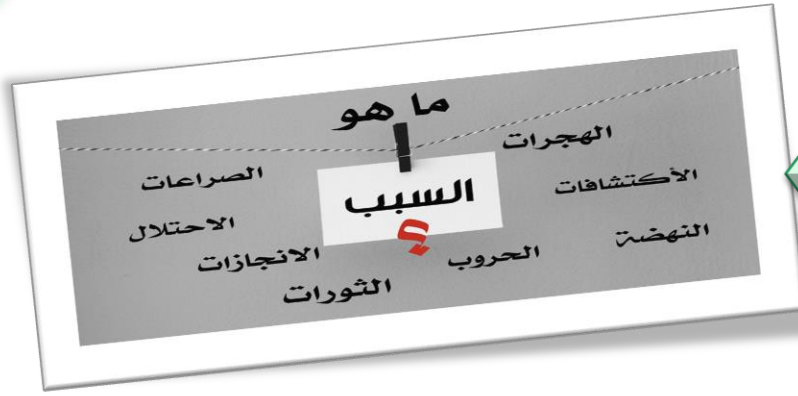
القلم لك ..  
إملاً الفراغ

**\* ( أكمل العبارات التالية بما يناسبها فيما درست :**

- ١- الدولة الأولى التي قامت بحركة الكشوف الجغرافية في نهاية القرن ١٥ م اسمها البرتغال ص ٢٧
- ٢- حاجة الأوروبين إلى المزيد من الذهب والفضة تسمى مجاعة نقدية ص ٢٥
- ٣- الأسطول الاسباني الذي تحطم على يد الإنجليز عام ١٥٨٨ م اسمه الأرمادا ص ٥٤
- ٤- المستكشف الإنجليزي الذي وصل إلى خط عرض ٧٢ شمالاً اسمه جون ديفيز ص ٣٨
- ٥- النظام الاستعماري الذي أجبر المستعمرات على أن لا تتاجر مع أي دولة إلا البلد المستعمر يسمى الميثاق الاستعماري ص ٥٦
- ٦- المنطقة التي تمكن الرحالة "روبرت بيرري" من الوصول إليها عام ١٩٠٩ م اسمها القطب الشمالي ص ٤٢
- ٧- أطلق المستكشف "كولومبس" على جزر الأنتيل الصغرى والكبرى بعد اكتشافهم عام ١٤٩٢ م اسم سان سلفادور ص ٣٢
- ٨- الاختراع الذي توصل إليه العالم "توماس أديسون" عام ١٨٧٧ م اسمه المصباح الكهربائي ص ٦٧
- ٩- الطبقة التي سيطرت على مقاليد السلطة السياسية في أوروبا بعد الثورة الصناعية اسمها الرأسمالية ص ٦٩
- ١٠- الرحالة الذي تمكن من اكتشاف مضيق هدرس اسمه مارتن فروبشير ص ٣٧
- ١١- الملك الذي أطلق اسم رأس الرجاء الصالح على رأس العواصف اسمه جون الثاني ص ٢٨
- ١٢- مؤلف كتاب الأمير عام ١٥١٣ م اسمه نيقولا ماكيافيلي ص ٢١







## علل

### ( \* ) علل لما يلي :

#### ١- قيام حركة الإصلاح الديني . ص ٢٠

- جهود الحركة الإنسانية في التنبيه لأهمية إصلاح الكنيسة .
- الرغبة في تحرير حركة التّقدم العلمي من قيود الكنيسة.
- اهتمام أوروبا بجوانب الحياة الدنيوية .
- ظهور كثير من المُصلحين الذين نادوا بتخليص الكنيسة من مفسدها .

#### ٢- لم تعمر الإمبراطورية الاستعمارية الهولندية طويلاً . ص ٥٥

- الهولنديون أمة صغيرة غير قادرة على حماية الإمبراطورية التي تمّ تأسيسها بشكل كبير تجاوز حدود إمكاناتهم .
- كان اعتمادهم الأول على التجارة مما أدى لإهمال قطاعي الزراعة والصناعة.
- سياساتهم الاستبدادية في المستعمرات .
- منافسة الدول الأوروبية الجديدة لها مثل إنجلترا وفرنسا .

#### ٣- البرتغاليون أول من بدأ حركة الكشوف الجغرافية. ص ٢٧

- توفر الأدوات اللازمة من علم وخبرة وسفن متطورة .
- استقرار الوضع في بلادهم لذلك وجهوا اهتمامهم لاكتشاف طريق جديد خارج نطاق البحر المتوسط .

#### ٤- انطلاق شرارة الثورة الصناعية من إنجلترا . ص ٦٢

- الاستقرار الداخلي : أدى نجاح الثورة المجيدة التي قامت في إنجلترا عام ١٦٨٩م إلى وجود الدستور الإنجليزي ونظام الحكم البرلماني الذي اعتبر نموذجاً تسعى إليه الدول الأوروبية مما جعل بريطانيا تشهد استقراراً سياسياً مهد لنجاح الازدهار الاقتصادي .

- وفرة رأس المال : كان للكشوف الجغرافية دور بارز في جعل إنجلترا مركزاً مالياً كبيراً حيث أصبحت المصارف الإنجليزية في لندن تتحكم في تجارة العالم وبالتالي أصبحت تملك ثروات مالية كبيرة مما سهل لها تمويل عمليات الصناعات بأشكالها المختلفة .





- سهولة الحصول على المواد الخام : أدى اتساع المستعمرات إلى سهولة حصول إنجلترا على المواد الخام اللازمة للصناعة.
- وجود القوى المحركة : توفرت لإنجلترا مصادر القوى المحركة التي تمثلت في المساقط المائية والفحم .
- الأيدي العاملة الرخيصة : ساهمت في تشغيل المصانع بتكلفة بسيطة مما ساعد على استخدام رأس المال في تغطية النفقات الأخرى للصناعة .
- تشجيع العلماء والمخترعين : حرصت الحكومة الإنجليزية وأصحاب رؤوس الأموال على دعم جهود العلماء والمخترعين وتوفير الإمكانات اللازمة لهم لإتمام اختراعاتهم وابتكاراتهم .
- وجود اسطول تجاري كبير : سهل لإنجلترا عملية نقل المواد الخام إلى مصانعها وإعادة تصديرها في شكل صناعات إلى أسواق العالم .

#### ٥- انهيار الإمبراطورية الاستعمارية البرتغالية في الشرق . ص ٥٣

- سوء إدارة المُستعمرات وانتشار الرّشوة .
- قسوة البرتغاليين في معاملة السكان الأصليين واجبارهم على اعتناق المسيحية.
- السلطة كانت في يد نائب الملك في (جوا) وهو المسؤول أمام الملك دون رقابة ولقصر مدة حكمه كان يقوم بابتزاز الأموال وعدم الاعتناء بالمستعمرة .
- منافسة الهولنديين و الإنجليز للبرتغاليين في مجال الاستعمار.
- فقدت البرتغال استقلالها كدولة و ضُمت للتاج الإسباني في عهد الملك فليب الثاني عام ١٥٨٠م ولمدة ٦٠ يوم .





## المقارنات

(\* ) قارن بين كل من:

وجه المقارنة	الاستيطان ص ٥١	التمييز العنصري ص ٥١
التعريف	هجرة مجموعة من سكان دولة أجنبية قوية إلى دولة ضعيفة وتملك الأرض بطرد السكان المحليين, وتكون الهجرة على شكل إرساليات تنصيرية , تجار , سياح .	أسلوب استعماري قائم على التفرقة بين الناس بسبب اللون أو الجنس أو الدين حيث مورست فيه ألوان من القهر والاستعباد .
المثال	- هجرة الأوروبيين لعالم الجديد و طرد الهنود الحمر. / - هجرة الأوروبيين لأستراليا و طرد السكان الأصليين. / - الغزو الصهيوني في فلسطين .	- جنوب أفريقيا . - فلسطين وممارسات الصهاينة .
وجه المقارنة	الانتداب ص ٥١	الوصاية ص ٥١
التعريف	ظهر إثر انتهاء الحرب العالمية الأولى عام ١٩١٩م حيث انتدبت الدول المنتصرة لإدارة شؤون الأقطار التي تحكمها الدولة العثمانية أو ألمانيا لهزيمتهما بالحرب بحجة الأخذ بيدها نحو التطور والاستقلال .	ظهر في أعقاب الحرب العالمية الثانية عام ١٩٤٥م حيث فقد وضعت المناطق التي كانت تحت النفوذ الألماني والإيطالي والياباني تحت وصاية دولة من اختيار الأمم المتحدة.
المثال	- سوريا ولبنان تحت الانتداب الفرنسي . - فلسطين والأردن تحت الانتداب البريطاني .	- الصومال تحت الوصايا الإيطالية . . - إقليم ناميبيا تحت وصاية اتحاد جنوب أفريقيا .

وجه المقارنة	نظرية بطليموس ص ٤٦	نظرية كوبرنيكوس ص ٤٦
في علم الفلك	بنى نظريته على أن الأرض محور الكون و أن الشمس والقمر والكواكب الأخرى تدور حول الأرض .	أن الشمس محور الكون وأن الكواكب الأخرى بما فيها الأرض تسير في مدارات حول الشمس .







## معلق

توماس أديسون صد ٦٧	الأخوان رايت صد ٦٦	وجه المقارنة
المصباح الكهربائي .	طائرة ذات محرك بنزيني .	الاختراع
استخدام الكهرباء في الإضاءة .	تطوير عالم الطيران .	أثر الاختراع

## معلق

		وجه المقارنة
المنطاد صد ٦٦	المكوك الطائر صد ٦٣	الاختراع
العالم بلانشارد	جون كي	أسم المخترع
عبور القنال الإنجليزي	زيادة سرعة النسيج	أثر الاختراع

## معلق

		وجه المقارنة
العالم مايكل فاراداي صد ٦٧	العالم هنري بسمر صد ٦٥	أسم المخترع
الدينامو	تحضير الفولاذ من الحديد	الاختراع
استخدام الطاقة الميكانيكية لتوليد طاقة كهربائية	انتاج آلات من الصلب .	أثر الاختراع



ما هو الفرق بين



فرق

( أ ) فرّق بين كل مما يلي :

الكشوف الجغرافية للرحالة ألكسندر ماكينزي	الكشوف الجغرافية للرحالة مارتن فروبشير
- اكتشف نهر "ماكينزي" - ونهر "بيس" - " بحيرة سليف الكبرى ". ص ٤٢	- وصل إلى " جزيرة شتلند" - " جزيرة جرينلند " - تمكن من اكتشاف "مضيق هدسن ". ص ٣٧
العامل الاستراتيجي لقيام النظام الاستعماري الأوروبي	العامل السكاني لقيام النظام الاستعماري الأوروبي
- استغلال المواقع الاستراتيجية لإقامة المحطات التجارية والقواعد العسكرية . - حماية خطوط المواصلات البحرية . - توفير خدمات للسفن التجارية . ص ٥٠	- الثورة الصناعية ساعدت على الزيادة السكانية لدول أوروبا . - تحسين الخدمات الطبية ساعد على الزيادة السكانية الطبيعية في أوروبا . - زيادة عدد السكان في أوروبا أدى إلى اتباع سياسة التهجير لأعداد كثيرة من سكان أوروبا إلى الأقاليم المستعمرة . - العمل على تجنيد سكان المستعمرات لصالح القوة العسكرية للدول الاستعمارية . ص ٥٠
المعاهدات والاتفاقيات الخاصة	الغزو العسكري
عقد معاهدة حماية بين دولة أوروبية (المستعمرة) والدولة الضعيفة تحت ستار من الحجج والأسباب . ص ٥١	الاحتلال بالقوة العسكرية . ص ٥١

( ب ) فرّق بين إنجازات كل من : معلق

ديلمر وبنز ص ٦٥	روبرت فولتن ص ٦٥
سيارة البنزين .	السفن البخارية .
صمويل موريس ص ٦٨	أليساندر فولتا ص ٦٧
التلغراف الكهربائي .	البطارية الكهربائية .





### ج) فرق بين النتائج السياسية للكشوف الجغرافية على كل من :

البرتغال ص ٤٥	أسبانيا ص ٤٥
احتلت البرازيل ومراكز تجارية على السواحل الأفريقية وسواحل الهند والخليج العربي .	احتلت أمريكا الوسطى وأجزاء مهمة من أمريكا الجنوبية وجزر الفلبين .



### \* دلل على صحة العبارات التالية :

#### ١- ساهم المفكرون الأوروبيون في احياء الدراسات اليونانية القديمة . ص ١٥

- تبادل علماء القسطنطينية وإيطاليا الزيارات العلمية بحثاً عن العلوم والفنون الإغريقية والإيطالية .
- تنافس الأمراء والأثرياء في إنشاء المكتبات مما أدى إلى ازدهار مكتبات البندقية وفلورنسا إلى جانب مكتبة الفاتيكان .
- ظهور الأكاديميات العلمية في إيطاليا مما ساعد على إثراء الحركة العلمية .
- جهود أسرة آل مديتشي في فلورنسا وأسرة سوفرزا في ميلانو لرعاية الحركة العلمية والأدبية والفنية .
- اختراع أحرف الطباعة المعدنية على يد الألماني "حناجوتنبرج" ١٣٩٦ - ١٤٦٨م أدى إلى سهولة طباعة الكتب وتداولها مما ساهم في نشر جهود العلماء وفي مختلف المجالات .

#### ٢- للاستعمار الأوروبي آثار إيجابية على المستعمرات . ص ٥٧

- حقق المستعمرون شيئاً من التنمية الاقتصادية للمستعمرات .
- ادخلوا إليها طرق الزراعة والصناعة والعلوم الطبية الغربية .
- ربط المستعمرات بالنظام الاقتصادي الدولي .
- أدخلت النظام الديمقراطي بالحكم في هذه المستعمرات .





### ٣- لعب الأمير هنري الملاح دوراً كبيراً في قيام حركة الكشوف الجغرافية قبل رحلته الكشفية. ص ٢٧

- أنشأ مدرسة بحرية التي اهتمت بتطوير الأدوات التي استخدمت في عملية الكشوف الجغرافية كالاهتمام برسم الخرائط .

- أنشأ مرصداً بحرياً في الطرف الجنوبي لشاطئ البرتغال .

- جلب علماء الرياضيات ورسمي الخرائط و الفلكيين من إيطاليا وصقلية .

- استعان بالمسلمين الذين كان لهم دراية في المجال البحري .

### ٤- حققت نتائج رحلة فاسكو دي جاما بتحقيق آمال البرتغاليين . ص ٢٩

- حقق أمل البرتغال في كشف طريق مباشر في الوصول إلى الهند خارج ديار المسلمين وكانت أكبر ضربة اقتصادية وجهت للعالم الإسلامي .

- أصبحت البرتغال في مركز متقدم في منطقة المحيط الهندي التجاري .

### ٥- للكشوف الجغرافية دور في تكوين دول وإمبراطوريات كبرى استعمارية وتأسيس مراكز تجارية ساحلية . ص ٤٥

- أسبانيا : احتلت أمريكا الوسطى وأجزاء مهمة من أمريكا الجنوبية وجزر الفلبين .

- البرتغال : احتلت البرازيل ومراكز تجارية على السواحل الأفريقية وسواحل الهند والخليج العربي .





## \* عدد ما يلي :

### ١- مراحل نمو المدن الأوروبية . ص ١٦

- تحالف المدن الصغيرة في شكل كومونات Commune مما منحها الاستغلال والقوة السياسية .
- ظهور الطبقة ( البرجوازية ) الوسطى التي تحالفت مع الملوك لتحطيم النظام الاقطاعي مما أحدث تغييراً كبيراً في ملامح المدن الأوروبية سياسياً واقتصادياً واجتماعياً .
- قيام ثورة ثقافية من خلال إنشاء المدارس في المدن بعيداً عن سيطرة الأديرة .

### ٢- العوامل الاقتصادية لقيام النظام الاستعماري الأوروبي . ص ٥٠

- رغبة الدول الأوروبية الاستعمارية في الحصول على المواد الأولية والأيدي العاملة الرخيصة لتشغيل المصانع بعد قيام الثورة الصناعية .
- تصريف المنتجات الصناعية الأوروبية في أسواق المستعمرات .
- العمل على استثمار أموالهم في المستعمرات .

### ٣- العوامل التي ساعدت البرتغاليين في تأسيس الإمبراطورية واحتكار تجارة الشرق . ص ٥٣

- انشغال الدولة العثمانية بحربها مع الصنّويين .
- عدم توحيد القوى الإسلامية الكبرى ( الدولة العثمانية - الصّفوية - المملوكية ) .
- تفكك بلاد الهند .
- استخدام البرتغاليون قوة السّلاح والبارود والأساطيل الضخمة حيث لم تكن متوفرة لدى شعوب الشرق .

### ٤- آراء نيقولا ماكيافلي السياسية في كتابة الأمير . ص ٢١

- تأييد نظام الحكم المطلق القائم على نظرية "التفويض الإلهي" التي تقول إنّ الملوك يمثلون الله على الأرض وأنهم يستمدون سلطتهم منه وليس من الشعوب التي يجب عليها الخضوع التام للملوك .
- إقرار مبدأ (أنّ الغاية تبرر الوسيلة) بمعنى أنّ من حق الحاكم اتخاذ كل وسيلة تحقق استقرار حكمه مما كانت متعارضة مع الدين أو الأخلاق و ان يعتمد على الحزم ليكون مرهوباً وأن يقيم المشروعات المفيدة للشعب ليكون محبوباً .

### ٥- الأسباب الدينية لقيام حركة الكشوف الجغرافية . ص ٢٦

- رغبة الدول الأوروبية بنشر المسيحية في المناطق المكتشفة .
- محاولة تطويق العالم الإسلامي . - تقوية الممالك المسيحية .







## \* عَرِّف المفاهيم والمصطلحات التالية :

<p>حركة التي انطلقت من إيطاليا ثم انتقلت إلى كافة أنحاء أوروبا بهدف إعادة اكتشاف الذات و إعادة إحياء الأمجاد اليونانية والرومانية القديمة في كافة مجالات العلوم و الآداب والفنون . <b>ص ١٢</b></p>	<p><b>النهضة الأوروبية</b></p>
<p>تحالف المدن الصغيرة مما يمنحها الاستقلال والقوة السياسية . <b>ص ١٦</b></p>	<p><b>كومونات</b></p>
<p>أدباء عبروا في كتاباتهم الأدبية عن صور الإنسان الذي يتصف بالإبداع والثقة في النفس والمحب للحياة بجوانبها المشرقة . <b>ص ١٧</b></p>	<p><b>الإنسانيين</b></p>
<p>الحركة التي قام بها الأوروبيون تعرفوا بها على أراضٍ جديدة لم تكن معروفة لهم من قبل خلال القرنين الخامس عشر والسادس عشر الميلاديين . <b>ص ٢٥</b></p>	<p><b>الكشوف الجغرافية</b></p>
<p>حاجة الأوروبيين إلى المزيد من الذهب والفضة . <b>ص ٢٥</b></p>	<p><b>مراجعة نقدية</b></p>
<p>نظرية كانت سائدة في أوروبا بالعصور الوسطى وتعني إنَّ الملوك يمثلون الله على الأرض . <b>ص ٢١</b></p>	<p><b>التفويض الإلهي</b></p>
<p>سفن عملاقة تميزت بكبر حمولتها واستعمالها لعدد أكبر من الأشرعة وازدياد القدرة على المغامرة وسط المحيطات . <b>ص ٢٦</b></p>	<p><b>الكرافيل</b></p>
<p>سيطرة دولة ما بالاتفاقيات السياسية أو القوة العسكرية أو القوة الاقتصادية أو المال أو التفوق التكنولوجي والعلمي على دولة أو عدة دول وتستغل مواردها وثرواتها لصالحها . <b>ص ٤٩</b></p>	<p><b>الاستعمار</b></p>
<p>استغلال دولة قوية لدولة أخرى ضعيفة بهدف السيطرة على مواردها الاقتصادية أو الانتفاع من موقعها الاستراتيجي أو من قوة الأيدي العاملة . <b>ص ٤٩</b></p>	<p><b>الاستعمار الأوروبي</b></p>
<p>نظام وضعته الدول الاستعمارية على المستعمرات فالمستعمرة يجب عليها ألا تتاجر مع أي دولة إلاَّ البلد المستعمر حيث تدخر له المحاصيل وأن لا تنشئ صناعات منافسة لها وأن تؤمن للمستعمر ما هو ضروري للصناعة كما يفرض النظام على المستعمرات البيع بسعر رخيص . <b>ص ٥٦</b></p>	<p><b>الميثاق الاستعماري</b></p>
<p>تغير كبير وسريع في المجتمع كله أو في جانب معين منه . <b>ص ٦١</b></p>	<p><b>الثورة</b></p>
<p>عملية تغيير شامل في أدوات الإنتاج ووسائله وحجمه وعلاقاته ومستواه وتبديل كامل في أساليب التمويل والتسويق والتوزيع . <b>ص ٦١</b></p>	<p><b>الثورة الصناعية</b></p>



## \* فَنَد العبارات التالية:

١- لم يكن للكشوف الجغرافية دوافع اقتصادية. ص ٢٥

عبارة غير صحيحة فللكشوف الجغرافية دوافع اقتصادية متعددة وهي :

- البحث عن التوابل .

- محاولة تخطي الوساطة التجارية الإسلامية وسيطرتها على طرق التجارة في الوصول إلى منابع التجارة الآسيوية والأفريقية.

- حاجة الأوروبيون إلى المزيد من الذهب والفضة ( مجاعة نقدية ) إلى خروج الأوروبيين للبحث مباشرة عن مناجم الذهب والفضة نتيجة الحروب التي عانت منها أوربا في آخر القرن الخامس عشر وترتب عليها حدوث أزمة اقتصادية في أوروبا .

٢- لم يكن للثورة الصناعية أي اختراع في مجال الكهرباء . ص ٦٧ معلق

عبارة غير صحيحة و الدليل على ذلك تمّ : - اختراع البطارية الكهربائية . - اختراع الدينامو .

- اختراع المصباح الكهربائي .

٣- للاستعمار الأوروبي آثار إيجابية فقط على الدول المستعمرة . ص ٥٧

عبارة غير صحيحة و الدليل على ذلك : - قامت الدول الاستعمارية باستغلال مستعمراتها واستفادة منها

اقتصادياً . - ألزام المستعمرات بإنتاج المواد الخام وشراء معظم السلع المصنعة من الدول الحاكمة .

- فقدت الشعوب المستعمرة القدرة على التحكم في مقدراتها الاقتصادية . - فرض الاستعمار ثقافتهم على الشعوب المستعمرة .

٤- اقتصر مواهب ليوناردو دافنشي في مجال الرسم . ص ١٩

عبارة غير صحيحة و الدليل على ذلك انه نبغ في عدة مجالات منها : - النحت - العمارة - الهندسة

- الرياضيات - العمارة - الأدب - الموسيقى - الشعر - علم التشريح .

