

الوطن العربي مقومات وملامح جغرافية

الأسئلة الأولى

عرف الوطن العربي مجموعة الدول العربية التي يجمعها عدد من السمات المشتركة مثل الدين واللغة ويمتد ضمن قارتين آسيا وافريقيا

أكمل العبارات الآتية بما يناسبها :

١	يمتد الوطن العربي ضمن قارتي.....
٢	اللغة الرسمية للدول العربية تسمى
٣	الدين الذي يجمع الدول العربية هو
٤	يبلغ عدد دول الوطن العربي
٥	دولة عربية تتكون من اتحاد ٤ جزر تسمى جمهورية..... وعاصمتها تسمى.....
٦	انضمت جمهورية جزر القمر الى جامعة الدول العربية عام.....
٧	تمثل مساحة الوطن العربي من جملة مساحة العالم حوالي.....
٨	تبلغ مساحة الوطن العربي حوالي.....
٩	القارة المجاورة لقارتي آسيا وأفريقيا تسمى قارة.....
١٠	أكبر الدول العربية في الجناح الآسيوي هي..... وأصغرها هي.....
١١	أكبر الدول العربية في الجناح الأفريقي هي..... وأصغرها هي.....
١٢	ينفصل الجناح العربي الآسيوي عن الجناح العربي الأفريقي عن طريق.....

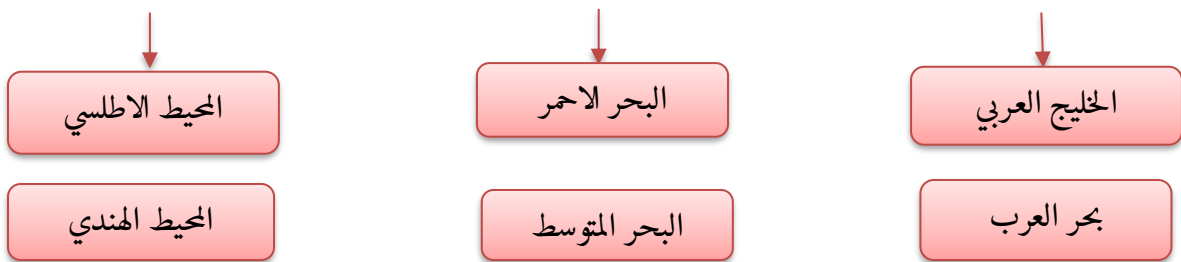
١	آسيا وأفريقيا	٥	جزر القمر - موروني	٩	أوروبا
٢	اللغة العربية	٦	١٩٩٣ م	١٠	السعودية البحرين
٣	الدين الاسلامي	٧	١٠%	١١	الجزائر - جزر القمر
٤	٢٢ دولة	٨	١٣,٥٠٠ مليون كم ٢	١٢	البحر الأحمر

أكمل المخطط السهمي التالي :-

مقومات الهوية العربية:-



المسطحات المائية التي يطل عليها الوطن العربي:-



Scan Me

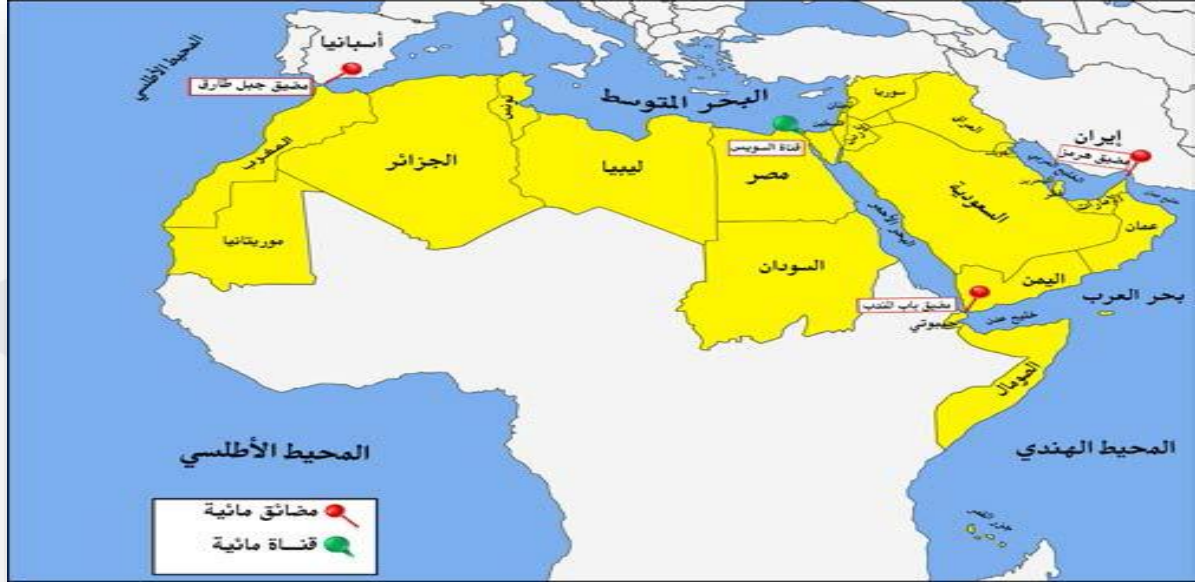


موقع الوطن العربي وحدوده



عرف ما يلي :-

الموقع النسبي	الموقع الفلكي
موقع الدولة بالنسبة لليابسة والماء	هو نقطة من الكرة الأرضية يتحدد موقعها بخطوط الطول ودوائر العرض



الموقع الاستراتيجي :

أي موقع ذي مكانة مهمة بين دول العالم

فرق بين المصطلحات الآتية :-

القناة	المضيق	المسطحات المائية
مجرى مائي صناعي ضيق يشق لأغراض الري والنقل.	ممر مائي ضيق يصل بين بحرين أو محيطين أو أي مساحتين كبيرتين نسبيا من الماء.	جميع أشكال المياه على سطح الأرض مثل المحيطات والبحار

علل لما يأتي :-

١) يتمتع الوطن العربي بموقع استراتيجي مهم.

- ◆ لأنه يقع في وسط العالم ويتحكم في منافذ التجارة
- ◆ ويطل على عدة مسطحات مائية

٢) ما الصفات التي يتمتع بها موقع الوطن العربي؟

- ١) حلقة الوصل بين الشرق والغرب، وبين الشمال والجنوب
- ٢) كثرة الموارد الطبيعية وتنوعها
- ٣) غني بالثروات الطبيعية
- ٤) يشرف على مضائق وممرات عالمية مهمة



Scan Me

قارن بين خطوط الطول ودوائر العرض :-

دوائر العرض	خطوط الطول	وجه المقارنة
خطوط وهمية ترسم على الكرة الأرضية وتقسّمها لشمال وجنوب	خطوط وهمية ترسم على الكرة الأرضية وتقسّمها لشرق وغرب	التعريف
١٨٠	٣٦٠	العدد
خط الاستواء	خط جرينتش	الخط الرئيسي
تقسيم الأرض لأقاليم حرارية	معرفة الوقت	مميزاته

حدود الوطن العربي :-

البحرية	البرية	حدود الوطن العربي
البحر المتوسط	تركيا	الشمال
الخليج العربي	إيران	الشرق
المحيط الاطلسي		الغرب

علل لما يأتي :-

١) للوطن العربي أهمية جغرافية كبيرة (اهمية استراتيجية)

- * يقع في وسط العالم
- * يطل على عدة مسطحات مائية لها اهمية للملاحة والتجارة

٢) الوطن العربي يمتلك أهمية اقتصادية.

- * لأنها منطقة عبور لحركة الملاحة والتجارة العالمية
- * ظهور النفط بكميات كبيرة
- * سكان الوطن العربي يشكلون ٥% تقريبا من سكان العالم.

٣) تنافس الدول الاستعمارية للاستيلاء على الوطن العربي منذ القرن الثامن عشر الميلادي

- لأهمية موقع الوطن العربي الاستراتيجية
- لأنه يتحكم في منافذ التجارة العالمية
- يطل على مسطحات مائية ذات أهمية كبيرة للملاحة والتجارة العالمية

٤) للوطن العربي أهمية حضارية وثقافية.

قامت على ارضه حضارات عديدة وهبطت على أرضه الديانات السماوية الثلاثة (اليهودية - المسيحية - الإسلام)

أكمل العبارات الآتية بما يناسبها:

المسطح المائي الذي يحد الوطن العربي من الغرب يسمى	١
يقع الوطن العربي بالنسبة لقارة اسيا في جهة.....	٢
يقع الوطن العربي بالنسبة لقارة افريقيا.....	٣
يشكل سكان الوطن العربي من سكان العالم حوالي.....	٤
الدولة العربية التي يمر بها خط الاستواء هي.....	٥
الدولة العربية التي يمر بها خط جرينتش هي.....	٦



Scan Me

القارة المجاورة للوطن العربي من جهة الشمال هي	٧
الدولة التي تشرف على قناة السويس هي	٨
يمتد القسم الأكبر من الوطن العربي في	٩
ممر مائي ضيق يصل بين بحرين أو محيطين يسمى	١٠
مجري مائي صناعي ضيق يشق لأغراض الري والنقل يسمى	١١

الجناح الأفريقي	٩	الصومال	٥	المحيط الأطلسي	١
المضيق	١٠	الجزائر	٦	جنوب غرب	٢
القناة	١١	أوروبا	٧	شمال وشمال شرق قارة إفريقيا	٣
		مصر	٨	٥ %	٤

ملاحظ السطح في الوطن العربي

عرف المفاهيم الآتية:-

()	أشكال سطح الأرض من مرتفعات ومنخفضات	١
()	كل ما ارتفع من الأرض له قمة لا يقل عن ١٠٠٠ متر	٢
()	كل ما ارتفع من الأرض ولا يصل ارتفاعه الى ١٠٠٠ متر	٣
()	ارض مرتفعة سطحها مستوي وتمتد على مساحة كبيرة	٤
()	مساحة من سطح الأرض تتميز باستوائها وقلة ارتفاعها	٥

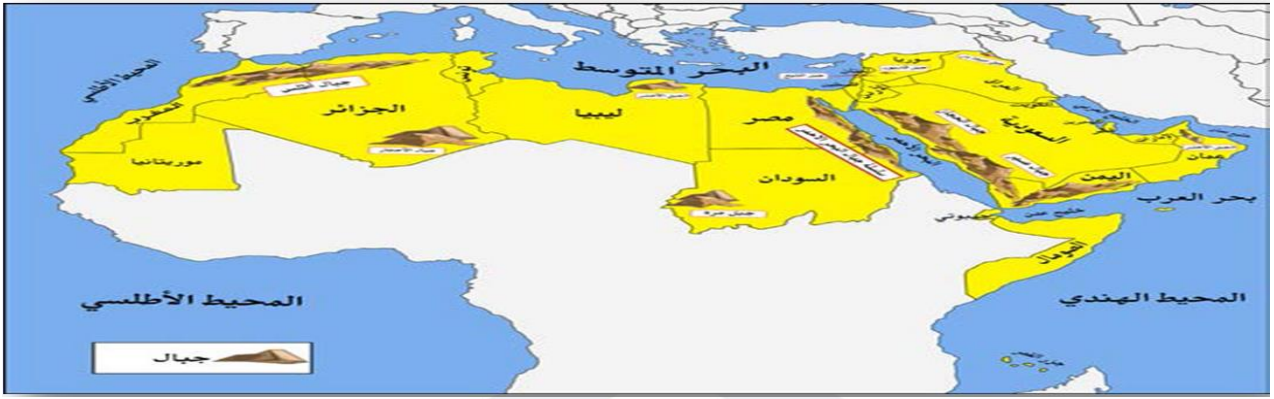
السهول	٥	التل	٣	التضاريس	١
		الهضاب	٤	الجبل	٢

اهم الجبال التي تقع في الوطن العربي في الجناح الاسيوي والافريقي:-

الجناح الافريقي		الجناح الاسيوي	
الدولة التي يقع فيها	اسم الجبل	الدولة التي يقع فيها	اسم الجبل
مصر - السودان	*جبال البحر الاحمر*	سوريا	جبل قاسيون
السودان	*جبل مرة*	عمان	الجبل الأخضر
المغرب - الجزائر	*جبال أطلس*	السعودية	جبال الحجاز
الجزائر	*جبال الاجار*	السعودية	جبال عسير
ليبيا	*الجبل الاخضر*	سوريا - لبنان	جبل الشيخ



Scan Me

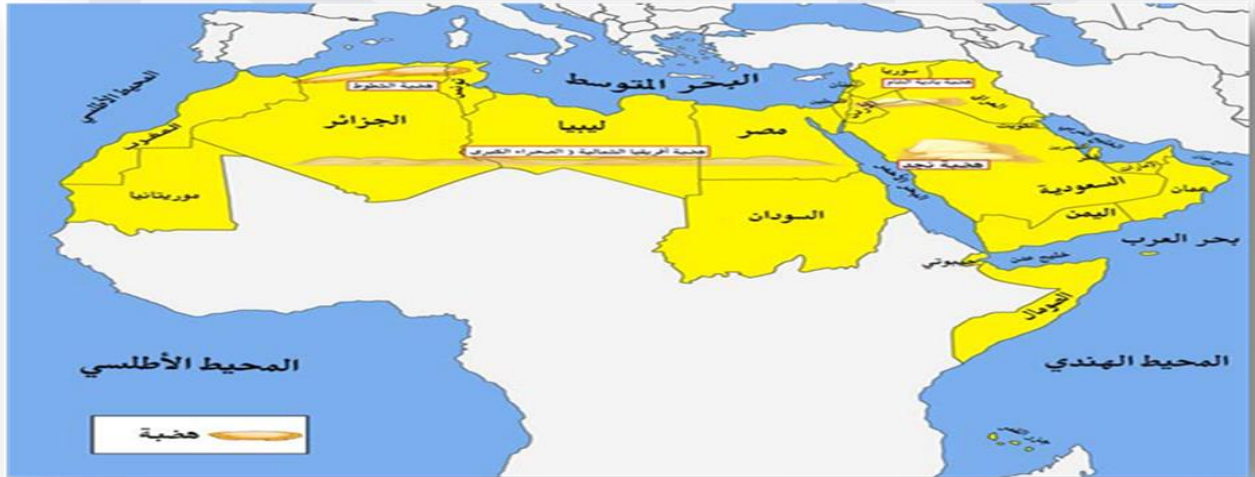


اهم الهضاب التي تقع في الوطن العربي في الجناح الآسيوي والافريقي:

اسم الهضبة	الدولة التي تقع فيها	اسم الهضبة	الدولة التي تقع فيها
★ نجد	★ السعودية	★ الصحراء الكبرى	★ مصر - ليبيا - الجزائر
★ بادية الشام	★ العراق - سوريا - الاردن	★ الشطوط	★ الجزائر

علل لما يأتي: -

١) تعد الهضاب أكثر الأشكال التضاريسية إنتشارا في الوطن العربي
* لأنها تشغل مساحات واسعة تمتد من الشرق إلى الغرب



اهم السهول التي تقع في الوطن العربي في الجناح الآسيوي والافريقي: -

اسم السهل	نوعه	الدول التي يقع فيها السهل
★ سهول دجلة والفرات	★ فيضية	★ العراق - سوريا
★ سهول نهر الاردن	★ فيضية	★ الاردن
★ سهول نهر العاصي	★ فيضية	★ سوريا
★ سهول المحيط الهندي	★ ساحلية	★ اليمن - عمان
★ سهول الخليج العربي	★ ساحلية	★ دول الخليج العربي
★ سهول البحر الاحمر	★ ساحلية	★ السعودية - اليمن
★ سهل لبنان	★ ساحلية	★ لبنان



Scan Me